

Relie chaque collection aux écritures qui conviennent.

$5 + 5 + 5 + 5$




$8 + 8$

$7 + 7 + 7$

2×8

$2 + 2 + 2 + 2 + 2 + 2 + 2 + 2$

$4 + 4 + 4 + 4 + 4 + 4$



4×6

4×5

3×7

$6 + 6 + 6 + 6$

$3 + 3 + 3 + 3 + 3 + 3 + 3$

Trouve une addition et une multiplication pour chaque collection.

