












**Maths**

**Problème**

## 1. Enoncé :

**Observe ce tableau. Il indique quels baskets tu peux commander par Internet.**

**Il y a le modèle, la marque, et le prix.**

		
Nike Flyknit Racer ...	Nike Sb Stefan Janoski ...	Nike Free 5.0 Noir,Gris ...
160,00 €	60,00 €	92,00 €
Nike.com	Nike.com	Nike.com
		
Nike Sb Stefan Janoski Max ...	Nike Magista Obra Fg Citron	Nike Free 5.0 Noir,Gris ...
99,00 €	275,00 €	79,00 €
Nike.com	foot Locker	foot Locker
		
Nike Zoom LeBron Soldier	Nike Free 5.0 Rose ...	Nike Huarache Noir
139,00 €	90,00 €	89,00 €
Nike.com	Nike.com	Foot Locker

## 2. Exercice :

### + Question 1 :

Max rêve d'une paire de Nike. Il a économisé **10 euros par mois pendant un an.**

1/ Calcule combien il a économisé

.....

Schéma, Opération (si tu as besoin)

Réponse : .....

2/ Indique **tous les modèles** qu'il peut choisir (il y en a plusieurs)

Réponse : .....

.....

### + Question 2 :

Diego veut s'acheter une paire de Nike Zoom LeBron Soldier. Il a un budget de 80 euros mais son frère veut bien lui prêter de l'argent. Combien Diego doit-il lui demander ?

.....

.....

Réponse : .....

### + Question 3 :

Thomas veut acheter les Nike Free 5.0 en noir. Il hésite entre commander chez Nike ou chez Foot Locker car il y a 7,00€ de livraison chez Nike et 15,00€ chez Foot Locker. Qu'en penses-tu ?

.....

.....

Réponse : .....