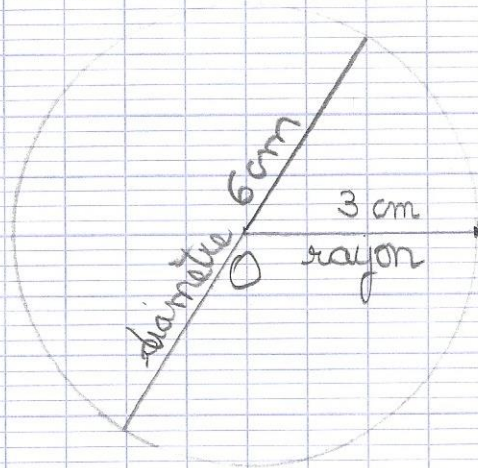


Exercice 3

Tu sais que le diamètre est égal à 6cm.
Le rayon est donc égal à la moitié : 3cm
Tu dois donc prendre un écartement de compas de 3cm.



Opérations :

$$\begin{array}{r} 129,49 \\ + 15,70 \\ \hline 145,19 \end{array}$$

$$\begin{array}{r} 168,900 \\ + 1,634 \\ \hline 170,534 \end{array} \quad \begin{array}{r} 169,18 \\ - 16,38 \\ \hline 152,80 \end{array}$$

Vocabulaire :

- Exercice 1 p: 170
- (a) Le professeur observe la classe.
 - (b) Les nouveaux vêtements sont trop grands.
 - (c) Thomas a lu très vite son livre.
 - (d) La réponse est évidente.

Exercice 2 p: 171

- (a) La grippe me clove au lit ...
- (b) Chouette! Mon anniversaire tombe un samedi.
- (c) Je brule d'impatience de revoir mon amie.

Correction du travail de la journée du 9 avril

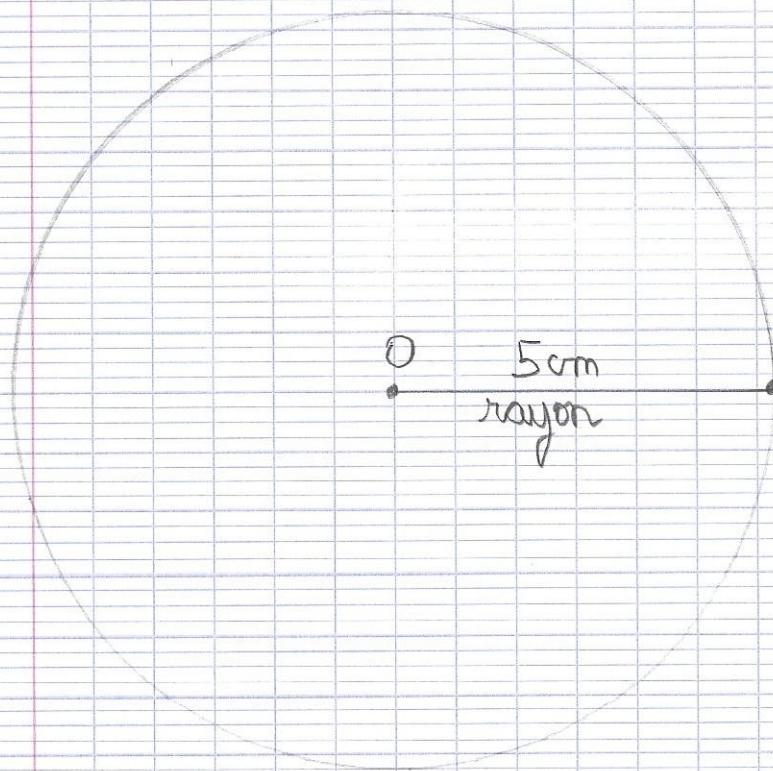
Géométrie :

Exercice 1 p: 128

- (a) Le point O est le centre du cercle.
- (b) Le segment $[OB]$ est un rayon du cercle.
- (c) Le segment $[AB]$ est un diamètre du cercle.

Exercice 2 p: 128

Il faut prendre un écartement de compas de 5cm.
(Tu dois utiliser le crayon à papier)



1 Un pâtissier a fabriqué des chocolats. Il les range dans des sachets en mettant 7 chocolats par sachet. Il remplit exactement 65 sachet.
Combien de chocolats a-t-il fabriqués ?

$$\begin{array}{r} 65 \\ \times 7 \\ \hline 455 \end{array}$$

Il a fabriqué
455 chocolats.



2 Frédéric et Jasmina font une collection de boîte d'allumettes du monde entier. Frédéric a 113 boîtes d'allumettes et Jasmina en a 345.
Combien de boîtes d'allumettes Jasmina a-t-elle de plus que Frédéric ?

$$\begin{array}{r} 345 \\ - 113 \\ \hline 232 \end{array}$$

Jasmina a 232
boîtes de plus que
Frédéric.



3 Un groupe de 17 personnes veut faire un séjour d'une semaine en Tunisie. Ce séjour coûte 400€ par personne.
Combien devront-elles payer en tout ?

$$400 \times 17 = 6800$$

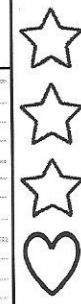
Elles devront payer
6800 euros en tout.



4 Dans un avion, il y a 40 places. Pour un trajet Paris-Stokholm, on a déjà vendu 27 places à 200€ et 8 places à 300€.
Combien de places restent-il à vendre ?

On a déjà vendu $27 + 8 = 35$ places.
 $40 - 35 = 5$

Il reste 5 places
à vendre.



3 étoiles : Une si l'opération ou le dessin sont adaptés, une si le résultat est juste, une si la phrase réponse est bien formulée
+ 1 cœur - bonus si l'orthographe est correcte.