



A) Scène de danse en costumes traditionnels sur l'île d'Ua'u, aux Tonga. © J. S. / Contrasto / Getty Images



B) L'huile à moulin, par Gauguin, huile sur toile, Paul Gauguin, 1897, Musée d'Art Moderne - La Défense

DROM et COM



Séquence



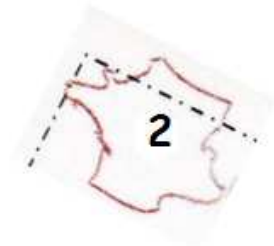
1) La France est un morceau d'Europe

Le territoire français européen d'une superficie de 550 000 km², a une forme massive qui ressemble à un ??????????



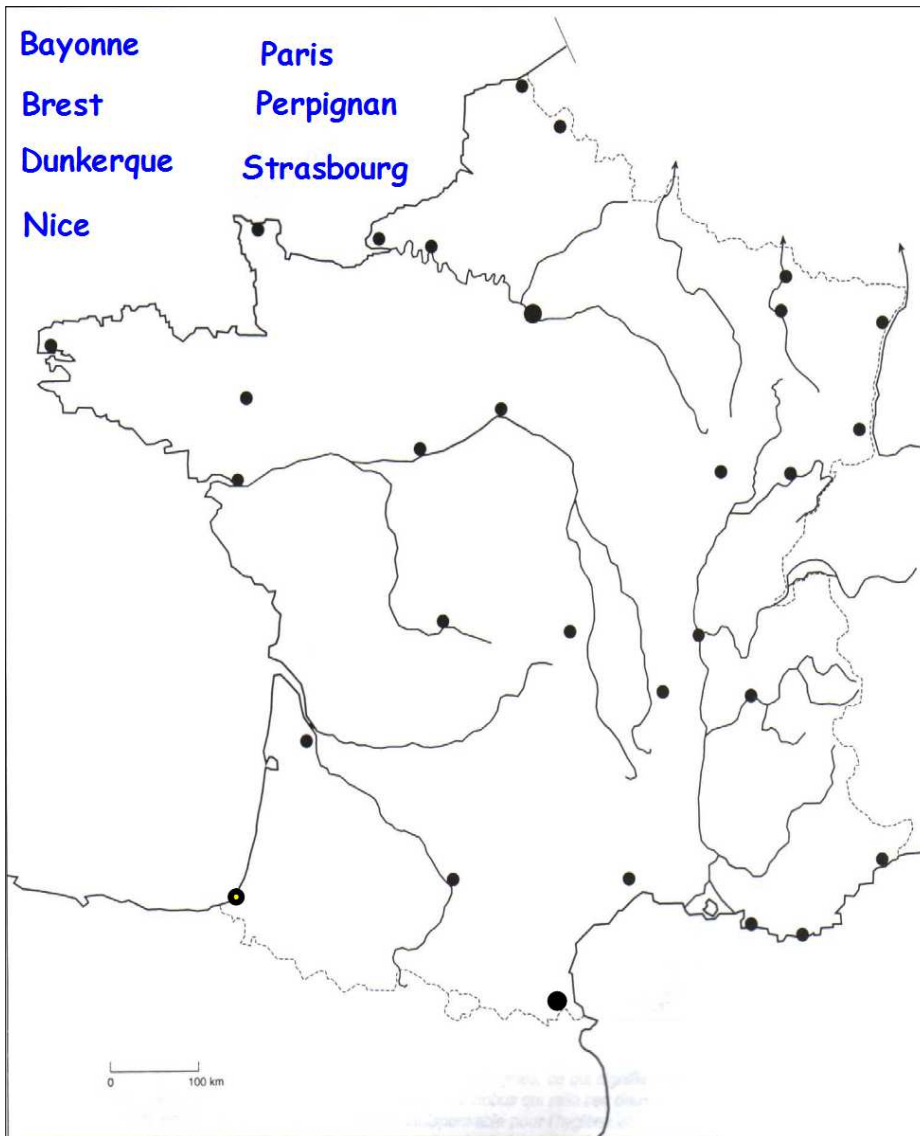
A l'est, il est largement ouvert sur le continent européen.
Il a des frontières terrestres communes avec 6 pays européens :

????????????????????



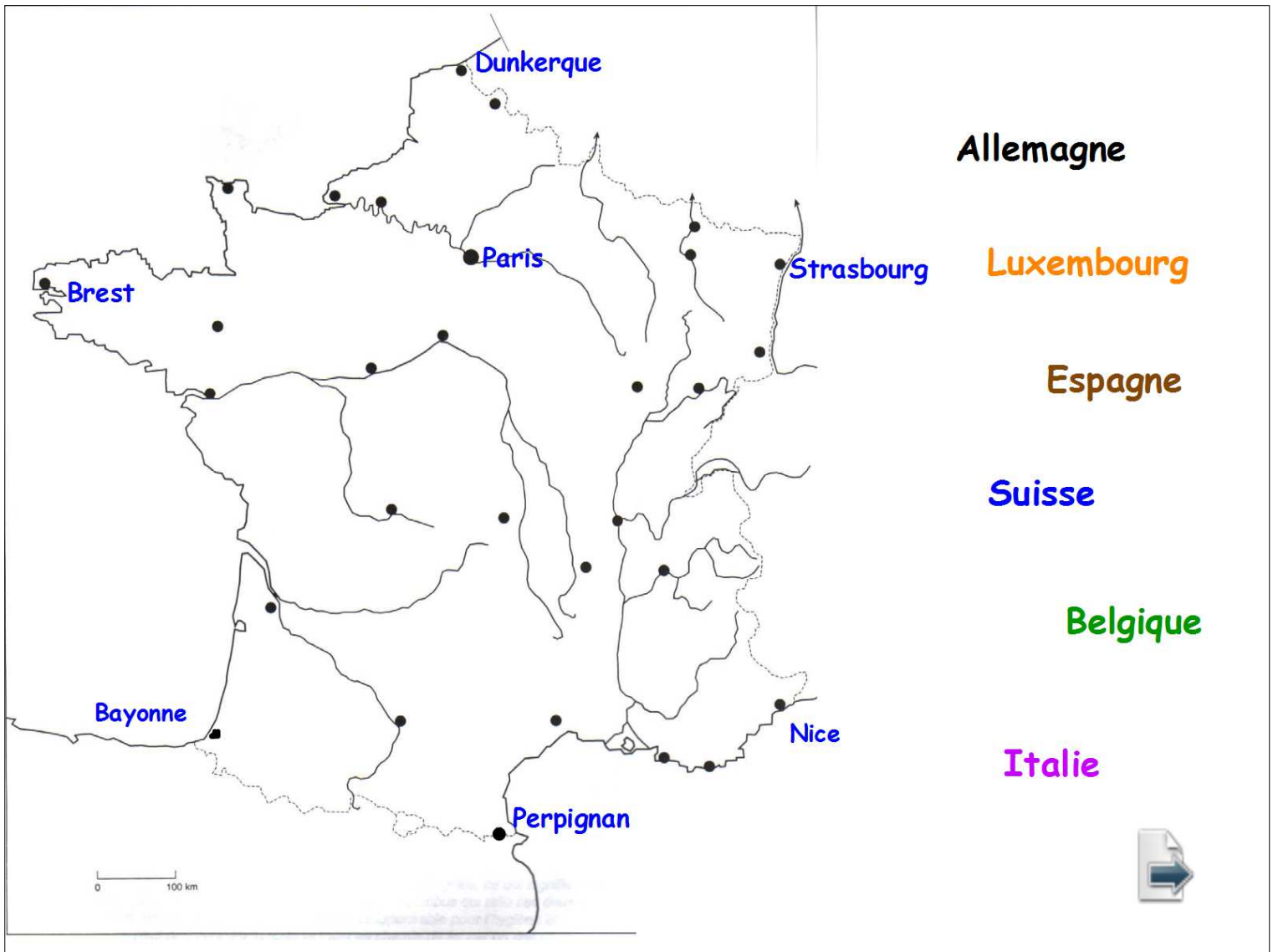
A l'ouest et au sud, le territoire français s'ouvre sur trois grandes façades maritimes :





triangle octogone
pentagone
rectangle cercle
carré hexagone





Allemagne

Luxembourg

Espagne

Suisse

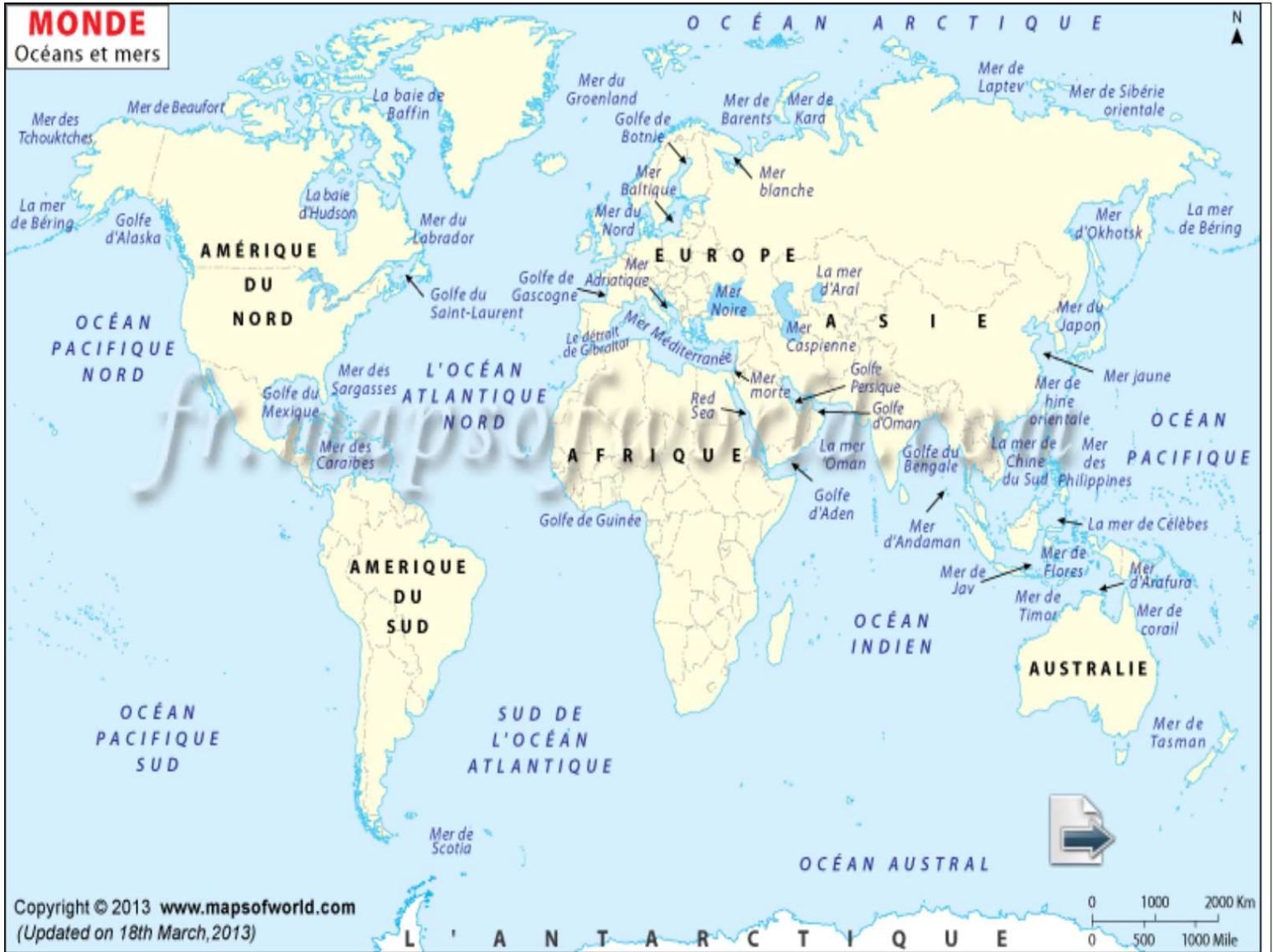
Belgique

Italie



MONDE

Océans et mers



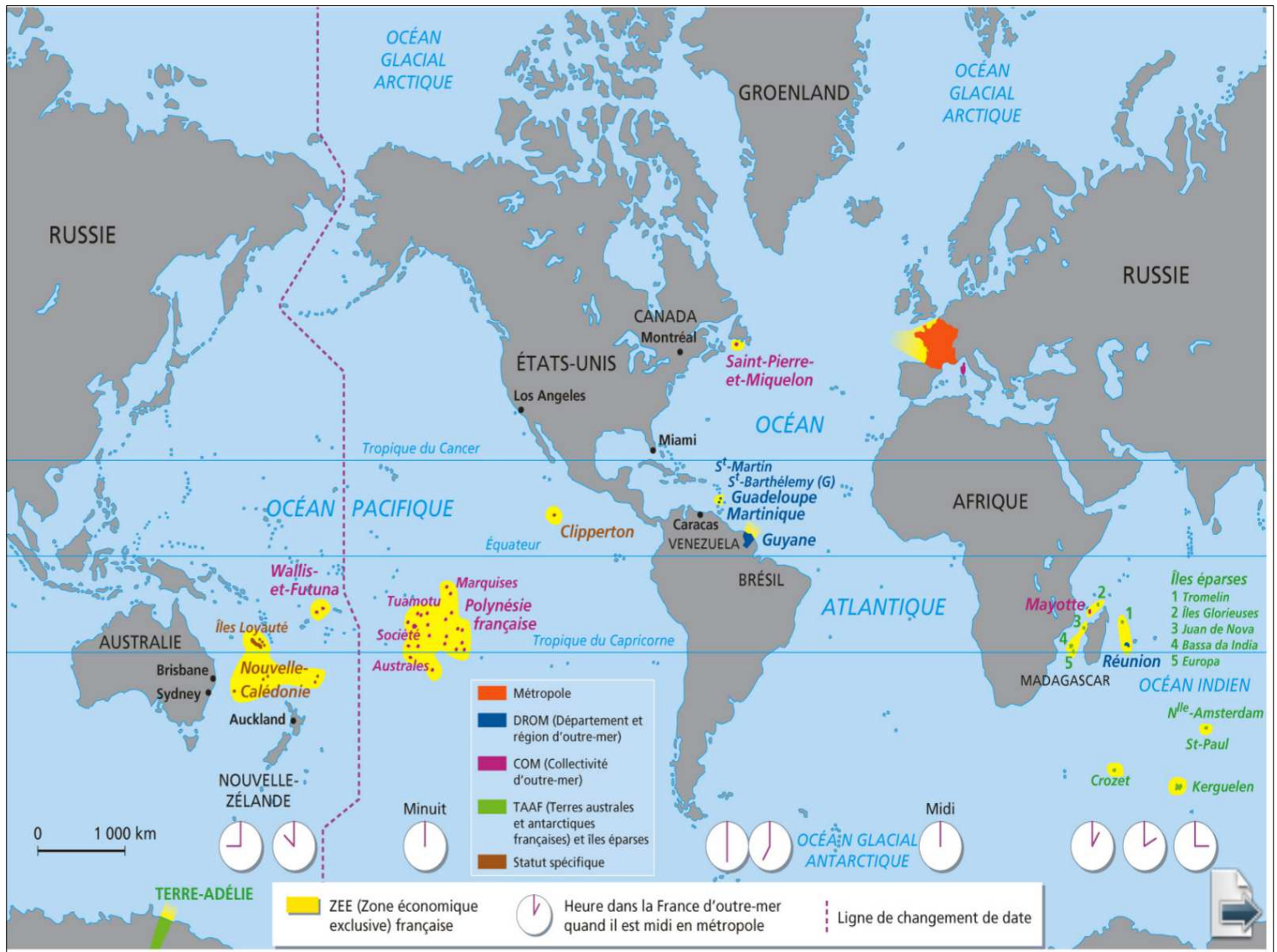
2) Des territoires dispersés sur cinq continents.

La France n'est pas composée que de la Métropole. Elle comporte aussi des départements, régions et collectivités d'Outre-mer (DROM et COM) qui sont situés très loin de la Métropole, dans l'océan Atlantique, l'océan Indien, l'océan Pacifique et l'Antarctique.

La plupart sont des îles tropicales. Seule la Guyane est sur le continent sud-américain. Certains territoires sont en zone froide, comme la Terre Adélie ou les îles Crozet et les Kerguelen.

L'Outre-mer français est soumis à des climats particuliers et est davantage exposé que la Métropole à des risques naturels : cyclones, tremblements de terre, éruptions volcaniques.





Saint Pierre et Miquelon

**Saint Martin
et Saint Barthélemy**

Martinique

Guyane

Guadeloupe

Nouvelle Calédonie

Wallis et Futuna

Clipperton

Tahiti

Réunion

Mayotte

Kerguelen



Fiche Exercice 3
Localisation des DROM - COM

Nom :

Date :

**Connaître la localisation des territoires ultramarins français ;
utiliser les repères spatiaux**

2 Réponds aux questions suivantes.


a. Qu'est-ce qu'un territoire ultramarin ?

.....

b. Qu'est-ce qu'un territoire métropolitain ?

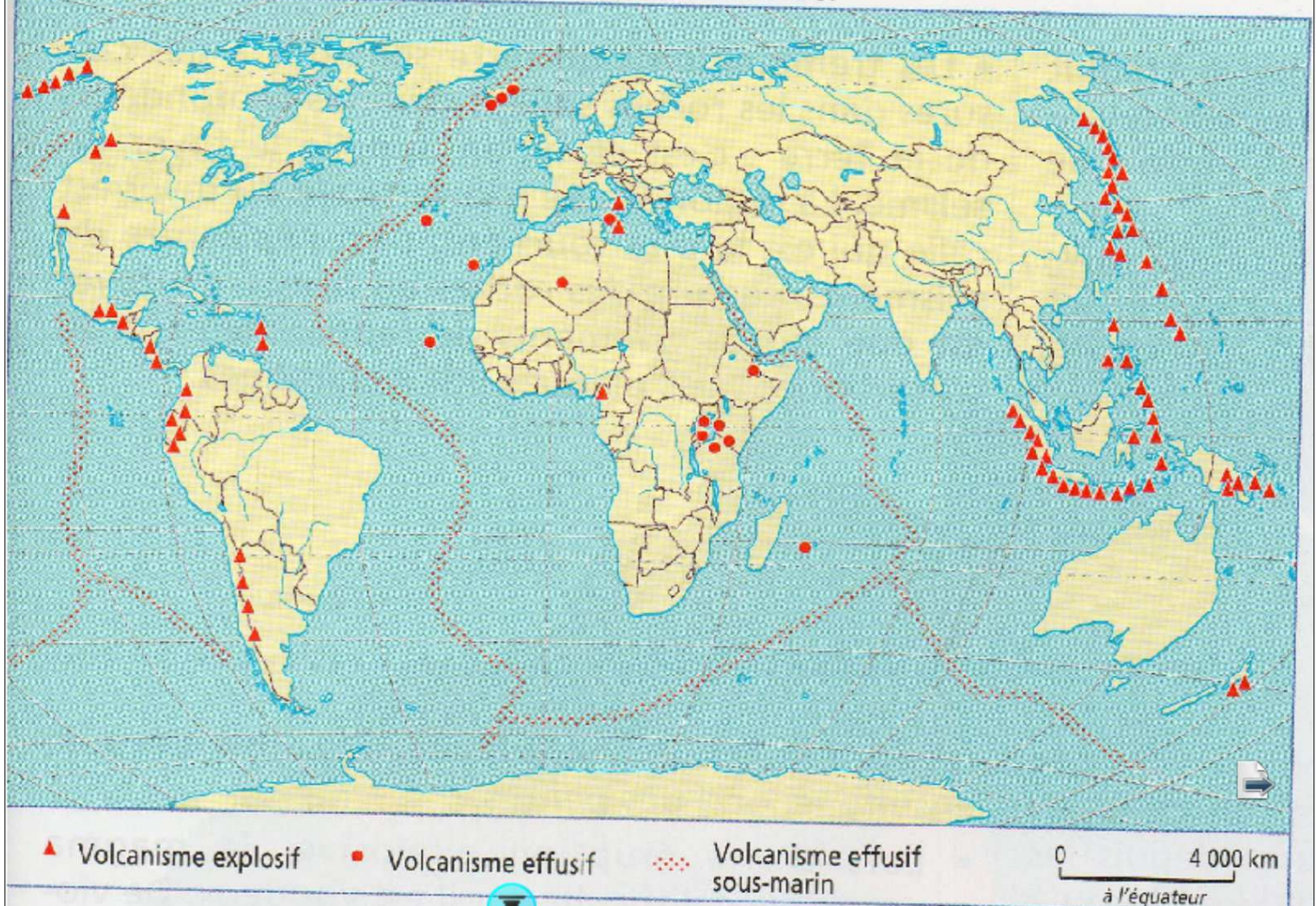
.....

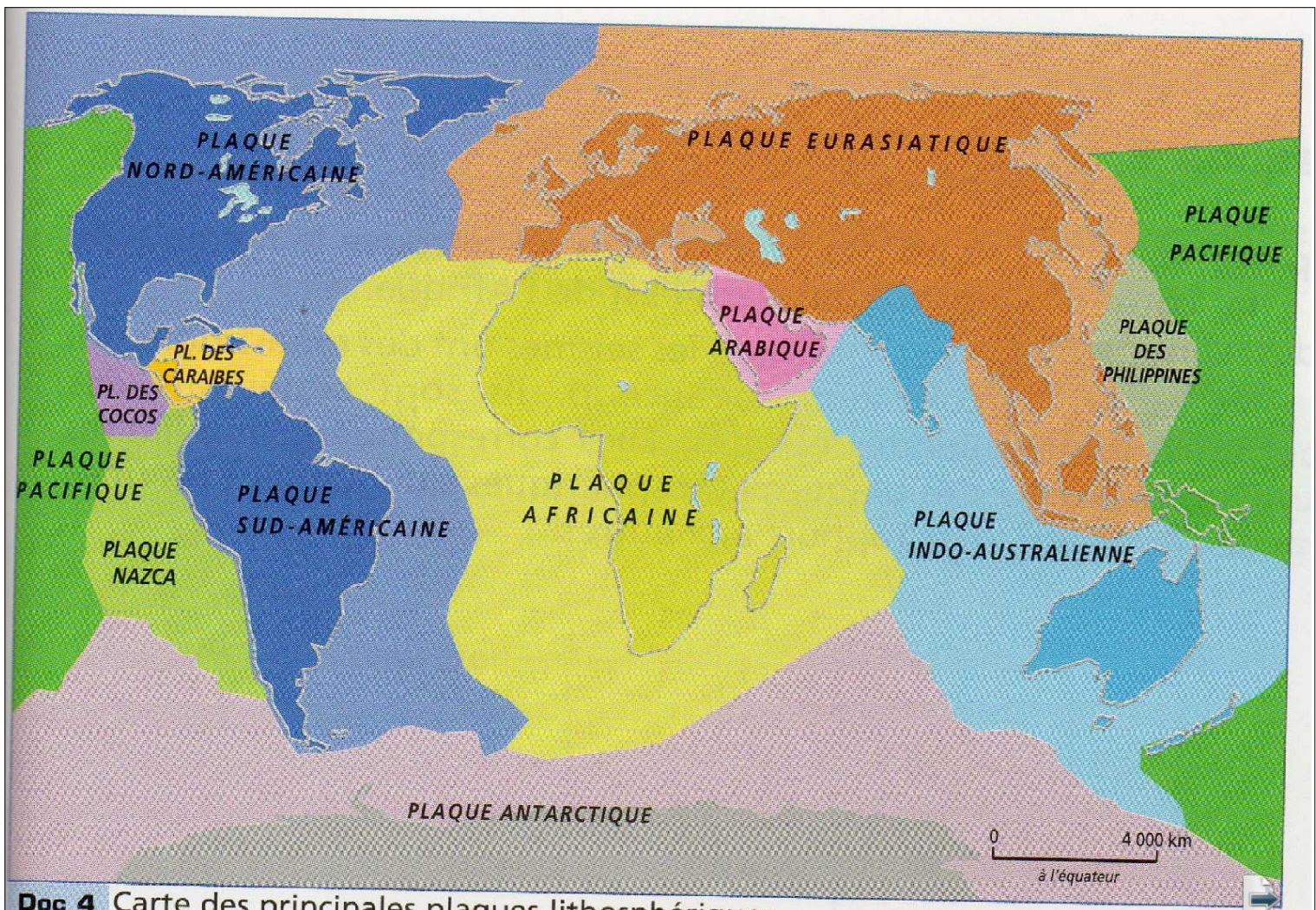
3 a. À l'aide de tes connaissances, complète le tableau suivant en indiquant le nom du territoire ultramarin correspondant à chaque localisation.

		Territoire
A	Île de l'hémisphère Sud, dans l'océan Indien, au nord de Madagascar.
B	Territoire situé entre le Surinam et le Brésil, dont le littoral nord-est borde l'océan Atlantique. 
C	Îles au large des côtes nord-américaines, à l'est du Canada, dans l'océan Atlantique.

Doc 3 Carte de répartition des volcans dans le monde.

Magnard 64 enquêtes pour
comprendre le monde cycle 3





Doc 4 Carte des principales plaques lithosphériques.

Magnard 64 enquêtes pour
comprendre le monde cycle3

DROM - COM Fiche exercice 2

Prénom

Nom

Identifier la notion de risques naturels dans un texte

- 1** Lis le texte ci-dessous. Réponds ensuite aux questions à l'aide des informations qu'il contient et de tes connaissances.

Août 2011, en Martinique : un séisme de 5,1 secoue l'île

Après la tempête tropicale Emily, qui a touché la Martinique et la Guadeloupe en début de semaine et fait un mort par électrocution en Martinique, ce sont tout d'abord les glissements de terrain dus aux fortes pluies qui ont mis en danger les Antillais. Ensuite, dans la nuit de samedi à dimanche, vers minuit, les Martiniquais se sont fait réveiller par un tremblement de terre dont l'épicentre a été localisé à 72 km à l'est de Sainte. Le séisme a fait peu de dégâts, et a surtout été ressenti dans le sud de l'île. La Martinique et la Guadeloupe sont situées sur la plaque tectonique de la Caraïbe, les sismologues redoutent un séisme aussi fort que celui qui a dévasté Haïti en 2010.

D'après Podcast Journal, 08/08/2011

http://www.podcastjournal.net/Martinique-un-seisme-de-51-secoue-l-ile_a9120.html

- a. Quels types de risques les Antillais ont-ils subi pendant l'été 2011 ?



La forme actuelle de notre territoire est le résultat d'une lente construction, commencée dès le Moyen Âge à partir du domaine royal de l'Ile de France. Les frontières actuelles sont nées d'alliances, de guerres et de traités qui ont agrandi le territoire français jusqu'au XIXème siècle, avec l'annexion en 1861 de Nice et de la Savoie. Depuis, en dehors des périodes de guerre, les frontières de la France métropolitaine n'ont pas changé.

4) L'héritage d'un passé colonial

Les DROM-COM sont des territoires hérités de l'Empire colonial français. Ces territoires ont été peuplés par la contrainte, par la Traite des Noirs, comme dans les Antilles où l'esclavage n'a été aboli qu'en 1848.





L'abolition de l'esclavage dans les colonies françaises en 1848, huile sur toile, François Auguste Biard, 1849, château de Versailles - © RMN / Gérard Blot.



LE POIDS DE L'HISTOIRE COLONIALE

Fiche 1

Cycle 3

Nom(s) :

Classe :

Observe attentivement le poster, puis effectue les exercices.

1 Quelle est la nature de ce document ? Entoure la bonne réponse.

une affiche un tableau une gravure

2 Observe le personnage qui se trouve à gauche du document. Quel est le drapeau placé à ses côtés ? Que porte-t-il autour de la taille ?

.....
.....

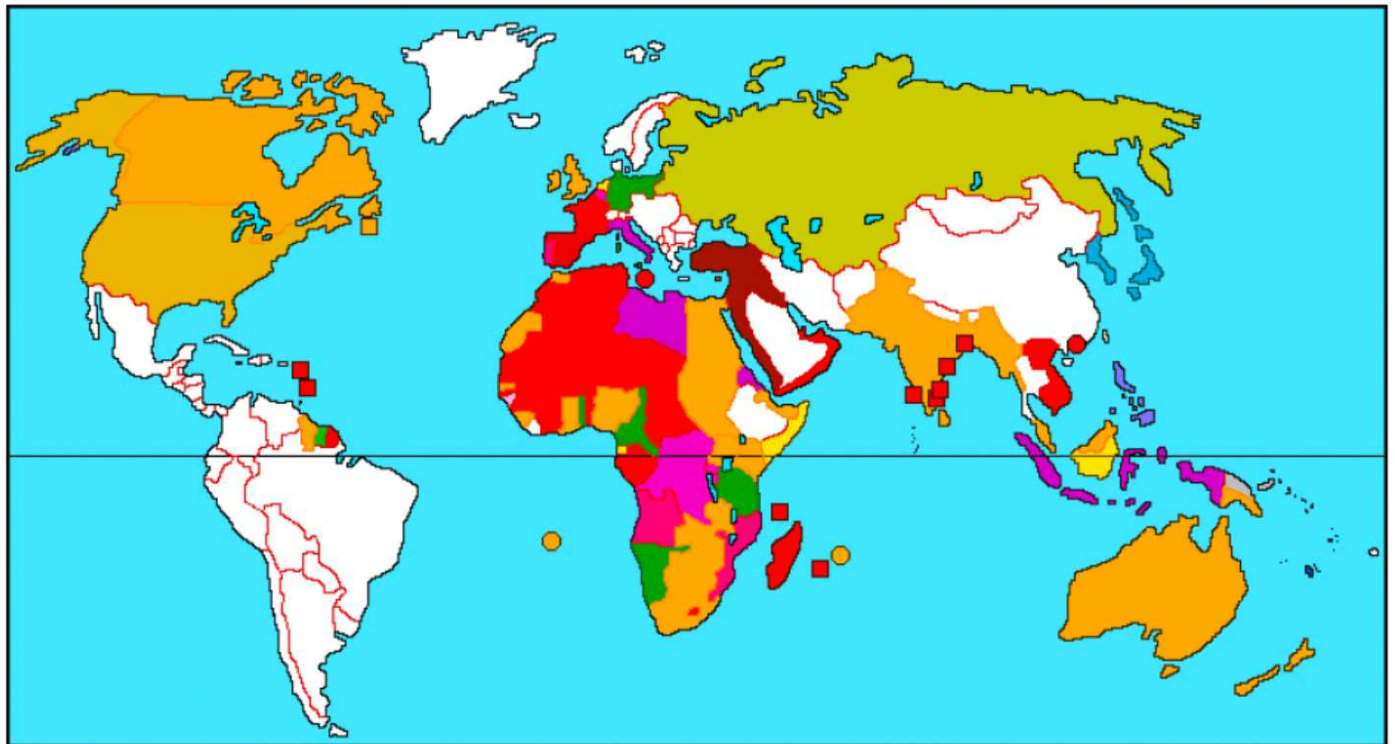
3 D'après toi, qui est ce personnage ? Quel geste est-il en train de faire ?

.....
.....

4 Que font les deux hommes qui se trouvent au centre du document ?

.....
.....





1. Comparez cette carte à la carte des DOM-TOM précédemment construite. Quels territoires sont devenus indépendants ? À quels pays correspondent-ils aujourd'hui ?



Territoire	Situation	Nouveau statut	Population	Superficie
Guyane française	Amérique du Sud	DROM département et région d'outre-mer	187 000	86 504 km ²
Guadeloupe	Antilles	DROM département et région d'outre-mer	422 222	1 780 km ²
La Réunion	Océan Indien	DROM département et région d'outre-mer	793 000	2 512 km ²
Martinique	Antilles	DROM département et région d'outre-mer	381 325	1 100 km ²
Nouvelle-Calédonie	Océanie	POM pays d'outre-mer	196 000	18 585 km ²
Polynésie française	Océanie	POM pays d'outre-mer	219 521	4 200 km ²
Wallis-et-Futuna	Océanie	COM collectivité d'outre-mer	14 492	200 km ²
Terres australes et antarctiques françaises	Antarctique	TOM territoire d'outre-mer	128	439 000 km ²
Mayotte	Océan Indien	COM collectivité d'outre-mer départementale	184 770	375 km ²
Saint-Pierre-et-Miquelon	Amérique du Nord	COM collectivité d'outre-mer territoriale	6316	242 km ²
Saint-Barthélemy	Antilles	COM collectivité d'outre-mer	8450	21 km ²
Saint-Martin	Antilles	COM collectivité d'outre-mer	33 000	93 km ²
Total :				



a) Les Départements et région d'outre mer (DROM) :

En 1946, les Antilles (Martinique et Guadeloupe), la Guyane française et la Réunion sont devenues des départements et régions d'Outre-mer (DOM).

Depuis 2003, ce sont des départements et régions d'Outre-mer (DROM).

Les lois et l'organisation politique sont identiques à celles de la métropole.

b) Les collectivités d'outre-mer (COM) : Saint Pierre et Miquelon, Mayotte, Saint Barthélémy et Saint Martin, Wallis et Futuna.

Elles ont un statut particulier et une certaine autonomie.

c) Pays d'outre-mer (POM): La Polynésie française, la Nouvelle Calédonie

Ils ont une assemblée élue au suffrage universelle qui gère les affaires intérieure et la France assure les fonctions de Défense, de Justice et de Relations Extérieures. Ils pourraient obtenir leur indépendance à l'avenir.

d) Territoires d'Outre-mer (TOM) : Terres australes et Antarctique françaises

Les Îles Kerguelen sont administrées directement par la France.



Résumé

En raison de son histoire coloniale, la France conserve des territoires dispersés dans le monde, qu'on désigne sous le nom d'Outre-mer.

La plupart des départements, régions et collectivités d'Outre-mer (DROM-COM) sont des îles tropicales (Martinique, Guadeloupe, la Réunion, Mayotte, Nouvelle-Calédonie, Polynésie française) situées dans tous les océans du globe.

Grâce à ces territoires, la France est présente partout dans le monde.

Lexique

COM : collectivité d'Outre-mer. Créées en 2003, elles ont des statuts particuliers pour tenir compte de leurs intérêts propres .

DROM : département et région d'Outre-mer.

Outre-mer : territoires français situés au-delà des mers.

Territoire : espace approprié par une société, limité par des frontières et géré par un pouvoir politique.



Fiche Exercice 4 Population en DROM - COM

Nom :
Date :

Identifier quelques dynamiques démographiques. Savoir lire un graphique.

- 4 Ce graphique concerne la population de Mayotte en 2007. L'axe vertical indique les âges, l'axe horizontal donne le nombre de personnes par tranche d'âge. Observe le graphique et réponds aux questions suivantes.

