

1. Jogging d'écriture

Si j'étais un chanteur (une chanteuse) célèbre...

Quelques écrits reçus :

Je m'achèterais une Ferrari rouge claire et j'irais faire des courses sur des circuits avec d'autres pilotes. Si j'étais un chanteur célèbre je passerais à la télévision et je partirais à l'île Maurice voir mes cousins, ma tata et mon tonton, j'aurais une villa bord de la mer et j'aurais une piscine de 30 mètres.

Yann

Je gagnerais plein d'argent et je m'achèterais des pistolets « nerf », pour jouer avec mes copains, et des jeux vidéo que j'aime. Je créerais des chansons qui plairont à tout le monde.

Benjamin

Je serais ravie de monter sur scène. Je pourrais rencontrer des célébrités et je serais contente d'être célèbre.

Isra

Si j'étais une chanteuse célèbre je pourrais chanter, tout le monde m'aimerait beaucoup. Je pourrais chanter très fort et je serais célèbre. Je voyagerais beaucoup, je ferais le tour du monde. J'achèterais une villa avec piscine et toboggan et un grand jardin. J'aurais une voiture de luxe avec un chauffeur. Je pourrais même participer dans des séries.

Syrine

2. Géométrie

Exercice 1 :



Position	(b,3)	(a ; 6)	(d ; 5)	(e ; 1)	(g ; 4)	(f ; 7)
----------	-------	---------	---------	---------	---------	---------

Exercice 2 :

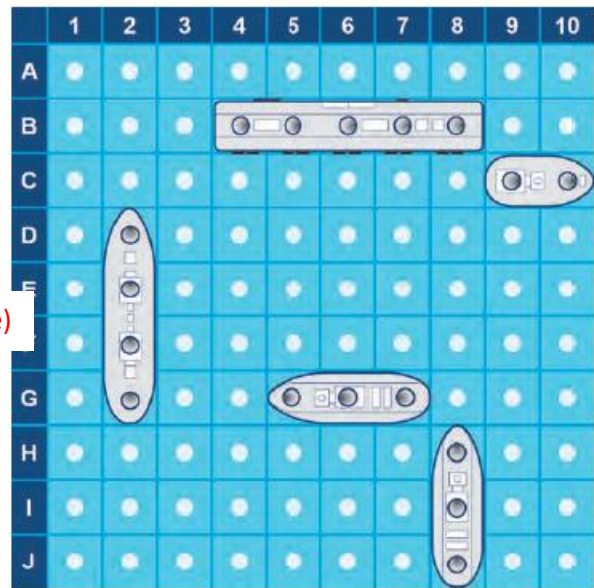
2 Zolan et Freesper font une partie de bataille navale. La grille que tu vois est celle de Freesper. Zolan fait des propositions.

a. Indique à côté de chacune d'elles : « perdu », « touché » ou « coulé ».

- B3 → perdu
- A9 → perdu
- G5 → touché
- B5 → touché
- D8 → perdu
- G7 → Touché (ou coulé)
- D4 → perdu
- H2 → perdu
- G6 → Touché (ou coulé)
- I8 → touché

b. Quelles cases doit citer Zolan pour couler le plus grand des bateaux de Freesper ?

B4 ; B6. B7 ET B8

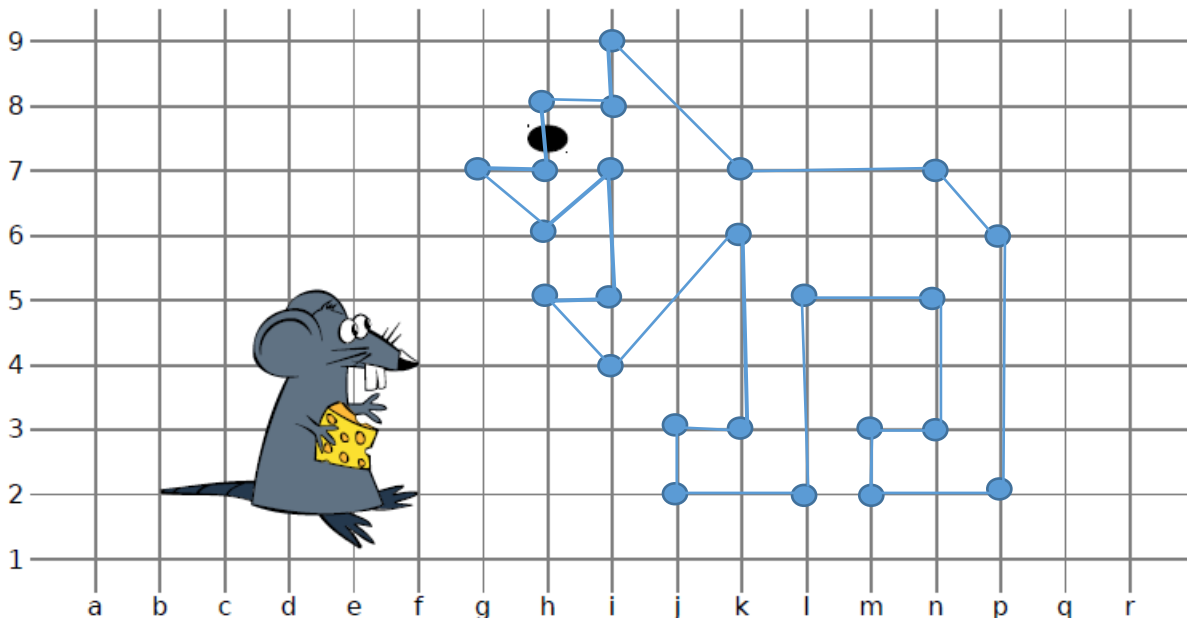


Exercice 3 :

3 Place les points dans le quadrillage puis relie-les dans l'ordre alphabétique pour découvrir ce qui fait peur au petit rat.

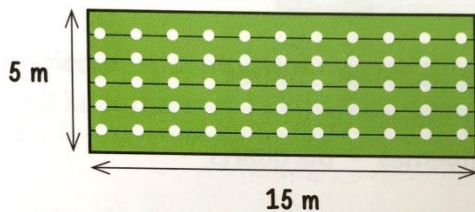
Points	A	B	C	D	E	F	G	H	I	J	K	L
Coordonnées	(i,9)	(k,7)	(n,7)	(p,6)	(p,2)	(m,2)	(m,3)	(n,3)	(n,5)	(l,5)	(l,2)	(j,2)

Points	M	N	P	Q	R	S	T	U	V	W	X	Y
Coordonnées	(j,3)	(k,3)	(k,6)	(i,4)	(h,5)	(i,5)	(i,7)	(h,6)	(g,7)	(h,7)	(h,8)	(i,8)



4. Calcul mental

Le potager de l'école a la forme d'un rectangle.



- Combien de mètres de grillage faudra-t-il pour entourer tout le potager ?
- Combien de choux les élèves pourront-ils planter s'ils utilisent les 5 rangées et plantent 12 choux par rangée ?
- Un quart de la récolte est utilisé pour nourrir les lapins de l'école.
Combien de choux sont réservés aux lapins ?

a. $5 + 15 + 15 + 5 = 40$ ou $(15 \times 2) + (5 \times 2) = 40$
Il faudra 40m de grillage pour entourer le potager.

b. $12 \times 5 = 60$
Ils pourront planter 60 choux.

c. $60 : 4 = 15$.
15 choux sont réservés aux lapins.

6. Littérature

1 – Pourquoi le père de Robin se fait-il arrêté au début de l'histoire ? c) Car il a chassé du gibier.	6 – Quel était le métier de Petit Jean ? a) Il était armurier du roi.
2 – Comment Robin réussit-il à entrer dans Nottingham sans être arrêté ? b) Il vole les habits d'un soldat.	7 – Qui organise un grand tournoi ? b) C'est le prince Jean.
3 – Qu'est-ce qu'apprend son père à Robin et à ses amis ? a) Il leur apprend à tirer à l'arc.	8 – Comment est surnommé l'inconnu qui remporte la première épreuve ? c) Il est surnommé le Déshérité.
4 – Comment s'appelle le moine avec qui se bat Robin ? c) Il s'appelle frère Tuck.	9 – Quel nom Robin des Bois prend-il pour participer à l'épreuve de tir à l'arc ? a) Il se fait appeler Locksley.
5 – Qu'enseigne le moine à Robin et à ses amis ? a) Il leur apprend à se battre avec une épée.	10 – Qui est le chevalier noir ? a) Il s'agit de Richard Cœur de Lion.

Je vous souhaite de bonnes vacances !!!

Je vous prépare un petit livret de vacances. Je l'envoie par mail dans le week-end et pour ceux qui le veulent en format papier (bien répondre avant ce soir par mail si ce n'est pas encore fait) rendez-vous à l'école lundi matin entre 9h30 et 10h30.

J'espère que l'on se retrouvera vite...