

Nombres :

Ecris chaque nombre en chiffres :

Ex : 2 centaines 6 dizaines 4 unités = 264



















a) 7 unités 45 centaines = 4507

b) 97 dizaines 5 unités = 975

c) 52 unités 73 centaines = 7352

d) 3 dizaines 34 centaines = 3430

Problème n°1 :

<p>Théo donne 78 images à six de ses amis. Chaque ami reçoit le même nombre d'images. Combien d'images aura chaque ami ? (Le problème doit être résolu avec un dessin et une méthode par tâtonnement).</p> <p>Chaque ami aura <u>78</u> images.</p>	<table style="border-collapse: collapse; margin-left: auto; margin-right: auto;"> <tr> <td>13</td><td>13</td><td>13</td><td>13</td><td>13</td><td>13</td><td>= 78V</td> </tr> <tr> <td>12</td><td>12</td><td>12</td><td>12</td><td>12</td><td>12</td><td>= 72X</td> </tr> <tr> <td>11</td><td>11</td><td>11</td><td>11</td><td>11</td><td>11</td><td>= 66X</td> </tr> <tr> <td>10</td><td>10</td><td>10</td><td>10</td><td>10</td><td>10</td><td>= 60X</td> </tr> <tr> <td></td><td></td><td></td><td></td><td></td><td></td><td></td> </tr> </table>	13	13	13	13	13	13	= 78V	12	12	12	12	12	12	= 72X	11	11	11	11	11	11	= 66X	10	10	10	10	10	10	= 60X							
13	13	13	13	13	13	= 78V																														
12	12	12	12	12	12	= 72X																														
11	11	11	11	11	11	= 66X																														
10	10	10	10	10	10	= 60X																														
																																				

Problème n°2 :

<p>Nathan achète 15 posters, 3 jeux PS4 et 13 livres. Le livre coûte 5€. Le poster coûte 8€ et le jeu PS4 coûte 24€. Elle obtient une remise de 25€. Quel est le montant payé en caisse ?</p> <p>Nathan a dépensé <u>232</u> €.</p>	<p>Posters = $15 \times 8 = 120€$ Jeux PS4 = $3 \times 24 = 72€$ Livres = $13 \times 5 = 65€$ Total 1 = $120 + 72 + 65 = 257$ Total 2 = $257 - 25 = 232€$</p>
---	--





<p>12 HISTOIRE Jacques Cartier, marin et explorateur français, est né en 1491 ; il est mort en 1557. Il a découvert la vallée du Saint-Laurent au Canada en 1534.</p> <p>a. Quel âge avait-il lors de cette découverte ? b. À quel âge est-il mort ?</p> <p>Lors de cette découverte, il avait <u>43</u> ans. Il est mort à <u>66</u> ans.</p>	<table style="margin-left: auto; margin-right: auto;"> <tr> <td style="text-align: right;"> $\begin{array}{r} 1534 \\ -1491 \\ \hline 0043 \end{array}$ </td> <td style="text-align: right;"> $\begin{array}{r} 1557 \\ -1491 \\ \hline 0066 \end{array}$ </td> </tr> </table>	$\begin{array}{r} 1534 \\ -1491 \\ \hline 0043 \end{array}$	$\begin{array}{r} 1557 \\ -1491 \\ \hline 0066 \end{array}$
$\begin{array}{r} 1534 \\ -1491 \\ \hline 0043 \end{array}$	$\begin{array}{r} 1557 \\ -1491 \\ \hline 0066 \end{array}$		
<p>13 Léo a 13 ans. Il a 5 ans de plus que son frère Clément. Quel est l'âge de Clément ?</p> <p>Clément a <u>8</u> ans.</p>	$\begin{array}{r} 13 \\ -5 \\ \hline 08 \end{array}$		

Jogging d'écriture : (cahier orange)

Hermès, le messager des dieux, te prête ses sandales magiques. Tu as maintenant une hypervitesse. Comment vas-tu t'en servir ?

Lexique :

Trouve le sens du verbe battre utilisé dans des sens différents.

Avant de jouer, Alain a battu les cartes.		a frappé
Julie, en colère, a battu son voisin.		a mélangé
Le champion a battu tous ses adversaires.		a monté
La cuisinière a battu les œufs en neige.		a vaincu

Lis ces définitions.

boucher n.m. Personne qui exerce le métier de boucher, qui découpe et prépare la viande avant de la vendre. *J'achète une escalope de veau chez le boucher.*

boucher v. Action qui consiste à fermer un récipient, un trou, une fente...
Avant de peindre, il faut boucher les fissures du mur.

Voici une phrase : Demande 250 grammes de bifteck haché chez le boucher.
Copie la définition du mot boucher qui correspond à celle de la phrase.

boucher : Personne qui exerce le métier de boucher, qui découpe et prépare la viande avant de la vendre.

Calcul :

Effectue les soustractions suivantes :

$$\begin{array}{r} 3\ 949 \\ - \quad 393 \\ \hline 3\ 556 \end{array}$$

$$\begin{array}{r} 2\ 903 \\ - \quad 2\ 003 \\ \hline 0\ 900 \end{array}$$

$$\begin{array}{r} 2\ 333 \\ - \quad 399 \\ \hline 1\ 934 \end{array}$$

Littérature :

Lis à l'oral le chapitre 3 de Prométhée le voleur de feu. Effectue les exercices du fichier sur Prométhée.

Géographie :

Etudie les documents et réponds aux questions sur le cahier d'essai. Lis la séance 4 de la leçon.

Géographie:

- 1) Ils vivent au Gabon.
- 2) Notre pays est la France. Il se situe dans l'hémisphère Nord, à l'Ouest de l'Europe, près de l'océan Atlantique. Au Sud-Est de notre pays se trouve la mer Méditerranée.
- 3) Ils s'appellent les territoires français d'outre-mer.
- 4) Il y a 2 millions de Français outre-mer.
- 5) Le DROM le plus peuplé est la Réunion.
Le DROM le plus grand est la Guyane.
- 6) Il y a 6 continents :
 - Amérique
 - Europe
 - Asie
 - Afrique
 - Océanie
 - Antarctique
- 7) Il y a 5 océans :
 - Pacifique
 - Atlantique
 - Indien
 - Glacial Arctique
 - Glacial Antarctique
- 8) La métropole française se situe dans l'hémisphère Nord.
- 9) Saint-Pierre-et-Miquelon est un DROM situé dans l'hémisphère Nord.
La Réunion est un DROM situé dans l'hémisphère Sud.

⚠ DROM = Département et région d'outre-mer

Prénom :

Prométhée le voleur de feu - Chapitre 3 : L'exploit de Prométhée

Sur la terre, les hommes ne s'aperçoivent pas tout de suite de la disparition du feu. Pendant un temps, ils conservent des braises. Mais celles-ci s'éteignent peu à peu dans les foyers. Qu'importe ! Ils savent que Zeus jette souvent des éclairs sur les arbres. Ceux-ci s'enflamment alors et c'est ainsi que les hommes trouvent le feu. Ils ont toujours procédé de cette façon.

Mais le temps passe et aucun éclair ne vient zébrer le ciel.

Les hommes se lamentent. Ils n'ont pas l'habitude de manger la viande crue. Ils ont froid. Et la nuit est bien noire sans la lumière dansante des flammes... ces flammes qu'ils sont incapables d'allumer eux-mêmes.

Cette nuit-là, pourtant, il quitte la terre pour rejoindre le domaine des dieux. Il le fait en cachette et dans le plus grand silence. Nul ne doit savoir ce qu'il est en train d'entreprendre.

Sur l'Olympe, tout est calme et serein. Zeus s'est retiré avec Héra, et les autres dieux vaquent à leurs occupations. Nul ne prête attention à cette ombre qui se faufile discrètement.

Le Titan sait où il va. Prométhée attend encore un peu. Il ne veut pas courir le risque d'être surpris ! Quand il est sûr qu'Héphaïstos ne reviendra pas, il pénètre dans la forge sur la pointe des pieds.

Le voilà debout devant le foyer. Il sort de sa tunique un roseau qu'il a pris soin d'emporter avec lui. Avec habileté, il fait glisser des braises dans le creux du roseau. Puis il s'en va, aussi silencieusement qu'il est venu.

Comment les hommes se procurent-ils habituellement du feu ? (jaune)

Surligne les conséquences de la perte du feu. (rose)

Surligne en jaune les substituts qui remplacent Prométhée.

Ex : l'aigle : le rapace, l'oiseau, il

Où Prométhée compte-t-il se procurer du feu ? (rose)

Dans quoi le transporte-t-il ? (bleu)