

Plan de travail du Mardi 6 avril

Avant de te lancer, lis attentivement les consignes et n'oublie pas de faire des pauses, surtout si tu travailles sur écran !

Copie

On termine de réviser les majuscules et minuscules. Aujourd'hui le U. 1°/

Sur l'ardoise, entraîne –toi à tracer des u minuscules et majuscules.

2°/ Dans le cahier « la classe à la maison », réalise la fiche du U collée en classe.

Le conseil de la maîtresse : Pense à te tenir droit, les coudes sur la table, positionne ton crayon correctement et ne va pas trop vite !

Orthographe

On a terminé de réviser les sons. On prépare la dictée n°1.

1° / Dans le cahier jaune d'orthographe, lis attentivement les mots de [la liste 1](#).

Liste 1 : apprendre – départ – partout – arrêter – pointu – vendre – arriver – adresse - doigt – voix – renard

2°/ Entraîne toi à retenir leur orthographe à l'oral, puis à l'écrit sur l'ardoise.

Le conseil de la maîtresse : Comme en classe, ferme ton cahier jaune, efface l'ardoise et essaie de te souvenir de tous les mots.

3°/ Dans le cahier « la classe à la maison », réalise [les exercices Orthographe 1](#) collés en classe.

Grammaire

On révise ce qu'on a déjà vu.

Dans le cahier « la classe à la maison », réalise [les exercices Grammaire 1](#) collés en classe.

Le conseil de la maîtresse : N'hésite pas à relire les leçons dans le petit cahier rouge de français si tu n'es pas sûr(e).

Conjugaison

Un texte à réécrire pour ne pas oublier le futur.

Dans le cahier « la classe à la maison », réalise [l'exercice Conjugaison 1 Le restaurant](#).

Le conseil de la maîtresse : Avant de commencer, révise la leçon C3 et surligne au fluo jaune les verbes conjugués du texte.

Récréation : Pour te détendre, je te propose de bouger en anglais ...

Clique sur le lien ci-dessous :

<https://www.youtube.com/watch?v=MKVe4Zs6KRk>

Mathématiques Calcul mental

On multiplie par 10, 100 ou 1 000...en 7 minutes !

Dans le cahier « la classe à la maison », réalise les calculs de [la fiche 18B](#) colée en classe.

Le conseil de la maîtresse : N'oublie pas de te chronométrer !

Mathématiques Calcul posé

On révise les additions avec retenue.

1°/ [Sur une nouvelle page du cahier](#) « la classe à la maison », prépare la date et la matière.

Mardi 6 avril

Mathématiques

Calcul posé 2°/

Pose et calcule les additions suivantes.

$247 + 347 =$

$354 + 26 + 562 =$

$446 + 40 + 120 =$

$544 + 278 + 45 + 12 =$

Le conseil de la maîtresse : Soigne la présentation, n'oublie pas les retenues en rouge.

Mathématiques Numération

1°/ [Prépare le cahier](#) « la classe à la maison ».

Mathématiques Numération

2°/ Recopie et réalise les exercices suivants.

Exercice 1 Encadre ces nombres à la dizaine.

$\underline{\hspace{2cm}} < 6\ 425 < \underline{\hspace{2cm}}$

$\underline{\hspace{2cm}} < 7\ 012 < \underline{\hspace{2cm}}$

$\underline{\hspace{2cm}} < 9\ 986 < \underline{\hspace{2cm}}$

$\underline{\hspace{2cm}} < 3\ 439 < \underline{\hspace{2cm}}$

Exercice 2 Encadre ces nombres à la centaine.

$\underline{\hspace{2cm}} < 4\ 325 < \underline{\hspace{2cm}}$

$\underline{\hspace{2cm}} < 7\ 109 < \underline{\hspace{2cm}}$

$\underline{\hspace{2cm}} < 2\ 889 < \underline{\hspace{2cm}}$

$\underline{\hspace{2cm}} < 3\ 579 < \underline{\hspace{2cm}}$



Lecture

La sorcière du placard aux balais

Pour commencer l'après-midi, écoute l'histoire de la sorcière du placard aux balais.

Clique sur le lien ci-dessous :

https://www.youtube.com/watch?v=ED7g_qttCN4

Le conseil de la maîtresse : Installe-toi confortablement, ferme les yeux si tu le souhaites !

Rédaction

Tu as la chance de rencontrer quelqu'un que tu admires (chanteur (euse), écrivain, footballeur...)!

1°/ Prépare le cahier « la classe à la maison ».

Rédaction 2°/

Ecris le nom de la personne que tu as choisi.

3°/ Rédige 6 questions que tu aimerais lui poser.

Le conseil de la maîtresse : Essaie de te relire comme lorsque nous faisons une dictée pour corriger tes fautes.

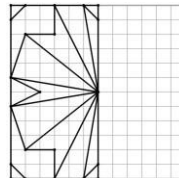
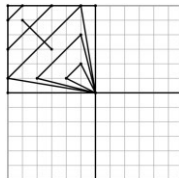
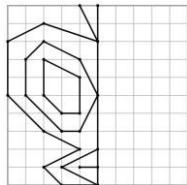
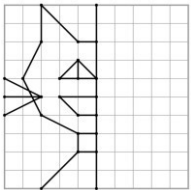
Géométrie

Reproduire une figure

1°/ Prépare le cahier « la classe à la maison ».

Géométrie

2°/ Choisis l'une des figures de ta fiche, découpe - la, colle-la et complète au crayon à papier. Si tu le souhaites, tu peux entièrement la refaire sur le cahier.



Le conseil de la maîtresse : Choisis un point de départ et compte les carreaux ! N'oublie pas de la mettre en couleur.

Grandeurs et mesures

Les unités de longueurs : m, dm, cm, mm
Rappel-toi, en classe on a vu le tableau suivant :

m	dm	cm	mm
.	.	.	.
.	.	.	.
.	.	.	.
.	.	.	.

1°/ Prépare le cahier « la classe à la maison ».

Grandeurs et mesures

2°/ Recopie et réalise les exercices suivants.

Exercice 1 Complète.

$9 \text{ cm} = \dots \text{mm}$

$35 \text{ cm} = \dots \text{mm}$

$4 \text{ m} = \dots \text{cm}$

$12 \text{ dm} = \dots \text{cm}$

$10 \text{ m} = \dots \text{dm}$

Exercice 2 Complète comme dans l'exemple.

Exemple : 1 m 19 cm = 119 cm

$5 \text{ m } 80 \text{ cm} = \dots \text{cm}$

$8 \text{ m } 7 \text{ cm} = \dots \text{cm}$

$2 \text{ m } 12 \text{ cm} = \dots \text{cm}$

$4 \text{ m } 3 \text{ cm} = \dots \text{cm}$

À toute à l'heure pour les corrections !