

## Evaluation de SES

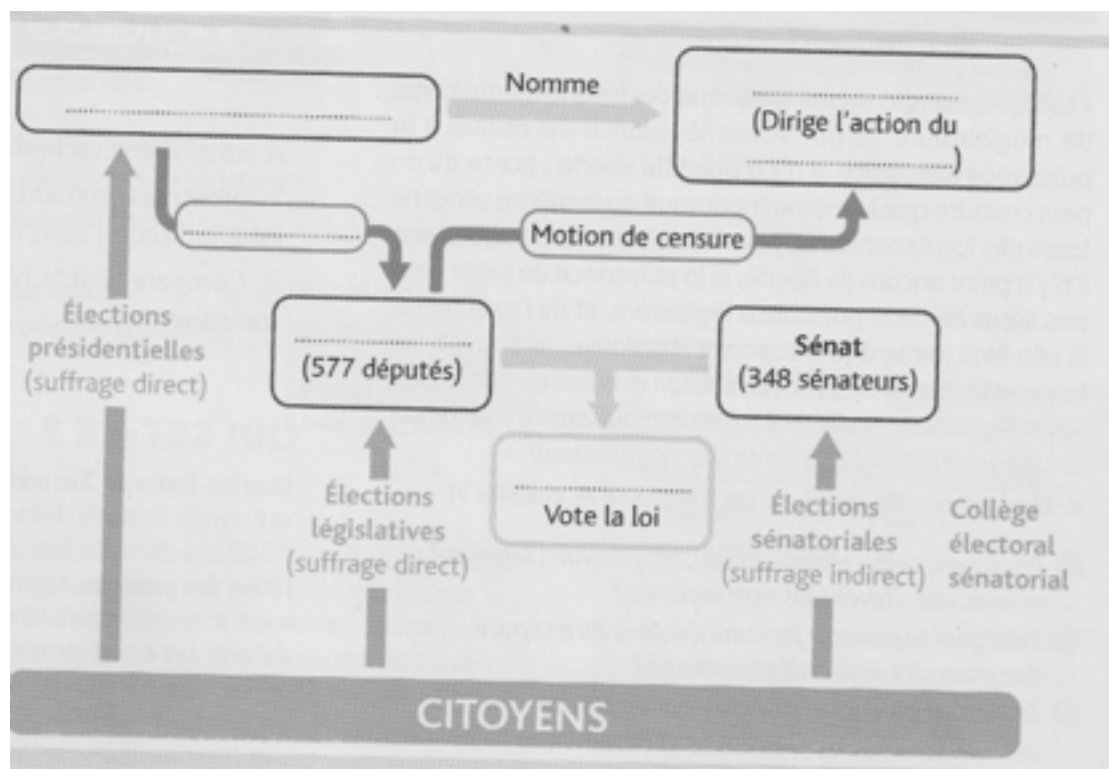
*Le devoir est noté sur 30 points.*

### **Exercice 1 (3 points)**

1) Définissez la notion de démocratie et indiquez les principes fondateurs de celle-ci. (2 points)

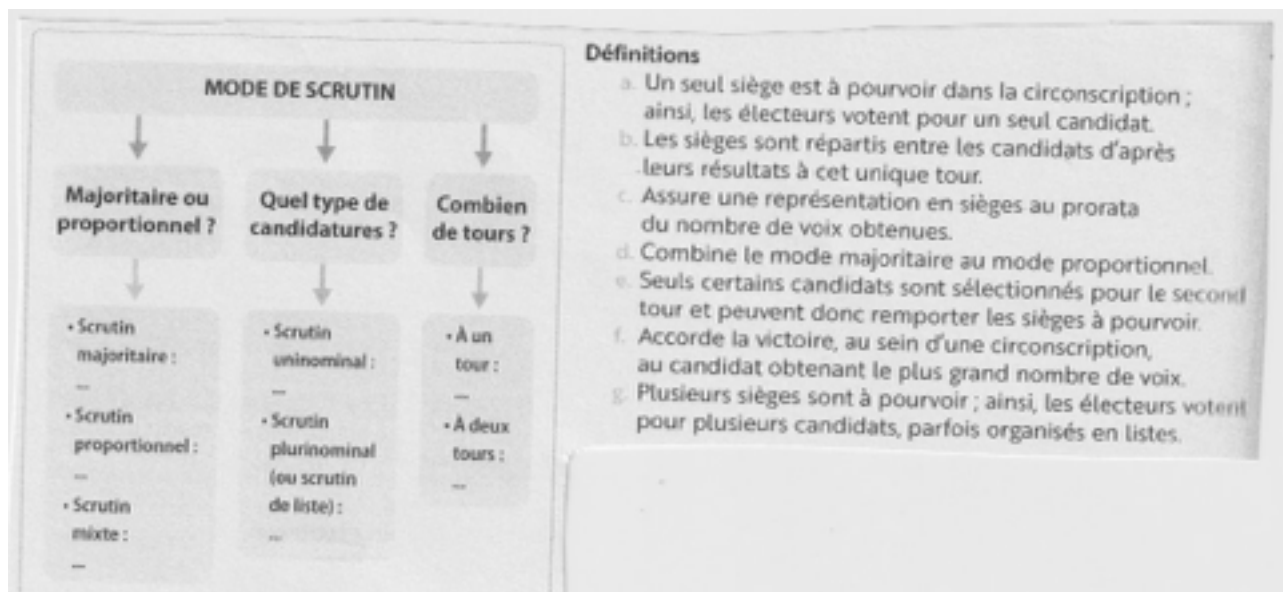
2) Quelle est la particularité du pouvoir politique (par rapport au pouvoir en général)? (1 point)

### **Exercice 2 « les institutions de la Ve République » (3 points)**

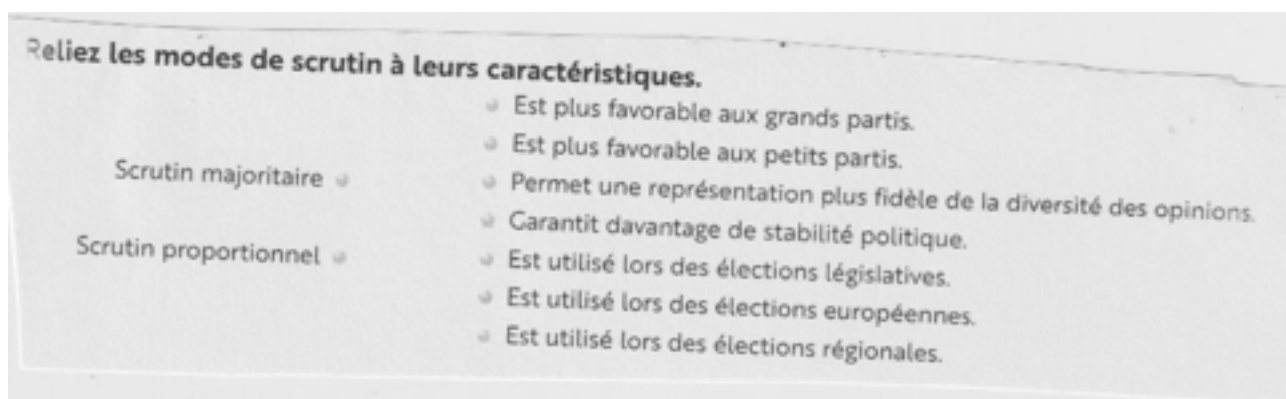


Complétez le schéma à l'aide de vos connaissances sur les institutions de la Ve République.

### Exercice 3 « les différents modes de scrutin » (9 points)



- 1) Retrouvez la définition correspondant à chaque mode de scrutin du tableau et remplacez les lettres correspondantes. (3,5 points)
- 2) Donnez la définition d'un mode de scrutin. (1 point)
- 3) A partir du schéma quelles sont les 3 caractéristiques du mode de scrutin utilisé pour l'élection présidentielle? (1,5 point)



(3 points)

### Exercice 4 « les acteurs de la vie politique » (4 points)

**Complétez le texte à l'aide des notions vues en cours.**

En démocratie, différents acteurs contribuent à la vie politique. Tout d'abord, les ..... ont pour objectif d'exercer le pouvoir politique. Pour cela, ils organisent la compétition politique et la mobilisation électorale en ..... des candidats, en élaborant des

..... et en organisant des meetings politiques. Par ailleurs, d'autres organisations forment la ..... et ont pour objectif d'..... le pouvoir politique afin que les décisions défendent leurs intérêts ou leur cause. Par exemple, les .....défendent les intérêts des salariés et utilisent certaines modalités d'action (manifestations, négociations, grèves,...). Enfin les ..... contribuent également à la vie politique: ils participent à la démocratie en informant les citoyens, en animant le débat politique et en jouant le rôle de .....

### **Exercice 5 (5 points)**



- 1) Présentez ce document. (1 point)
- 2) Faites une phrase exprimant la signification de la donnée entourée. (2 points)
- 3) Que permet de montrer ce document? *Vous illustrez votre réponse à l'aide de données du document.* (2 points)

**Exercice 6 (6 points)**

*A l'aide de vos connaissances vous expliquerez en quoi consiste le principe de séparation des pouvoirs.*

***Pour cela, vous définirez la notion puis présenterez les fonctions de chaque pouvoir, ensuite vous indiquerez par qui est exercé chaque pouvoir sous la Ve République et enfin vous expliquerez pourquoi cette séparation est indispensable.***

Complétez la grille.

• **Horizontalement**

1. Elle permet de désigner des représentants en démocratie.
2. Il compte 348 membres élus au suffrage universel indirect.
3. Ce mode de scrutin favorise les grands partis.
4. Il présente des candidats et candidates aux élections.
5. C'est le pouvoir exercé par le Parlement.

• **Verticalement**

- a. Elle est dite « nationale » lorsqu'elle vote les lois.
- b. Ils informent le public.
- c. Il défend les intérêts des travailleurs et travailleuses.
- d. Ce pouvoir veille au respect de la loi et tranche les conflits.
- e. C'est un membre du gouvernement.

