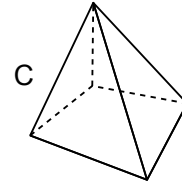
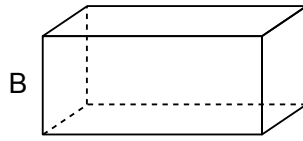
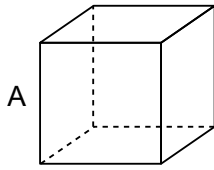


Nom : _____ Date : _____

1 Observe ces solides, puis complète le tableau.



Solide	Nombre de faces	Forme des faces	Nombre d'arêtes	Nombre de sommets	Nom du solide
A
B
C

2 Observe ce solide et réponds aux questions.

a. Quel est le nom de ce solide ?

.....

b. Nomme sa base.

.....

c. Nomme ses faces latérales.

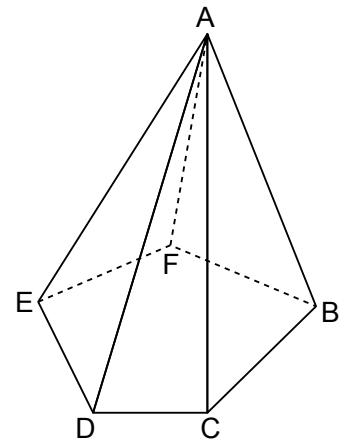
.....

d. Nomme ses arêtes.

.....

e. Nomme ses sommets.

.....



3 a. De combien de petits cubes cette construction se compose-t-elle ?

.....

.....

b. Combien de cubes manque-t-il pour réaliser un grand cube ?

.....

.....

