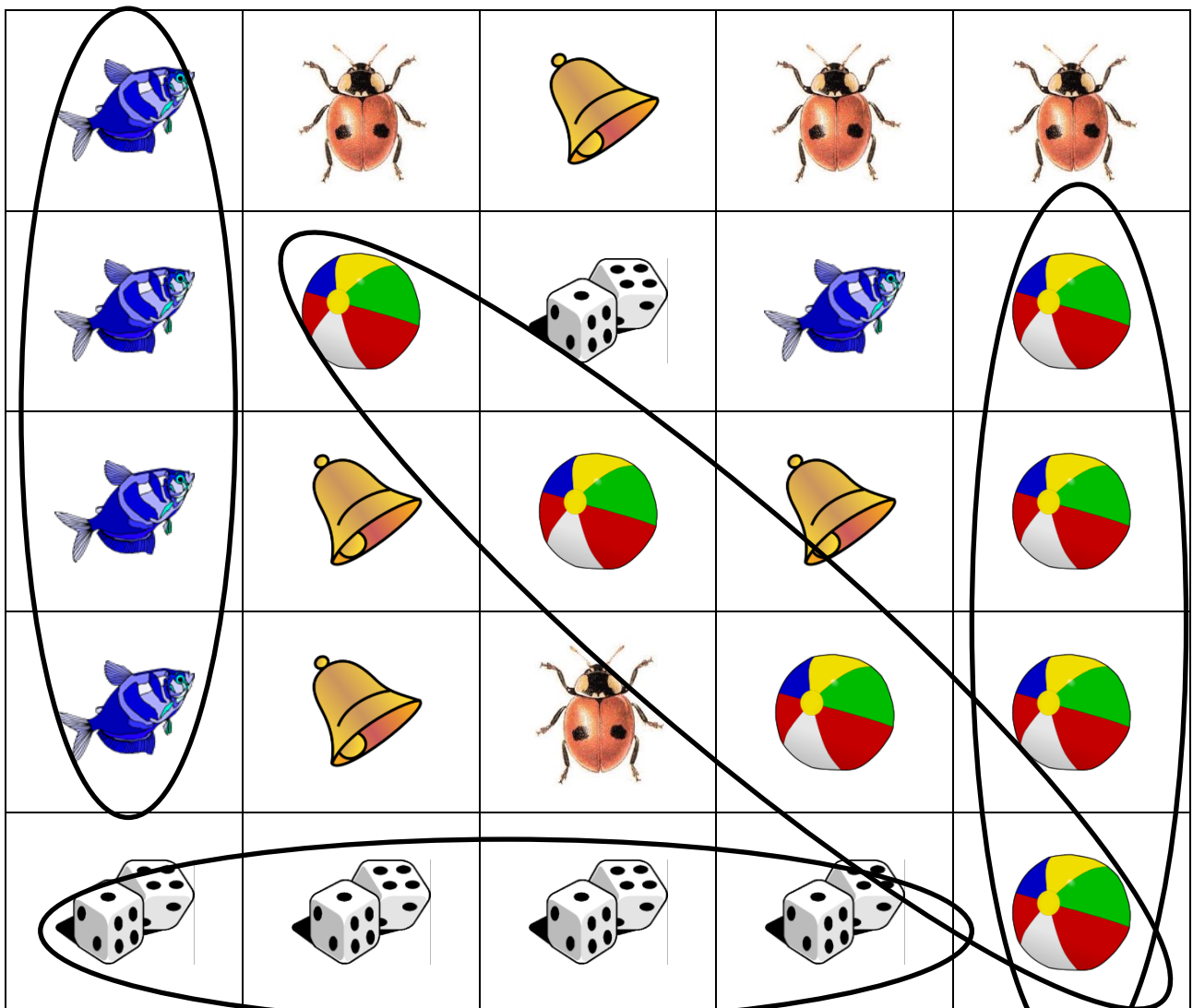


## ETAPE 2 SERIE JAUNE – Espace et géométrie

### LES 4 QUI SE SUIVENT





































































































« Voici un quadrillage. Regardez bien, j'ai entouré des dessins. Pourquoi, à votre avis ? (questionner les élèves sur ce qu'ils voient). Vous voyez qu'à chaque fois que j'ai entouré des dessins c'est parce qu'il y avait quatre mêmes dessins qui se suivaient. Dans ce sens-là, en vertical, dans ce sens-là, en horizontal, et même de travers.

Maintenant, je vous donne un nouveau quadrillage. A vous d'essayer de trouver toutes les lignes où il y a les quatre mêmes dessins qui se suivent ».



# ETAPE 2 SERIE JAUNE – Espace et géométrie

## LES 4 QUI SE SUIVENT

|   |   |   |   |   |   |  |   |   |   |
|---|---|---|---|---|---|--|---|---|---|
|    |    |    |    |    |    |    |    |    |    |
|    |    |    |    |    |    |    |    |    |    |
|    |    |    |    |    |    |    |    |    |    |
|    |    |    |    |    |    |    |    |    |    |
|  |  |  |  |  |  |  |  |  |  |
|  |  |  |  |  |  |  |  |  |  |
|  |  |  |  |  |  |  |  |  |  |
|  |  |  |  |  |  |  |  |  |  |
|  |  |  |  |  |  |  |  |  |  |
|  |  |  |  |  |  |  |  |  |  |

# SERIE JAUNE LES 4 QUI SE SUIVENT

