

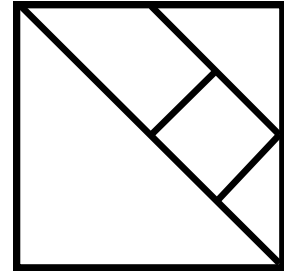
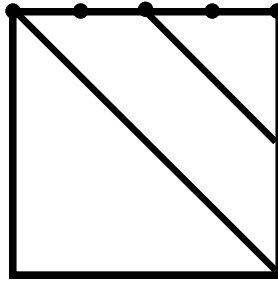
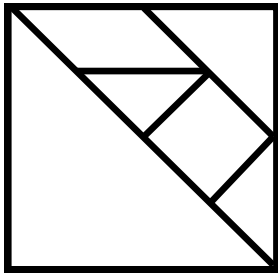
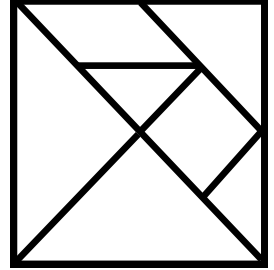


ETAPE 1 SERIE ROUGE - Géométrie

PROGRAMME DE CONSTRUCTION

Reproduis cette figure.  →
Pour cela, tu peux t'aider des images ci-dessous qui sont dans le désordre.



SOLUTION Série rouge ETAPE 1

Géométrie

PROGRAMME DE CONSTRUCTION

L'enseignant validera selon la réalisation et le raisonnement expliqué utilisé :

- l'utilisation des diagonales**
- l'utilisation des milieux des segments**
- les alignements des points par rapport aux segments (pointillé rouge sur le schéma)**
- l'utilisation des étapes proposées**

