














ÉTAPE 2 Série bleue – Géométrie

Le chemin du trésor

Votre voilier prend son départ en mer à la case (A ; 8).

Étape 1 : pour trouver le premier trésor, vous devez vous déplacer sur la grille :

- trois cases vers la droite,
- puis deux cases vers le bas,
- puis quatre cases vers la droite,
- puis quatre cases vers le bas,
- puis six cases vers la gauche.

8								
7								
6								
5								
4								
3								
2								
1								
	A	B	C	D	E	F	G	H

Étape 2 : Inventez deux parcours différents pour atteindre le trésor de la case (H ; 1) sans passer par une case au trésor. Vous pouvez vous déplacer horizontalement et verticalement seulement.

SOLUTION ÉTAPE 2 Série bleue

Géométrie

Le chemin du trésor

