
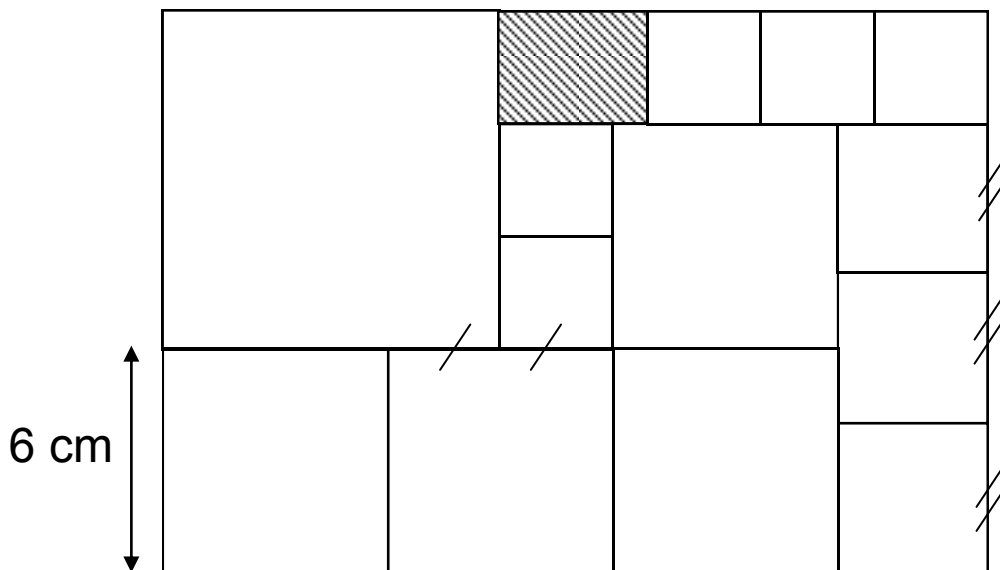


ETAPE 2 SERIE JAUNE



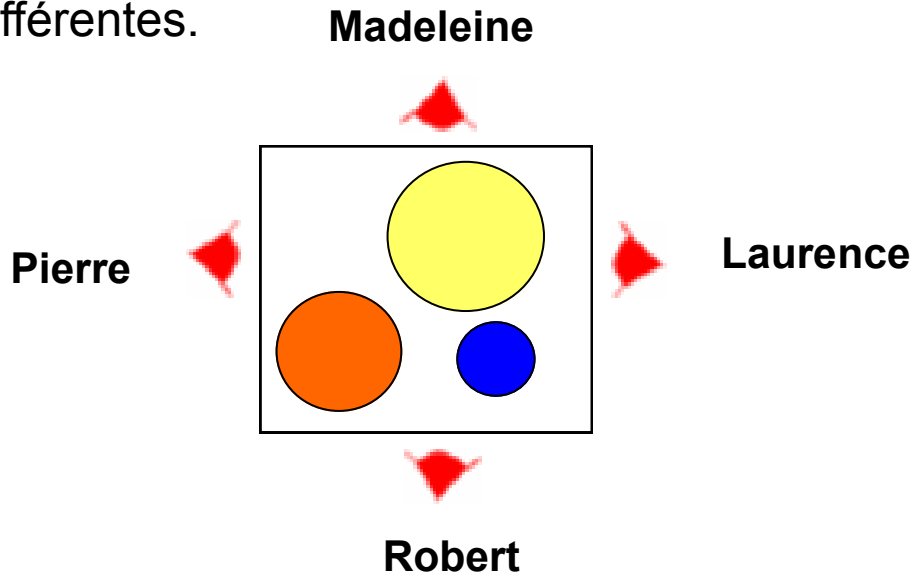
Toutes les pièces de ce puzzle sont des carrés à l'exception du rectangle hachuré.

Quelles sont les dimensions du rectangle hachuré?



POINT DE VUE

Laurence, Madeleine, Pierre et Robert sont assis autour de la table sur laquelle sont posés trois cylindres de tailles et de couleurs différentes.



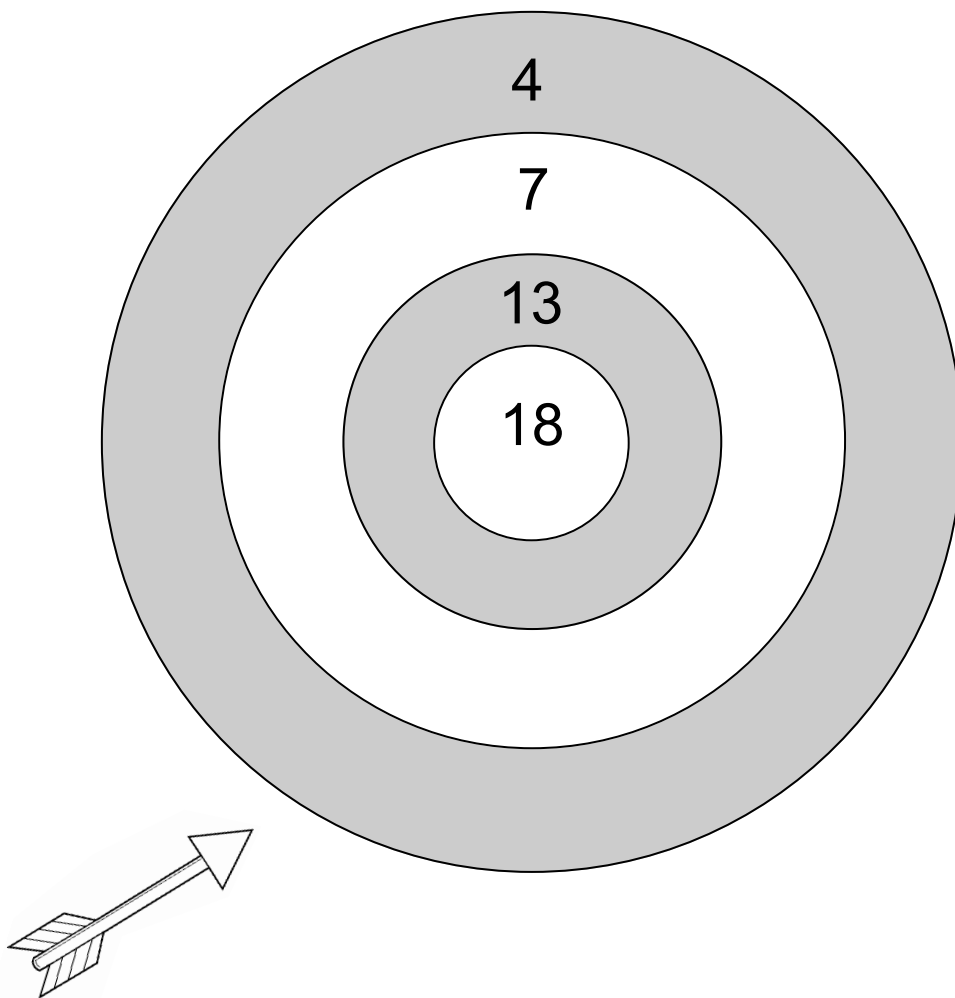
Pour chaque personne indiquez l'image du tableau qui représente ce qu'il voit de l'endroit où il se trouve (indiqué par la marque rouge).

<p>A</p>	<p>B</p>	<p>C</p>
<p>D</p>	<p>E</p>	<p>F</p>
<p>G</p>	<p>H</p>	<p>I</p>

JEU DE FLECHETTES

Comment obtenir un total de 57 points avec 6 flèches?

Toutes les flèches atteignent la cible.



LES TOURS DE HANOÏ

On veut déplacer les trois anneaux sur la tige de droite en respectant les règles suivantes:

- On ne peut déplacer qu'un anneau à la fois
- On ne peut placer un anneau que sur un autre anneau plus grand que lui ou sur un emplacement vide.

Combien faut-il de coups au maximum?

