



* code couleur — euros — centimes d'euros

Je m'entraîne



Exercice n° 1

Quelle somme Chibaut a-t-il dans son porte-monnaie ?



Réponse

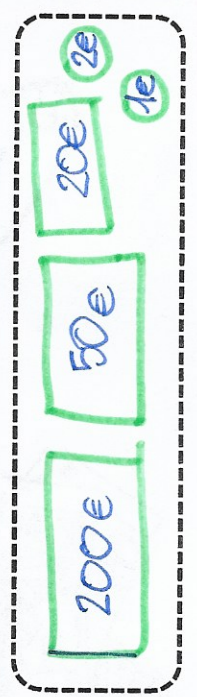
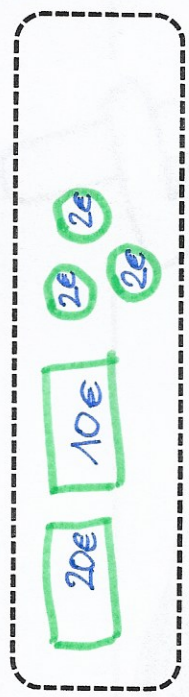

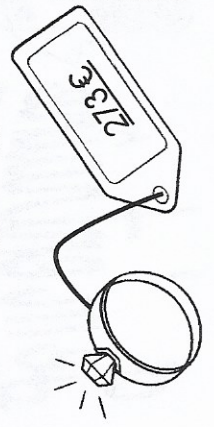
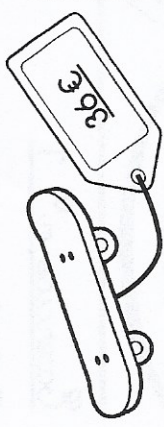
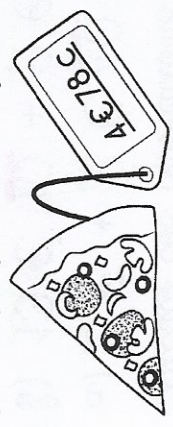
100
+ 20
+ 10
+ 2
+ 10
+ 5

147



Exercice n° 2

Dessine le moins de pièces et de billets possible pour payer ces objets.



Chibaut a 147€ dans son porte-monnaie.

Exercice n° 3

Calcule ces opérations.

- a) 3 € + 6 € 40 = 9 € 40
- b) 5 € 20 + 2 € 30 = 7 € 50
- c) 8 € + 5 € 70 = 13 € 70
- d) 9 € + 3 € 10 = 12 € 10
- e) 4 € 80 + 2 € = 6 € 80
- f) 15 € + 6 € 30 = 21 € 30

Mesures / La monnaie

<http://kassette.fr>

