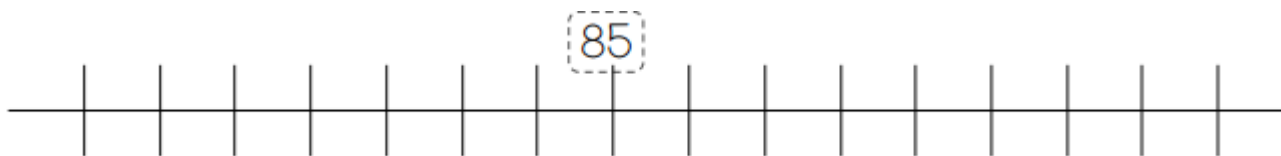


N5

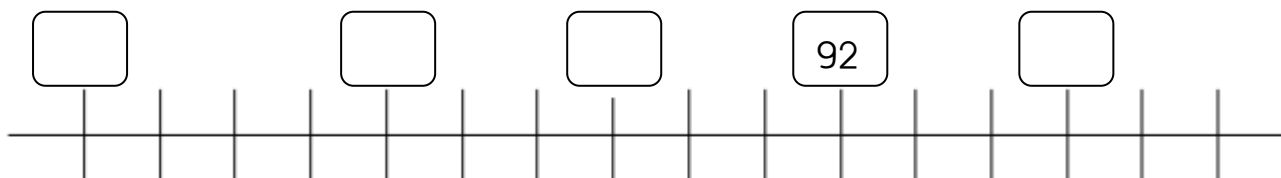
Les nombres de 0 à 99

écriture – ordre – suite - comparaison

1 Place les nombres sur la droite graduée : 79 – 85 – 88 – 90 – 93



2 Complète les cases



3 Ecris en chiffres ces nombres

vingt-quatre :

soixante-treize :

soixante-huit :

quatre-vingt-dix :

soixante-dix-neuf :

cinq :

vingt-sept :

quatre-vingt-deux :

soixante-quinze :

cinquante-trois :

4 Ecris ces nombres en lettres.

24 :

55 :

65 :

72 :

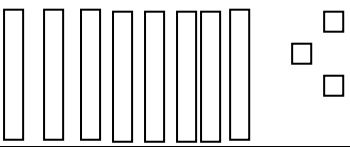
83 :

95 :

5 Le nombre avant et le nombre après.

nombre avant	nombre	nombre après
.....	59
.....	62
.....	75
.....	79
.....	80
.....	89

6 Dessine le nombre de dizaines et d'unités.

83		86
75		91
69		97

7 Entoure les nombres plus petits que 75.

82 – 90 – 64 – 72 – 80 – 70 – 65 – 51 – 7

8 Entoure les nombres plus grands que 81.

68 – 84 – 72 – 90 – 95 – 40 – 34 – 83 – 80

9 Devinette

J'ai huit dizaines.

Je suis

J'ai le même chiffre des unités que quatre-vingt-douze.