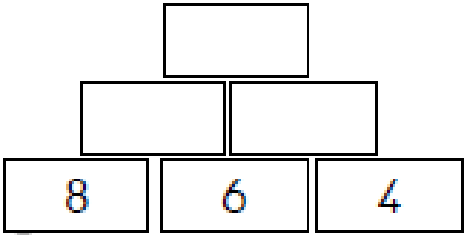
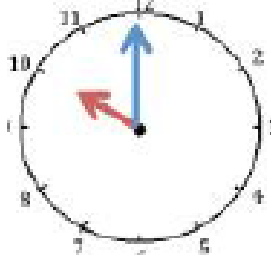
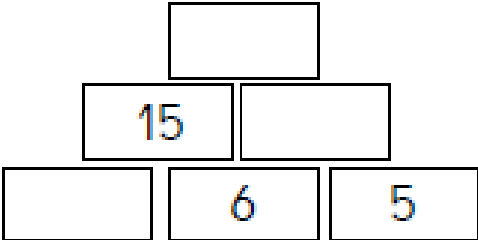
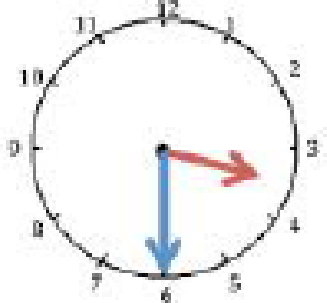
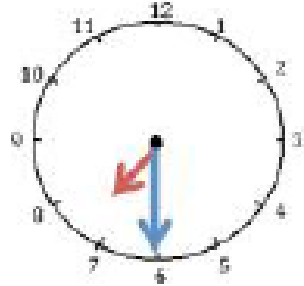


Prénom :

RITUELS MATHÉMATIQUES CP

	18 au 22 mai	25 mai au 29 mai	1 ^{er} au 5 juin	8 au 12 juin				
LUNDI	<p>Pyramide de calcul</p> 	<p>Ecris les nombre avant/après</p> <p>.....<60<</p> <p>.....<49<</p> <p>.....<67<</p> <p>.....<98<</p>	 <p>.....h.....min</p>	<p>Dessine le nombre 67</p>				
MARDI	<p>Dessine 18€</p>	<p>TARIF CIRQUE</p> <table border="1" data-bbox="739 510 1025 590"> <tr> <td>Adulte</td> <td>15€</td> </tr> <tr> <td>Enfant</td> <td>10€</td> </tr> </table> <p>Pour <u>2 adultes et 3 enfants</u>, on dépensera :.....euros.</p> <p>Pour <u>1 adulte et 4 enfants</u>, on dépensera :.....euros.</p>	Adulte	15€	Enfant	10€	<p>Dessine le nombre 54</p>	<p>Pyramide de calcul</p> 
Adulte	15€							
Enfant	10€							
JEUDI	 <p>.....h.....min</p>	<p>Dessine 16€</p>	<p>Recompose les nombres</p> <p>Recompose les nombres</p> <p>$40+9=$</p> <p>$60+20+8=$</p> <p>$78+10+3=$</p> <p>$23+60+6=$</p> <p>$37+40+2=$</p>	<p>Laurine a invité 3 amis. Elle a acheté 12 sucettes.</p> <p><u>Combien chacune pourra-t-elle manger de sucettes ?</u></p> <p>Chaque fille aura sucettes.</p>				
VENDREDI	<p>TARIF PISCINE</p> <table border="1" data-bbox="246 1220 533 1300"> <tr> <td>Adulte</td> <td>12€</td> </tr> <tr> <td>Enfant</td> <td>7€</td> </tr> </table> <p>Pour <u>2 adultes et 3 enfants</u>, on dépensera :.....euros.</p> <p>Pour <u>1 adulte et 4 enfants</u>, on dépensera :.....euros.</p>	Adulte	12€	Enfant	7€	<p>Ecris des nombres en chiffre à porter de ces mots</p> <p>cent- deux – soixante- treize</p> <hr/> <hr/>	<p>Dessine 56€</p>	 <p>.....h.....min</p>
Adulte	12€							
Enfant	7€							



