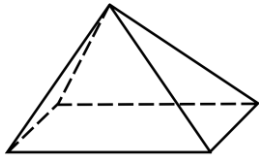


Complète par rapport aux formes suivantes :

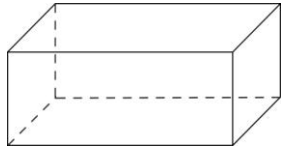


**Nom du solide :** .....

Nombre de faces : ...

Nombre de sommets : ...

Nombre d'arêtes : ...



**Nom du solide :** .....

Nombre de faces : ...

Nombre de sommets : ...

Nombre d'arêtes : ...

Complète :

$9 + 9 = \dots \times \dots = \dots$

$4 + 4 + 4 = \dots \times \dots = \dots$

$2 + 2 + 2 + 2 + 2 + 2 = \dots \times \dots = \dots$

$6 + 6 + 6 + 6 + 6 = \dots \times \dots = \dots$

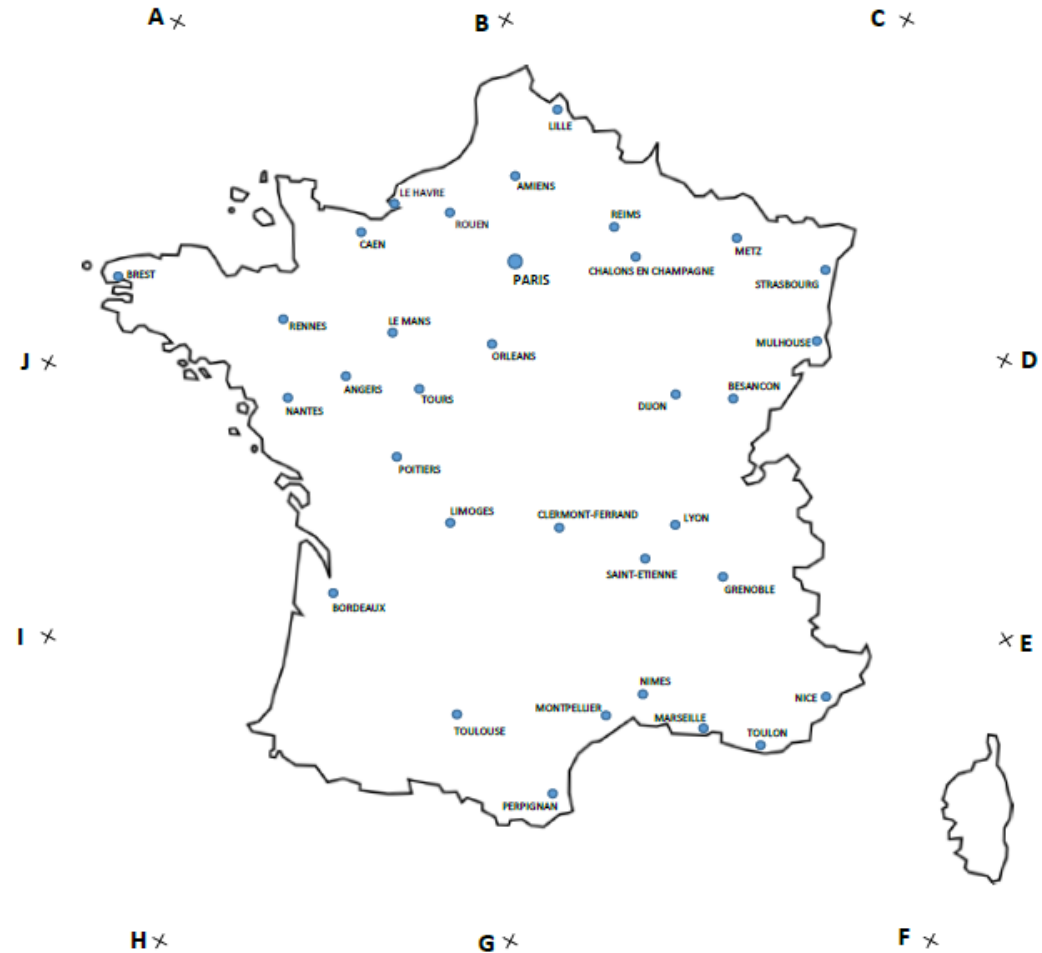
$5 + 5 + 5 + 5 = \dots \times \dots = \dots$

Trace sur la carte de France :

**Programme de construction 2 :**

1. Trace le segment [JF]
2. Trace le segment [AG]
3. Les deux segments se coupent au point O. Trace le cercle de centre O et de rayon 2 cm.
4. Il y a deux villes dans le cercle.

**Quelles sont ces villes ? .....**



# CHRONOMATH 8



1  $5 + 5 = \dots$       11  $70 + 10 = \dots$       21  $90 - 1 = \dots$

2 Double de 8 = ...      12  $30 + 50 = \dots$       22  $289 - 1 = \dots$

3  $9 + 1 = \dots$       13  $30 + 80 = \dots$       23  $910 - 2 = \dots$

4  $5 + 6 = \dots$       14  $40 + 50 + 200 = \dots$       24  $534 - 2 = \dots$

5  $7 + 8 = \dots$       15  $400 + 50 + 20 = \dots$       25  $722 - 2 = \dots$

6  $11 + 11 = \dots$       16  $500 + 20 + 9 = \dots$       26  $2 \times 3 = \dots$

7  $7 + 9 = \dots$       17  $900 + 5 + 70 = \dots$       27  $3 \times 4 = \dots$

8  $17 + 9 = \dots$       18  $30 + 500 + 25 = \dots$       28  $3 \times 5 = \dots$

9  $101 + 9 = \dots$       19  $805 + 55 = \dots$       29  $4 \times 7 = \dots$

10  $84 + 9 = \dots$       20  $725 + 25 = \dots$       30  $500 - 2 = \dots$

**SCORE :**

**CE1**