

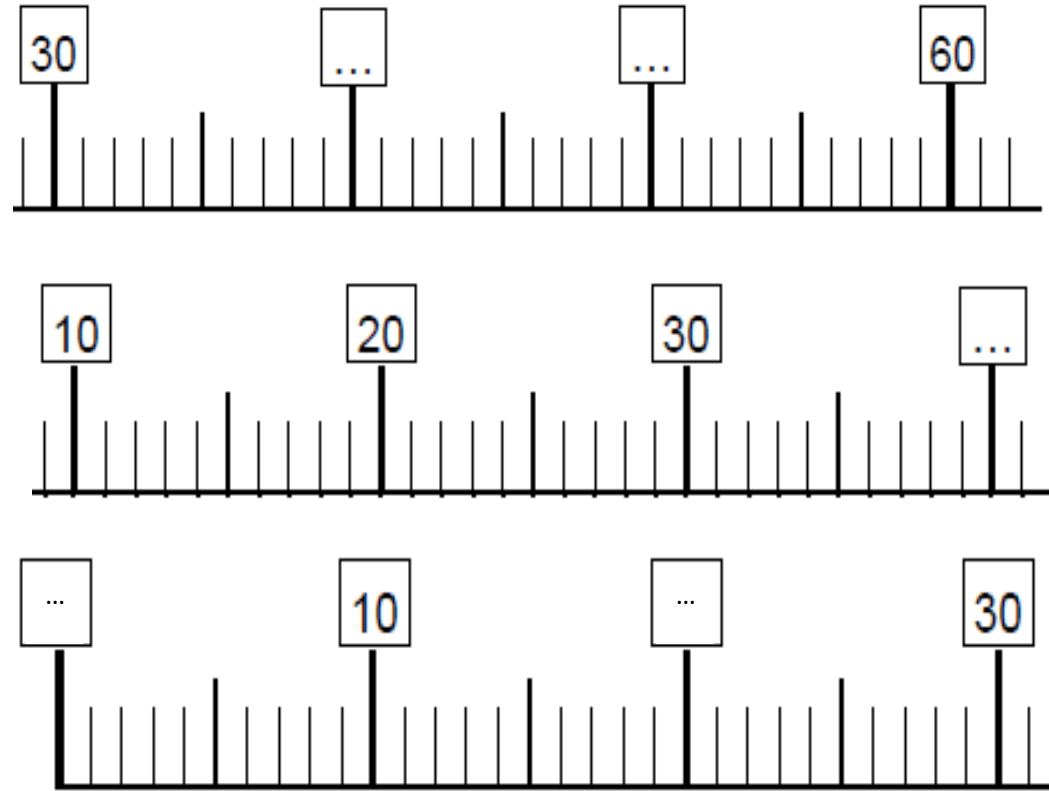


Complète le tableau:

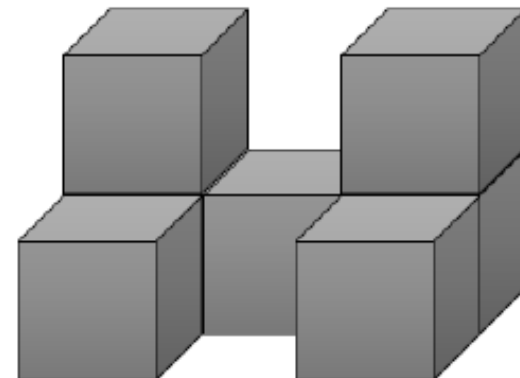
J'écris en chiffres	J'organise	Je représente	J'entends
..... Dizaines+ unités+.....		« quatre-vingt-trois »
..... Dizaines+ unités+.....		« quatre-vingt-quatorze »

Complète les droites graduées



Compte puis écris le nombre de cube présents ci-dessous :

Cubes (A)



Il y a
cubes.

CHRONOMATH 8



1

$2 + 4 = \dots$

11

$8 - 1 = \dots$

2

$7 + 1 = \dots$

12

$11 - 1 = \dots$

3

$4 + 6 = \dots$

13

$6 - 2 = \dots$

4

$7 + 3 = \dots$

14

$9 - 2 = \dots$

5

$2 + 2 = \dots$

15

$7 - 3 = \dots$

6

$5 + 4 = \dots$

16

$30 + 20 = \dots$

7

$12 + \dots = 13$

17

$20 + 40 = \dots$

8

$5 + \dots = 10$

18

$10 + 50 = \dots$

9

$6 + \dots = 10$

19

$50 + 30 = \dots$

10

$1 + \dots = 10$

20

$40 + 50 = \dots$

SCORE :

CP