





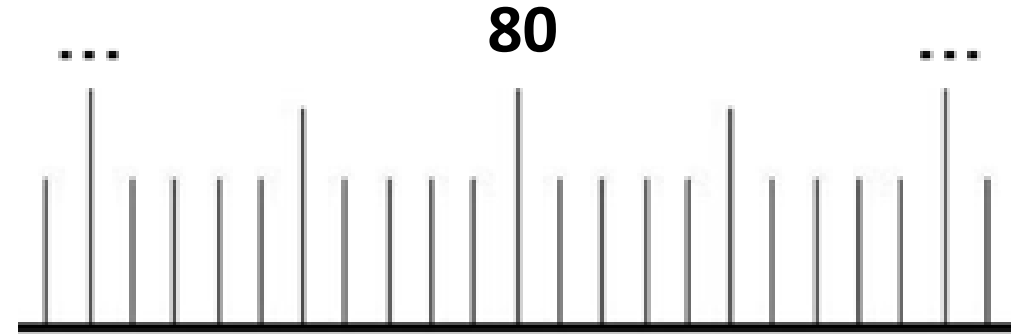
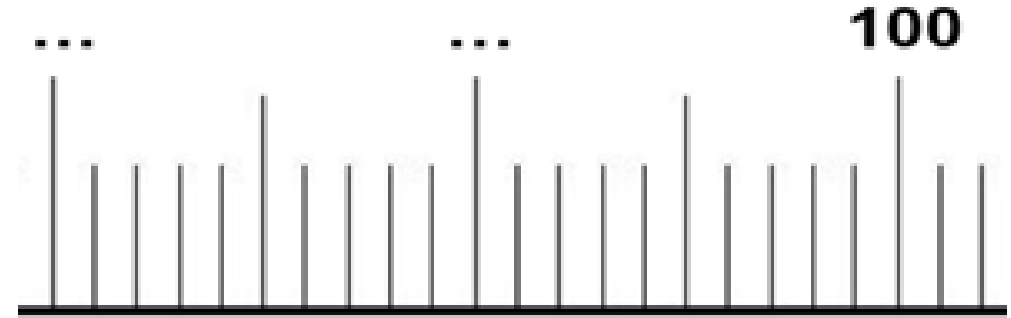


Entoure l'argent pour acheter ces objets:


**FICHE A**

	 <p><b>18€</b></p>
	 <p><b>7€</b></p>
	 <p><b>19€</b></p>

Complète les nombres manquants :



Colle les animaux du plus léger au plus lourd :

			
Plus léger		Plus lourd	

# CHRONOMATH 11



1

$1 + 5 = \dots$

11

$6 + 7 = \dots$

2

$2 + 3 = \dots$

12

$7 + 8 = \dots$

3

$4 + 5 = \dots$

13

$20 + 4 = \dots$

4

$2 + 2 = \dots$

14

$30 + 5 = \dots$

5

$3 + 3 = \dots$

15

$50 + 9 = \dots$

6

$4 + 4 = \dots$

16

$15 - 1 = \dots$

7

$6 + 6 = \dots$

17

$36 - 1 = \dots$

8

$8 + 8 = \dots$

18

$47 - 2 = \dots$

9

$6 + \dots = 10$

19

$60 + 17 = \dots$


10

$8 + \dots = 10$

20

$45 + \dots = 50$

Pour exercice 3, découper les animaux et les coller :



**SCORE :**

**CP**