


Colorie en vert ce qui donne la **durée**, en rouge les **euros**, en bleu les **kilogramme** et en jaune les **kilomètres** :



Entoure la bonne réponse :

Un tigre ça pèse :

1. Des mètres
2. Des kilogrammes
3. De l'argent

Des feutres ça coûte :

1. Des mètres
2. Des grammes
3. De l'argent

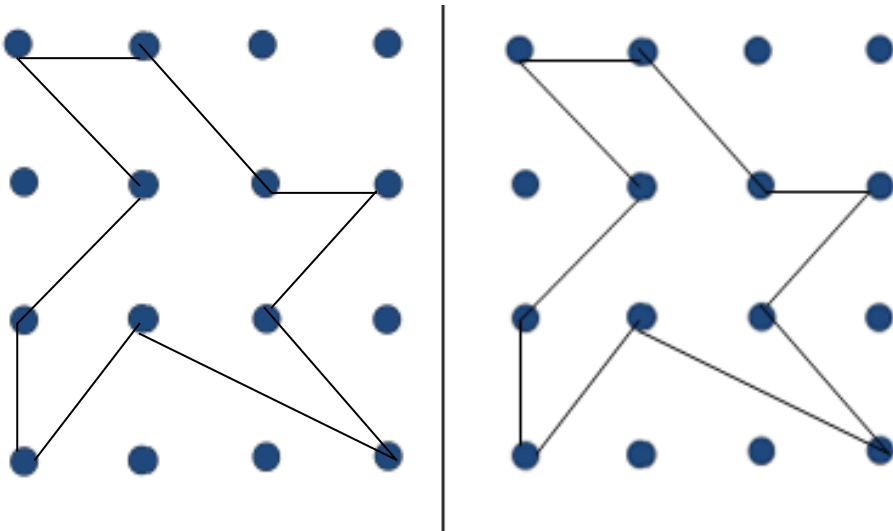
Un canapé mesure :

1. De l'argent
2. Des mètres
3. Des kilogrammes


La France mesure :

1. Des grammes
2. Des mètres
3. Des kilomètres

Reproduis la forme ci-dessous :



Continue le dallage comme le modèle :



Calcule :

Fiche calcul (5)	Fiche calcul (6)
$5 + 4 = \dots 9$	$6 + 4 = \dots 10$
$5 - 4 = \dots 1$	$5 - 2 = \dots 3$
$10 - 5 = \dots 5$	$11 - 3 = \dots 8$
$10 - 10 = \dots 0$	$6 - 4 = \dots 2$
$8 + 3 = \dots 11$	$18 + 3 = \dots 11$

# CHRONOMATH 5



1	$1 + 4 =$	5	11	$6 + 6 =$	12
2	$8 + 1 =$	9	12	$9 - 1 =$	8
3	$9 + 1 =$	10	13	$40 + 5 =$	45
4	$5 + 2 =$	7	14	$15 - 1 =$	14
5	$3 + 3 =$	6	15	$12 + 3 =$	15
6	$10 + 6 =$	16	16	$20 + 30 =$	50
7	$4 + 4 =$	8	17	$32 + 20 =$	52
8	$20 + 9 =$	29	18	$16 - 4 =$	12
9	$5 + 5 =$	10	19	$25 - 5 =$	20
10	$4 + 6 =$	10	20	$31 - 2 =$	29

**SCORE :**

**CP**