


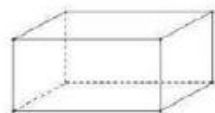
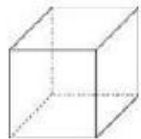
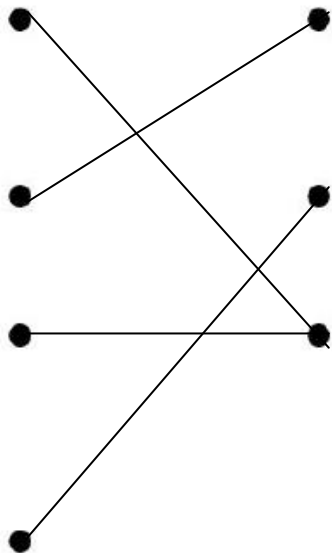
A découper sur les pointillés :



Mesure les bandes et écris les unités à côtés :




Relie les objets au solide qui leur ressemble :



Calcule ces losanges le plus rapidement possible :

Attention : interdiction de les compter un par un !



$$3 + 3 + 3 + 3 + 3 + 3 + 3 + 3 + 3 + 3 + 2 = 29$$

Range les nombres suivants dans la bonne famille :

76 48 34 36 71
 45 79 39 42

Famille de quarante	Famille de trente	Famille de soixante-dix
48 45 42	34 36 39	76 71 79

Calcule en moins de 3 minutes !

$15 + 3 = \dots\dots\dots 18$

$23 + 5 = \dots\dots\dots 28$

$35 - 4 = \dots\dots\dots 31$

$43 + 4 = \dots\dots\dots 47$

$43 + 20 = \dots\dots\dots 63$

$52 - 20 = \dots\dots\dots 32$

$22 - 3 = \dots\dots\dots 19$

$26 + 4 = \dots\dots\dots 30$

$49 - 8 = \dots\dots\dots 41$

$20 - 10 = \dots\dots\dots 10$

$45 + 30 = \dots\dots\dots 75$

$27 + 10 = \dots\dots\dots 37$

$35 - 4 = \dots\dots\dots 31$

$60 - 30 = \dots\dots\dots 30$

$10 + 4 = \dots\dots\dots 14$

$20 + 10 = \dots\dots\dots 30$

$35 - 5 = \dots\dots\dots 30$

$22 + 4 = \dots\dots\dots 26$

$40 + 20 = \dots\dots\dots 60$

$50 - 10 = \dots\dots\dots 40$

$24 - 3 = \dots\dots\dots 21$

$26 + 2 = \dots\dots\dots 28$

$43 - 10 = \dots\dots\dots 33$

$20 - 9 = \dots\dots\dots 11$

$24 + 30 = \dots\dots\dots 54$

$26 + 20 = \dots\dots\dots 46$

$35 - 3 = \dots\dots\dots 32$

$50 - 20 = \dots\dots\dots 30$

C