

Complète le tableau de nombres jusqu'à 100 :

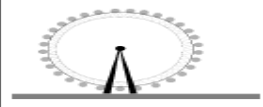


	1	2	3	4	5	6	7	8	9
10	11	12	13	14	15	16	17	18	19
20	21	22	23	24	25	26	27	28	29
30	31	32	33	34	35	36	37	38	39
40	41	42	43	44	45	46	47	48	49
50	51	52	53	54	55	56	57	58	59
60	61	62	63	64	65	66	67	68	69
70	71	72	73	74	75	76	77	78	79
80	81	82	83	84	85	86	87	88	89
90	91	92	93	94	95	96	97	98	99

Calcule :

$2 + 2 =$	4
$3 + 3 =$	6
$4 + 4 =$	8
$5 + 5 =$	10

$7 + 7 =$	14
$8 + 8 =$	16
$9 + 9 =$	18
$10 + 10 =$	20

Voici les tarifs de trois attractions différentes :

		ENFANT	ADULTE
La grande roue		6 €	7 €
Montagnes Russes		4 €	5 €
Carrousel		2 €	3 €

Réponds aux questions :

Combien vais-je payer pour 1 enfant à la grande roue ?..... 6 euros

Combien vais-je payer pour 1 adulte aux montagnes russes ? 5 euros

Combien vais-je payer pour 2 adultes au carrousel ?..

.3euros...+.3euros.....=.....6.euros.....e

Combien vais-je payer pour 2 enfants et 1 adulte au

carrousel ?..3euros...+.3euros.....+2 euros...=.....8 euros.....e

Continue le dallage comme le modèle :



CHRONOMATH 5



1	$1 + 4 =$	5	11	$6 + 6 =$	12
2	$8 + 1 =$	9	12	$9 - 1 =$	8
3	$9 + 1 =$	10	13	$40 + 5 =$	45
4	$5 + 2 =$	7	14	$15 - 1 =$	14
5	$3 + 3 =$	6	15	$12 + 3 =$	15
6	$10 + 6 =$	16	16	$20 + 30 =$	50
7	$4 + 4 =$	8	17	$32 + 20 =$	52
8	$20 + 9 =$	29	18	$16 - 4 =$	12
9	$5 + 5 =$	10	19	$25 - 5 =$	20
10	$4 + 6 =$	10	20	$31 - 2 =$	29

SCORE :

CP