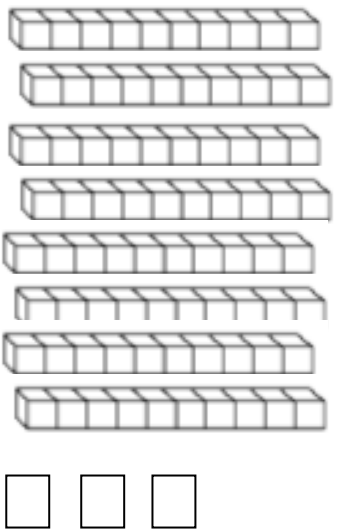

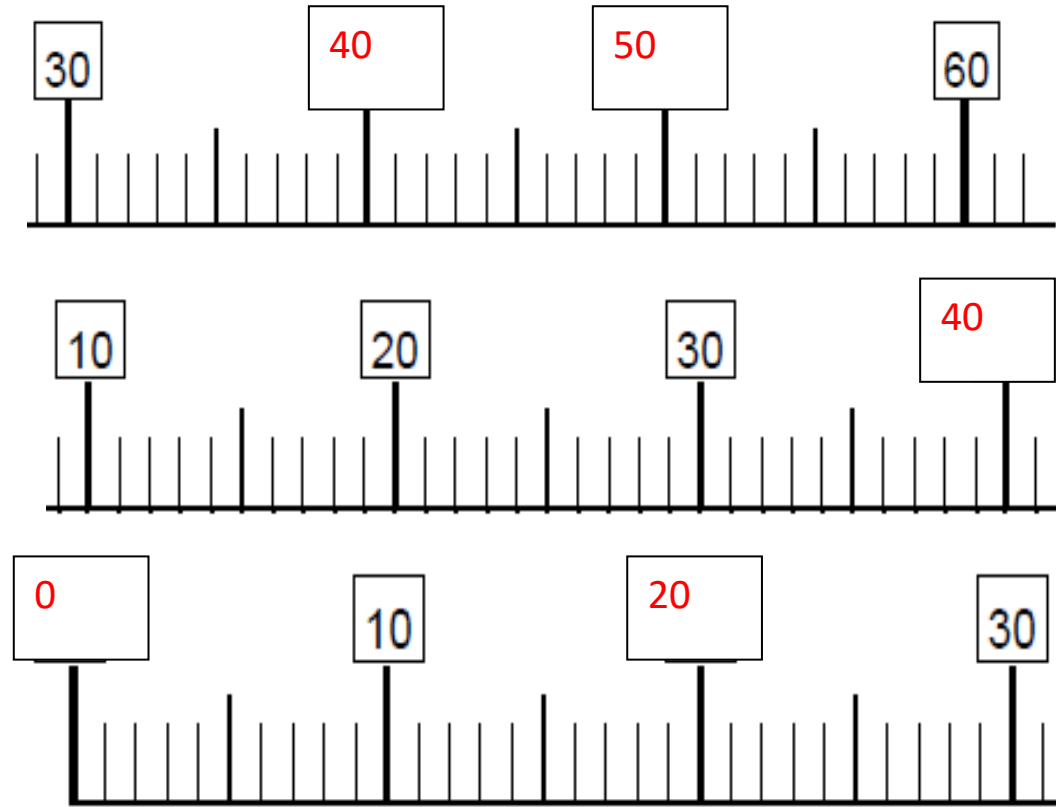


Complète le tableau:

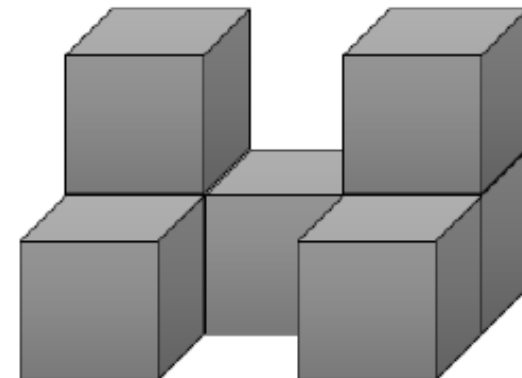
J'écris en chiffres	J'organise	Je représente	J'entends
83	8 Dizaines+ 3 unités $80 + 3$		« quatre-vingt-trois »
94Dizaines+unités $90 + 4$		« quatre-vingt-quatorze »

Complète les droites graduées



Compte puis écris le nombre de cube présents ci-dessous :

Cubes (A)



Il y a 7 cubes.

CHRONOMATH 8



1

$2 + 4 = \dots$

6

2

$7 + 1 = \dots$

8

3

$4 + 6 = \dots$

10

4

$7 + 3 = \dots$

10

5

$2 + 2 = \dots$

4

6

$5 + 4 = \dots$

9

7

$12 + \dots = 13$

8

8

$5 + \dots = 10$

5

9

$6 + \dots = 10$

4

10

$1 + \dots = 10$

9

11

$8 - 1 = \dots$

7

12

$11 - 1 = \dots$

10

13

$6 - 2 = \dots$

4

14

$9 - 2 = \dots$

7

15

$7 - 3 = \dots$

4

16

$30 + 20 = \dots$

50

17

$20 + 40 = \dots$

60

18

$10 + 50 = \dots$

60

19

$50 + 30 = \dots$

80

20

$40 + 50 = \dots$

90

SCORE :

CP