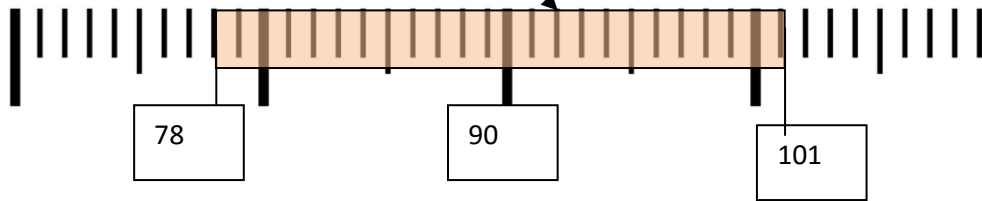
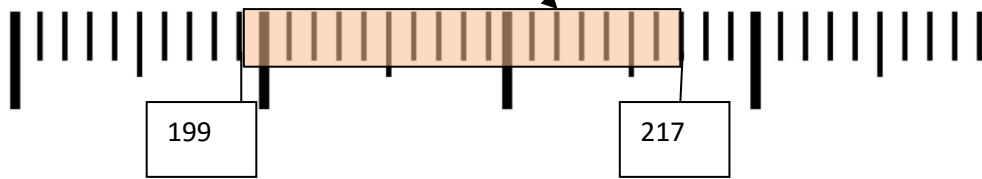


Utilise la droite graduée suivants pour calculer les écarts suivants :

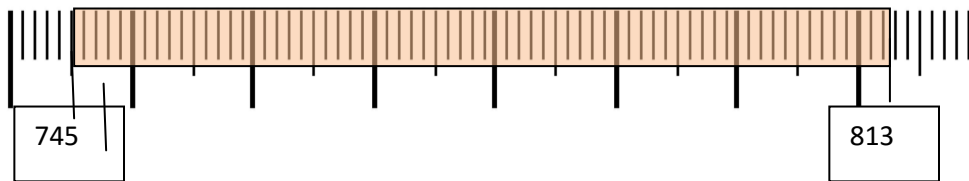
Ecart entre 78 et 101 : $101 - 78 = 23$



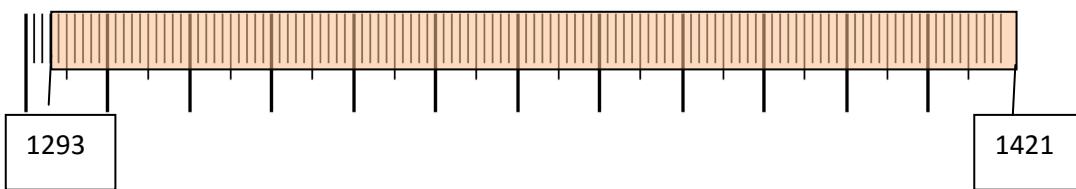
Ecart entre 199 et 217 : $217 - 199 = 18$



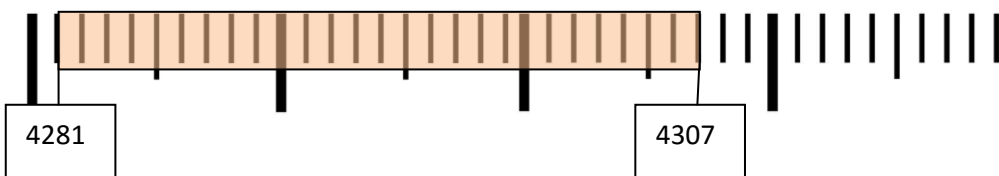
Ecart entre 745 et 813 : $813 - 745 = 68$



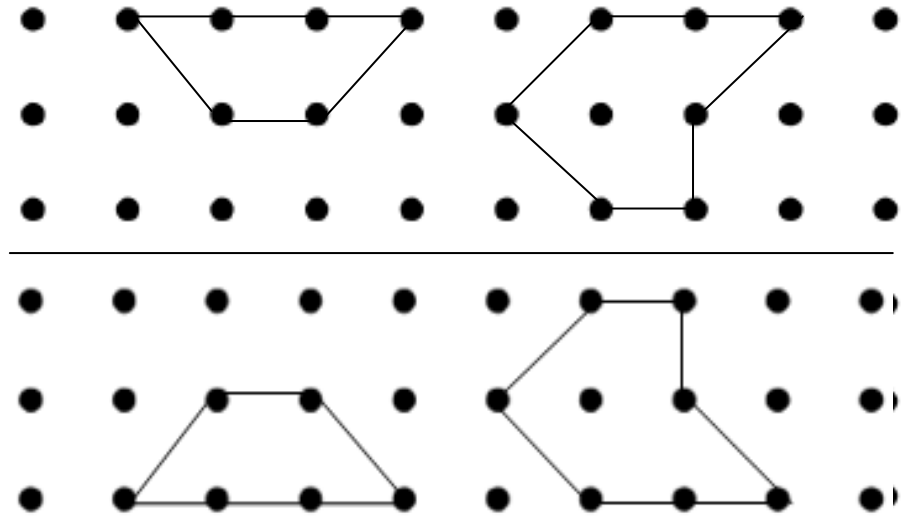
Ecart entre 1293 et 1421 : $1421 - 1293 = 128$



Ecart entre 4281 et 4307 : $4307 - 4281 = 26$



Reproduit la symétrie de ces deux figures :



Dans un zoo, les visiteurs peuvent faire des dons (donner de l'argent) pour aider leur espèce préférée. Voici le tableau qui compte l'argent récolté pendant plusieurs mois :

	Tigres	Koalas	Pandas	Tortues
Juin	156 €	301 €	166 €	84 €
Juillet	230 €	188 €	203 €	231 €
Aout	195 €	213 €	255 €	301 €
Septembre	93 €	50 €	35 €	125 €

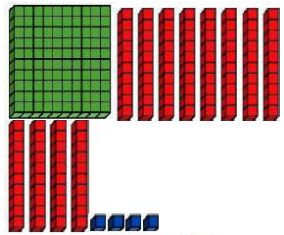
1/ Quel animal a récolté 255 € en aout ?

Les pandas.

2/ Combien les koalas ont récolté en juillet ?

Les koalas ont récoltés 188 euros en juillet.

Complète le tableau :



En chiffre

...224

C.D et U

2C

2 D et

4 U

En lettre

Deux-cents-vingt-quatre

.....

.....

Calcule en moins de 3 minutes !

$108 + 12 = \dots\dots\dots 120$

$105 + 2 = \dots\dots\dots 107$

$203 + 101 = \dots\dots\dots 304$

$230 + 50 = \dots\dots\dots 280$

$305 - 6 = \dots\dots\dots 299$

$350 - 40 = \dots\dots\dots 390$

$202 + 410 = \dots\dots\dots 612$

$403 + 40 = \dots\dots\dots 443$

$420 + 60 = \dots\dots\dots 480$

$483 + 20 = \dots\dots\dots 503$

$500 - 100 = \dots\dots\dots 400$

$552 - 30 = \dots\dots\dots 582$

$240 - 30 = \dots\dots\dots 210$

$220 - 10 = \dots\dots\dots 210$

$267 + 7 = \dots\dots\dots 260$

$260 + 4 = \dots\dots\dots 264$

$403 - 10 = \dots\dots\dots 393$

$419 - 8 = \dots\dots\dots 411$

$200 - 90 = \dots\dots\dots 110$

$220 - 10 = \dots\dots\dots 210$

$243 + 303 = \dots\dots\dots 546$

$435 + 30 = \dots\dots\dots 405$

$266 + 24 = \dots\dots\dots 290$

$257 + 40 = \dots\dots\dots 297$