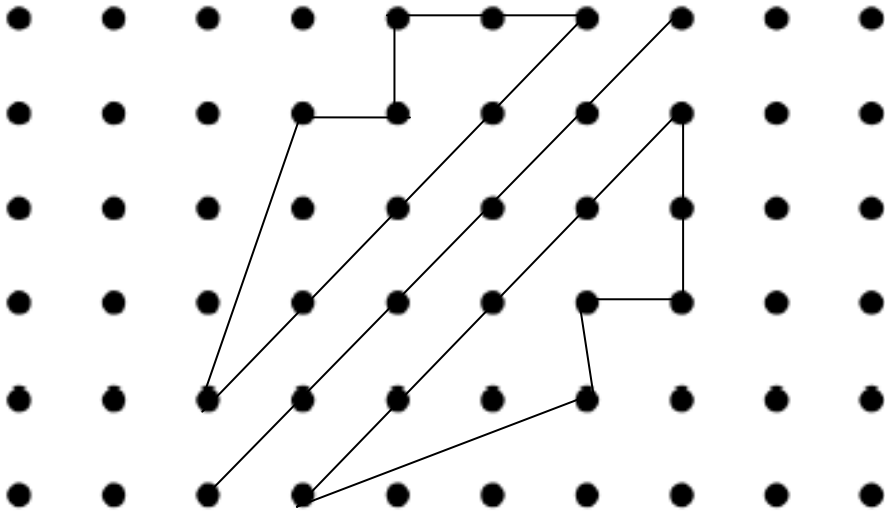
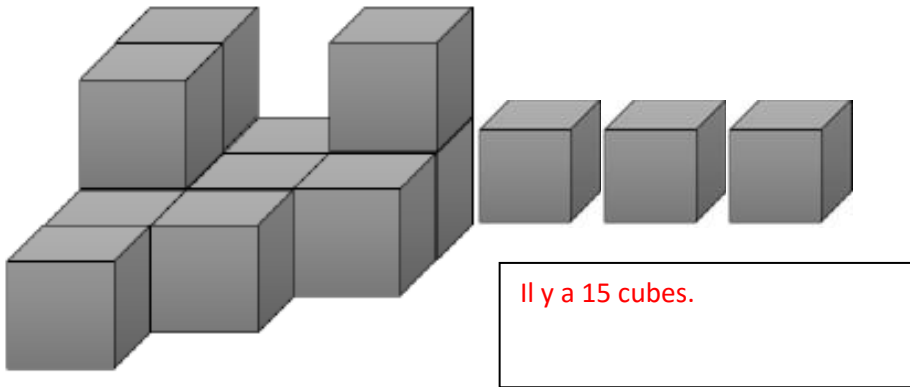


Reproduit la symétrie sur le papier pointé :



Combien y a-t-il de cubes ?



Voici le graphique des différents prix de boîte de stylo :

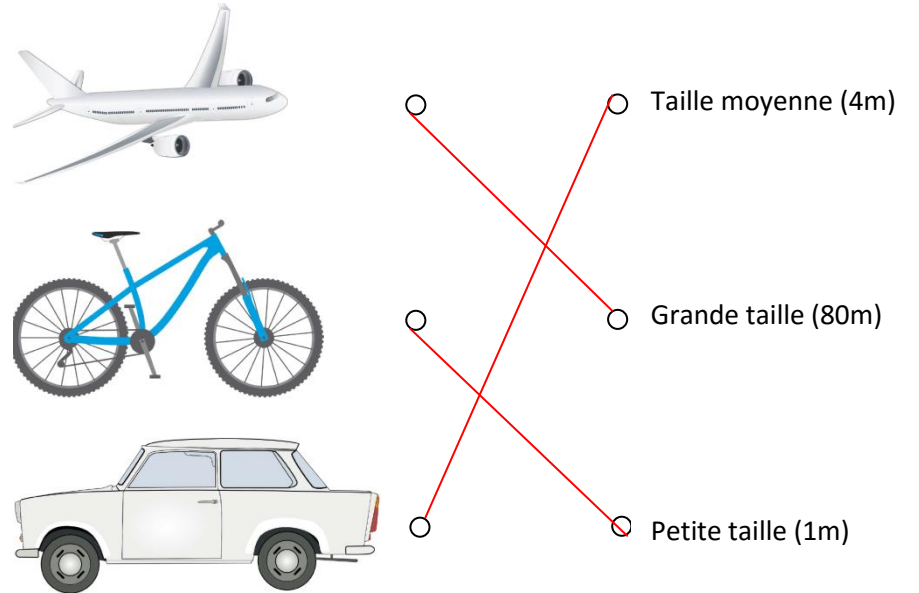
Combien coûte une boîte de stylo DONDON ? ...**96,90euros**...

Combien coûte une boîte de stylo MAGIQUE ? ...**76,00euros**.....

A quelle boîte de stylo correspond le prix de 91,80€ ? ...**Stylo BIBI**...



Relie les objets selon leur longueur :



Calcule en moins de 3 minutes !

$108 + 12 = \dots\dots\dots 120$

$105 + 2 = \dots\dots\dots 107$

$203 + 101 = \dots\dots\dots 304$

$230 + 50 = \dots\dots\dots 280$

$305 - 6 = \dots\dots\dots 299$

$350 - 40 = \dots\dots\dots 390$

$202 + 410 = \dots\dots\dots 612$

$403 + 40 = \dots\dots\dots 443$

$420 + 60 = \dots\dots\dots 480$

$483 + 20 = \dots\dots\dots 503$

$500 - 100 = \dots\dots\dots 400$

$552 - 30 = \dots\dots\dots 582$

$240 - 30 = \dots\dots\dots 210$

$220 - 10 = \dots\dots\dots 210$

$267 + 7 = \dots\dots\dots 260$

$260 + 4 = \dots\dots\dots 264$

$403 - 10 = \dots\dots\dots 393$

$419 - 8 = \dots\dots\dots 411$

$200 - 90 = \dots\dots\dots 110$

$220 - 10 = \dots\dots\dots 210$

$243 + 303 = \dots\dots\dots 546$

$435 + 30 = \dots\dots\dots 405$

$266 + 24 = \dots\dots\dots 290$

$257 + 40 = \dots\dots\dots 297$

$108 + 12 = \dots\dots\dots$

$105 + 2 = \dots\dots\dots$

$230 + 50 = \dots\dots\dots$