

Résous les problèmes suivants :

Ils sont 7 dans un grand lit. Le tout-petit pousse ses frères et il en a deux qui tombent. Combien reste-t-il d'enfant dans le lit ?

Dessin	calculs
	$7 - 2 = 5$

Phrase réponse : Il reste 5 enfants dans le grand lit.

.....

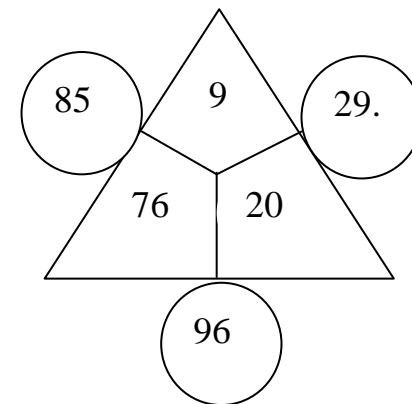
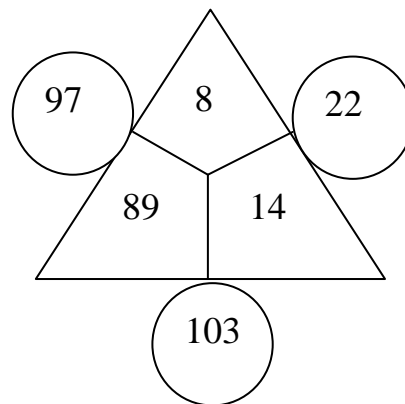
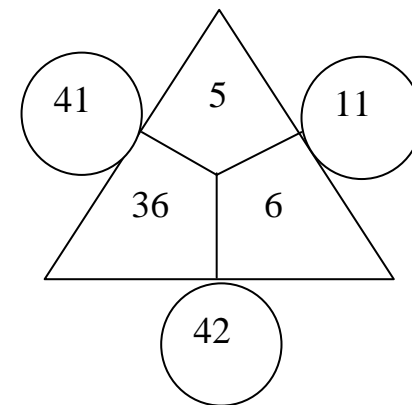
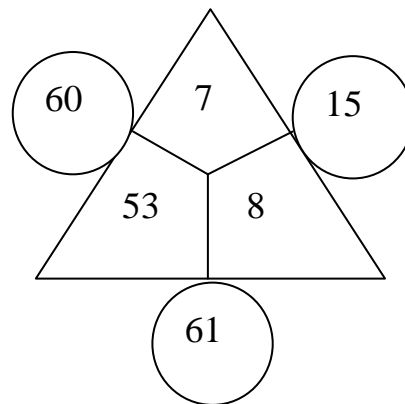
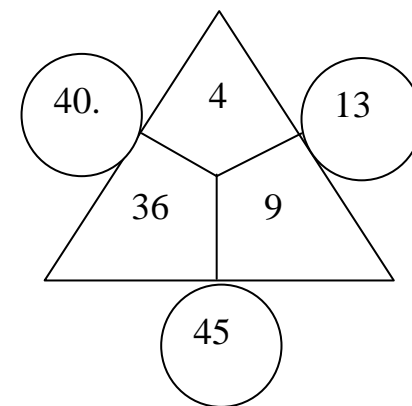
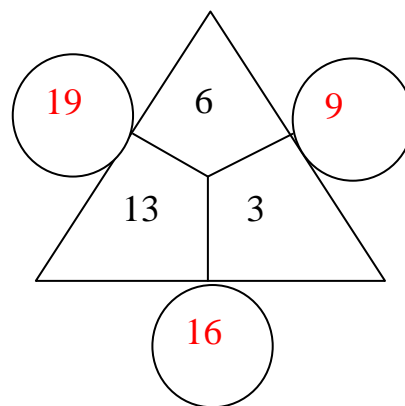
Je trace 15 traites sur l'ardoise. J'en efface 7. Combien reste-t-il de trait sur mon ardoise ?

Dessin	calculs
	$15 - 7 = 8$

Phrase réponse : Il reste 8 traits sur mon ardoise.

.....

Ecris le nombre de chaque côté des pyramides comme dans l'exemple:



**Rituel Calcul Mental Cp** *Temps : 2 minutes*

<b>4+8=</b>	<b>12</b>	<b>4+9=</b>	<b>13</b>
<b>5+9=</b>	<b>14</b>	<b>9-4=</b>	<b>5</b>
<b>3+4=</b>	<b>7</b>	<b>9+7=</b>	<b>16</b>
<b>8+8=</b>	<b>16</b>	<b>3+5=</b>	<b>8</b>
<b>3+8=</b>	<b>11</b>	<b>7-5=</b>	<b>2</b>
<b>2+7=</b>	<b>9</b>	<b>6+6=</b>	<b>12</b>
<b>3+7=</b>	<b>10</b>	<b>4+9=</b>	<b>13</b>
<b>7+4=</b>	<b>11</b>	<b>2+2=</b>	<b>4</b>
<b>2+5=</b>	<b>7</b>	<b>5+4=</b>	<b>9</b>
<b>7+7=</b>	<b>14</b>	<b>6+9=</b>	<b>15</b>
<b>4-6=</b>	<b>0</b>	<b>7-4=</b>	<b>3</b>
<b>3+3=</b>	<b>6</b>	<b>3+5=</b>	<b>8</b>
<b>1+4=</b>	<b>5</b>	<b>8-7=</b>	<b>1</b>
<b>8+9=</b>	<b>17</b>	<b>9+9=</b>	<b>18</b>
<b>2+9=</b>	<b>11</b>	<b>10-6=</b>	<b>4</b>

Total : ...../30 calculs