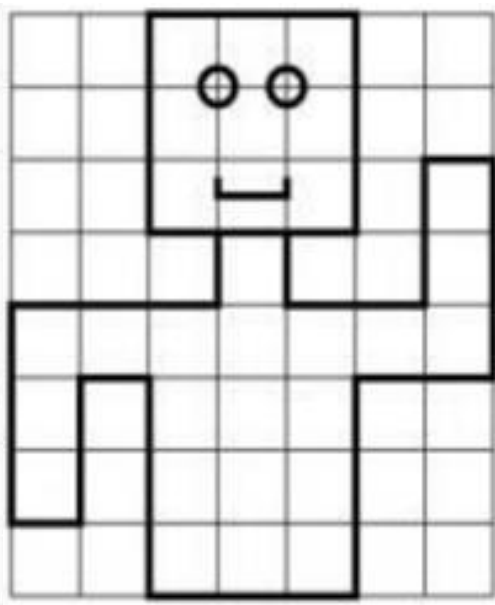
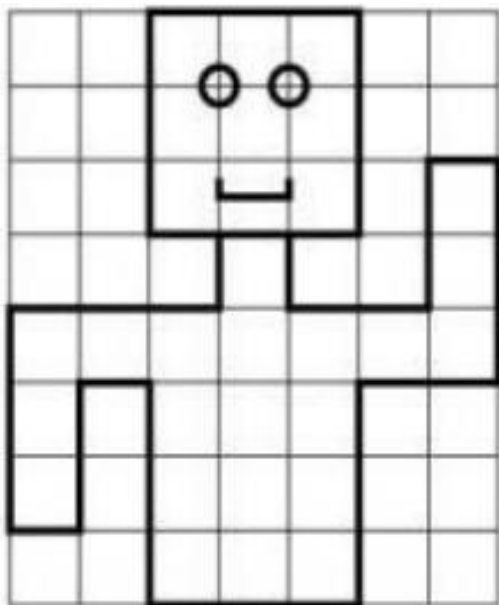
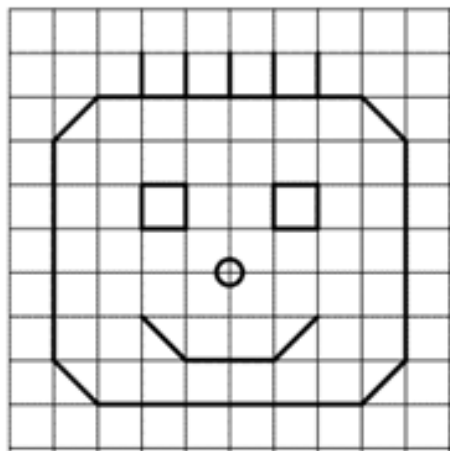
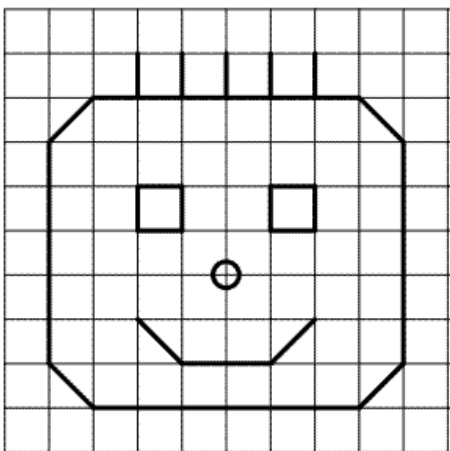


Reproduis ces figures ci-dessous:



Indique le nombre de pièces et de billets pour obtenir les quantités suivantes :

Le marchand de fruits avait 92 kg de poires en rayon ce matin. À midi, il a vendu 28 kg.

Quelle masse de poires lui reste-t-il à vendre ?



$$92 - 28 = 64$$

Il lui reste 64 kg à vendre.

Pour partir en voyage en avion, la famille Fabre a trois valises : la plus grosse pèse 32 kg, la deuxième pèse 28 kg et la plus légère pèse 24 kg.

Quelle est la masse totale des trois valises ?



$$32 + 28 + 24 = 84 \text{ kg}$$

La masse totale est de 84 kg.

L'épagneul pèse 15 kg. Le labrador pèse le double de la masse de l'épagneul.

Quelle est la masse du labrador ?



$$15 + 15 = 30 \text{ kg}$$

Le labrador pèse 30 kg.

Rituel Calcul Mental CpTemps : 2 minutes

4+8=	12	4+9=	13
5+9=	14	9-4=	5
3+4=	7	9+7=	16
8+8=	16	3+5=	8
3+8=	11	7-5=	2
2+7=	9	6+6=	12
3+7=	10	4+9=	13
7+4=	11	2+2=	4
2+5=	7	5+4=	9
7+7=	14	6+9=	15
4-6=	0	7-4=	3
3+3=	6	3+5=	8
1+4=	5	8-7=	1
8+9=	17	9+9=	18
2+9=	11	10-6=	4

Total :/30 calculs