




Les moitiés des nombres jusqu'à 20

1) Léo et Lilou se partagent **12** billes. Chacun en prend le même nombre.

Dessine les billes de chacun.




Nous en avons chacun la moitié.



La moitié de 12, c'est

2) Chaque enfant prend la moitié des fraises.

Fais le partage puis complète.



La moitié de 14, c'est

3) Complète les phrases (tu peux utiliser tes doigts ou faire un dessin) :

La moitié de 4, c'est

La moitié de 8, c'est

La moitié de 18, c'est

La moitié de 2, c'est

La moitié de 6, c'est

La moitié de 16, c'est