



Le tableau à double entrée (correction)



Observe le tableau pour **répondre** aux questions :

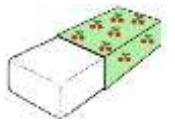


	 une gomme	 un cahier	 un stylo	 une règle
1 €	X			
2 €				X
3 €			X	
4 €		X		

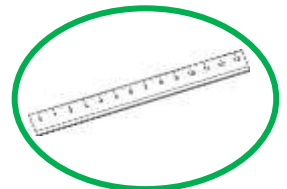
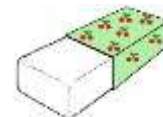
• Combien coûte le **stylo** ? **3 €**

▲ Combien coûte la **gomme** ? **1 €**

■ Quel objet coûte **4 €** ?



♥ Quel objet coûte **2 €** ?



◇ Lili achète **2 stylos** et **1 cahier**. Combien doit-elle payer ?

Écris le calcul : **$3 + 3 + 4 = 10$**

Lili doit payer **10 €**.