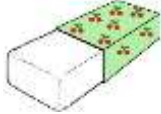





Le tableau à double entrée



Observe le tableau pour **répondre** aux questions :

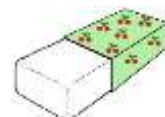


	 une gomme	 un cahier	 un stylo	 une règle
1 €	X			
2 €				X
3 €			X	
4 €		X		

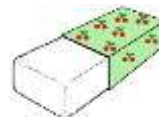
● Combien coûte **le stylo** ? €

▲ Combien coûte **la gomme** ? €

■ Quel objet coûte **4 €** ?



♥ Quel objet coûte **2 €** ?



◇ Lili achète **2 stylos** et **1 cahier**. Combien doit-elle payer ?

Écris le calcul :

Lili doit payer € .