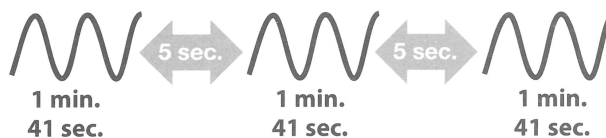


Conduite à tenir face au risque technologique




Ce qu'il faut faire en cas d'alerte

**ALERTE**

Une sirène au son modulé :
3 fois 1 minute et
41 secondes,
espacées de 5 secondes



Si vous entendez la sirène, il faut réagir immédiatement


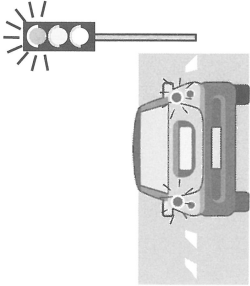
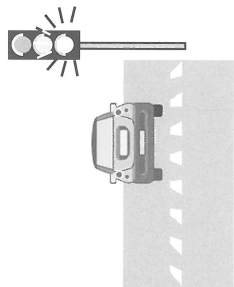
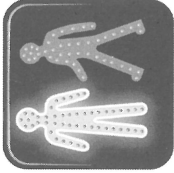




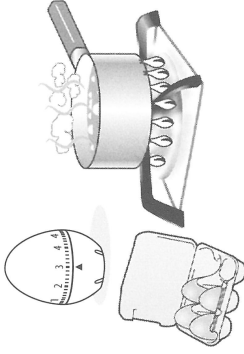
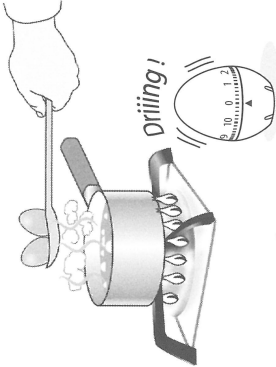


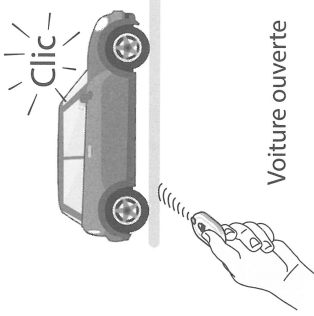
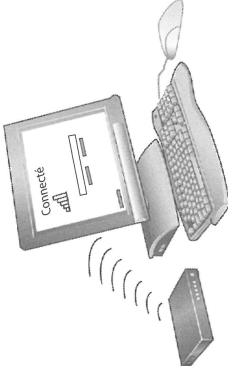
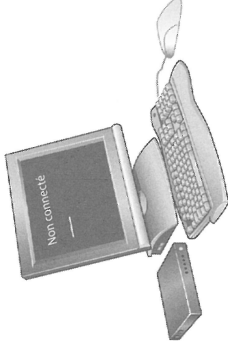


**Jusqu'à la fin de l'alerte, respectez impérativement
les consignes données par les autorités**

**FIN D'ALERTE**

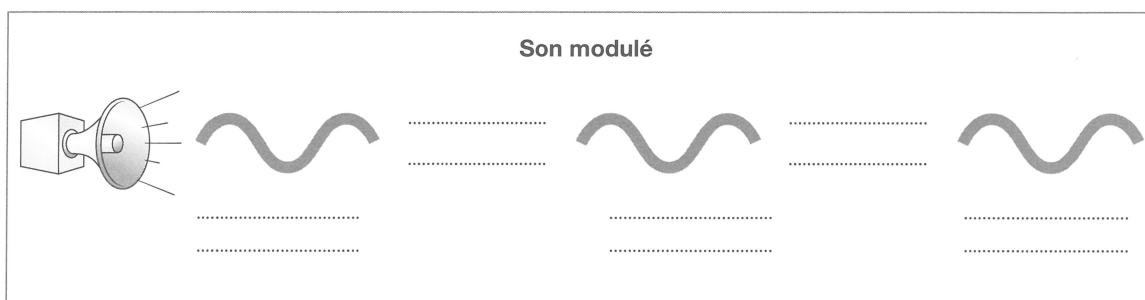
Une sirène au son modulé continu de 30 secondes

Signal, informations et actions

TRANSMISSION D'UNE INFORMATION POUR :			
FORME DU SIGNAL :  LUMINEUX	 Ne pas passer	 Passer	
	 Ne pas avancer	 Avancer	
	 Ne pas se réveiller	 Se réveiller	
 SONORE	 Œufs en train de cuire	 Œufs cuits	
 RADIO	 Voiture fermée	 Voiture ouverte	 Ordinateur connecté  Ordinateur non connecté

1

Complète ce schéma et explique ce qu'est le Signal National d'Alerte.



2

Pour chaque proposition, coche la réponse qui convient.

a. Le Signal National d'Alerte est un signal :

☐ lumineux.☐ sonore.☐ radio.

b. Son rôle est d'alerter la population :

☐ qu'il est l'heure de se coucher.☐ de la fin de l'école.☐ d'un évènement grave.

c. Lorsque l'on entend le Signal National d'Alerte, il faut :

☐ se précipiter dehors.☐ se confiner.☐ téléphoner à ses parents.

d. On sait que l'alerte est terminée quand un son continu dure :

☐ 30 secondes.☐ 45 secondes.☐ 3 minutes.

3

Complète ce texte avec les mots suivants : *minute – actions – 30 – signe – secondes – information – modulé – 41 – continu.*

Léon

Un signal est un , connu de tous, qui donne
une , un avertissement à une ou plusieurs personnes,
et qui peut indiquer le moment de faire quelque chose.

Il implique donc une ou plusieurs

Le Signal National d'Alerte est un signal sonore ,
composé de trois séquences d'une et secondes
séparées par des silences de 5 La fin de l'alerte est
un signal sonore de secondes.

3

Imagine à quel type de signal (et sur quel appareil) correspond chaque situation.

- Te rappeler un anniversaire :

.....

.....

- Prévenir les automobilistes qu'un train arrive à l'approche d'un passage à niveau :

.....

.....

- Signaler à des piétons que tu arrives à vélo derrière eux :

.....

.....

- Appeler à l'aide sur un bateau en détresse :

.....

.....

4

Les animaux aussi ont leurs signaux. Observe ces photos : indique quel signal chaque animal donne et ce que ce signal signifie d'après toi.



Signal observé :

Signification :

.....

Signal observé :

Signification :

.....



Signal observé :

Signification :

.....