

MATHS jeudi 25 juin

1 Calcul mental

Tables de multiplication: révisions

dans 25 combien de fois 5? 5 dans 12 combien de fois 3? 4

dans 16 combien de fois 4? 4 dans 14 combien de fois 2? 7

Trouver le complément à la centaine supérieure

Effectue le plus grand nombre possible de calculs en trois minutes.

$$24 \times 10 = \underline{240} \quad 33 \times 10 = \underline{330} \quad 40 \times 10 = \underline{400} \quad 98 \times 10 = \underline{980} \quad 21 \times 10 = \underline{210}$$

$$59 \times 10 = \underline{590} \quad 47 \times 10 = \underline{470} \quad 75 \times 10 = \underline{750} \quad 72 \times 10 = \underline{720} \quad 67 \times 10 = \underline{670}$$

$$10 \times 25 = \underline{250} \quad 10 \times 65 = \underline{650} \quad 10 \times 30 = \underline{300} \quad 10 \times 59 = \underline{590} \quad 10 \times 34 = \underline{340}$$

$$10 \times 70 = \underline{700} \quad 10 \times 43 = \underline{430} \quad 10 \times 86 = \underline{860} \quad 10 \times 21 = \underline{210} \quad 10 \times 99 = \underline{990}$$

$$42 \times 10 = \underline{420} \quad 87 \times 10 = \underline{870} \quad 50 \times 10 = \underline{500} \quad 88 \times 10 = \underline{880} \quad 26 \times 10 = \underline{260}$$

$$10 \times 37 = \underline{370} \quad 10 \times 44 = \underline{440} \quad 10 \times 12 = \underline{120} \quad 10 \times 32 = \underline{320} \quad 10 \times 95 = \underline{950}$$


$$10 \times 10 = \underline{100} \quad 10 \times 38 = \underline{380} \quad 10 \times 17 = \underline{170} \quad 10 \times 20 = \underline{200} \quad 10 \times 80 = \underline{800}$$

$$4 \times 10 = \underline{40} \quad 15 \times 10 = \underline{150} \quad 28 \times 10 = \underline{280} \quad 54 \times 10 = \underline{540} \quad 85 \times 10 = \underline{850}$$

3 Lire l'heure (5^{ème} séance) : fichier


1 Barre les horaires qui ne correspondent pas à l'horloge.

matin




~~6 heures~~ ~~10h00~~ ~~12h00~~
10h00 10 heures ~~9h00~~

après-midi




~~3 heures~~ 2 heures ~~15 heures~~
14h00 14 heures ~~mid~~

soir



19 heures 30 ~~7h30~~ ~~18 heures~~
~~6h00~~ ~~7 heures~~ 19h30

matin



~~10h00~~ ~~6 heures~~ ~~18 heures~~
~~6h00~~ 11 heures et demie 11h30

Observe et complète.



Complète avec les mots: matin, après-midi, soir.

2



Matin



après midi



matin



après midi



soir

Écris l'heure sur les cadrans.

3



matin

7:00



après-midi

15:30



matin

9:30



soir

22:00

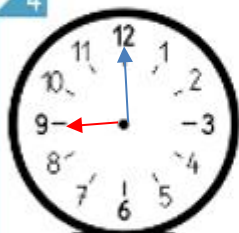


matin

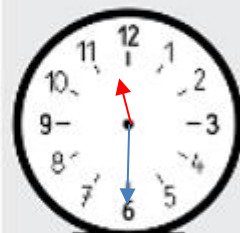
11:00

Dessine les aiguilles.

4



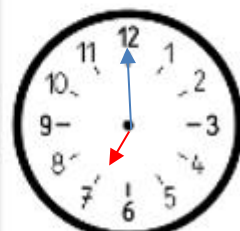
9h00



11h30



17h30



19h00

Complète.

5



matin

Il est 6h30



après-midi

Il est 16h30



après-midi

Il est 15h00



matin

Il est 11h00

Calcule.

$$\begin{array}{r} 376 \\ + 217 \\ \hline 593 \end{array}$$

$$\begin{array}{r} 283 \\ + 457 \\ \hline 740 \end{array}$$

$$\begin{array}{r} 79 \\ - 37 \\ \hline 42 \end{array}$$

$$\begin{array}{r} 51 \\ - 25 \\ \hline 26 \end{array}$$