





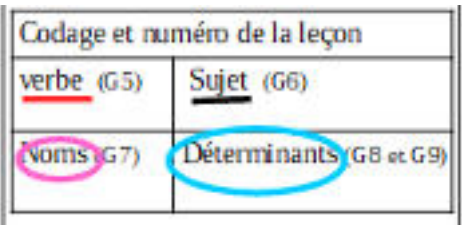














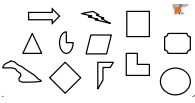




Plan de travail CE1			
Matière 	Activité 	Matériel/ support 	
Semaine du 20/04 au 24/04 <b>Mardi 21 avril 2020</b>			
	<b>10h-10h30 : Emission sur France 4</b> La soustraction et unité de numération  <b>!! PENSER A REGARDER L'EMISSION DU MERCREDI 22 AVRIL EGALEMENT !!</b>	<ul style="list-style-type: none"> <li>France 4</li> </ul>	
<b>Phrase du jour</b>  5 min	Recopie la phrase dans ton cahier du jour et suis les indications de codage :  <b>Tu fais du sport à la maison.</b>  	<ul style="list-style-type: none"> <li>Cahier du jour</li> </ul>	
<b>Ecriture</b>  15 min	<b>Cahier d'écriture :</b> Faire la page suivante (1 page)	<ul style="list-style-type: none"> <li>Cahier d'écriture</li> </ul>	
<b>Vocabulaire</b>  15 min	Mots de la liste 21 en entier	<ul style="list-style-type: none"> <li>Cahier de brouillon</li> </ul>	liste 21 la neige - la reine - le frère - le poulet - la forêt - dès que - il y a - nous mangeons - nous faisons - vous faites
<b>Lecture</b>  20 min	<ul style="list-style-type: none"> <li><b>Lalilo</b> : Continuer de s'entraîner. → <a href="https://app.lalilo.com/#/portal">https://app.lalilo.com/#/portal</a></li> <li><b>Devinettes</b> : Voir annexe MARDI p.3, 4 ↓</li> </ul>	<ul style="list-style-type: none"> <li>Site <b>LALILO</b></li> <li>Cahier du jour</li> </ul>	
<b>Conjugaison</b>  20 min	<b>Le présent</b> <ul style="list-style-type: none"> <li><b>Rappel</b> : Leçon C4 et C5</li> <li><b>Exercices</b> : Les verbes du 1er groupe : voir annexe MARDI ↓ p.5 Le verbe être : <a href="https://view.genial.ly/5ca32ec1729926491688c4fe">https://view.genial.ly/5ca32ec1729926491688c4fe</a></li> </ul>	<ul style="list-style-type: none"> <li>Site <b>GENIAL.LY</b></li> <li>Lutin noir</li> <li>Cahier du jour</li> </ul>	

<p><b>Nombre du jour</b></p> <p> 5 min</p>	<p><u>Le nombre du jour : 369</u></p> <ol style="list-style-type: none"> <li>1. Ecrire le nombre en chiffres et en lettres</li> <li>2. Le décomposer : ... centaines ... dizaines ... unités ... + ... + .</li> <li>3. L'encadrer à l'unité près, à la dizaine près et à la centaine près.</li> <li>4. Dire s'il est pair ou impair</li> </ol>	<ul style="list-style-type: none"> <li>• Ardoise</li> </ul>	
<p><b>Calcul Mental</b></p> <p> 5 min</p> <p><b>Multiplication</b></p> <p> 10 min</p>	<ul style="list-style-type: none"> <li>• <b>Calcul@fice</b> : CE1 &gt; Complémenter à 10, 20, 30... <u>Math brique</u>, niveau au choix</li> <li>• La table de 2</li> </ul> <p>Exercices sur <b>Multiplicator</b> : <a href="http://www.multiplicator.fr/jeux-de-tables-de-multiplication/table-de-2.html">http://www.multiplicator.fr/jeux-de-tables-de-multiplication/table-de-2.html</a></p>	<ul style="list-style-type: none"> <li>• Sites <b>CALCUL@TICE</b> et <b>MULTIPLICATOR</b></li> </ul>	<p><b>Math brique</b></p> <p>Poser des briques avec la souris et calculer la hauteur de la construction.</p>  <p>Hauteur = 50</p> 
<p><b>Géométrie</b></p> <p> 15 min</p>	<p><b>Les polygones</b></p> <ul style="list-style-type: none"> <li>• Leçon GEOM9</li> <li>• Exercices 1 et 2 en <b>annexe MARDI</b> p.5 ↓</li> </ul>	<ul style="list-style-type: none"> <li>• Lutin noir</li> <li>• Cahier du jour</li> </ul>	
<p><b>Résolution de problèmes</b></p> <p> 15 min</p>	<p>Résoudre les deux problèmes en <b>annexe MARDI</b> p.6 ↓</p>	<ul style="list-style-type: none"> <li>• Cahier du jour ou de brouillon</li> </ul>	
<p><b>Défi construction</b></p>	<p><b>Consigne :</b> Construis la tour la plus haute possible. Tu peux utiliser des légos, des kaplas ou tout autre chose en fonction de ce que tu as à la maison</p>	<ul style="list-style-type: none"> <li>• Ce que tu trouves chez toi</li> </ul>	



**Pas besoin d'imprimer.**  
**Dans le cahier du jour, il faut écrire la date (ex : lundi 20 avril) ou dans le cahier de brouillon (20/04).**



**C'EST PARTI !**  
**TRAVAILLEZ BIEN !**

A la fin de chaque journée, il serait important de nous **prendre en photo le travail** produit par votre enfant et de nous l'envoyer, soit par mail, soit au numéro de votre enseignant référent.

N'hésitez pas à faire des pauses avec votre enfant. Définissez l'ordre que vous souhaitez pour les exercices, alternez les activités de mathématiques et de français, les activités écrites et sur l'ordinateur. Les durées des exercices sont données à titre indicatif.

## Annexe MARDI

### Lecture - Devinettes :

Note le numéro de la devinette et réponds-y dans ton cahier du jour.

#### Devinettes (texte noir)

1	<p>Maman installe bébé dans son petit siège à l'arrière. Elle s'assied à l'avant et attache sa ceinture de sécurité. Elle démarre.</p> <p>Où est Maman ?</p> <p>→ .....</p>
2	<p>Ce matin, tout le monde cherche notre chat qui a disparu. Soudain, ma sœur, debout devant la porte de la maison, entend un miaulement semblant venir du ciel. Papa a compris, il a déjà posé l'échelle contre le mur de la maison pour grimper tout là-haut sur les tuiles.</p> <p>Où le chat s'est-il réfugié ?</p> <p>→ .....</p>
3	<p>Marylou lave son bol et demande à sa maman s'il est l'heure de partir à l'école.</p> <p>Dans quelle pièce de la maison est Marylou ?</p> <p>→ .....</p>
4	<p>Julien a réussi à grimper en s'accrochant à l'écorce rugueuse. Il est déjà à deux mètres du sol. Il essaie maintenant d'attraper la première branche.</p> <p>Où Julien est-il monté ?</p> <p>→ .....</p>

## Devinettes (syllabes colorées)

1	<p>Maman installe bébé dans son petit siège à l'arrière. Elle s'assied à l'avant et attache sa ceinture de sécurité. Elle démarre.</p> <p><b>Où est Maman ?</b></p> <p>→ .....</p>
2	<p>Ce matin, tout le monde cherche notre chat qui a disparu. Soudain, ma sœur, debout devant la porte de la maison, entend un miaulement semblant venir du ciel. Papa a compris, il a déjà posé l'échelle contre le mur de la maison pour grimper tout là-haut sur les tuiles.</p> <p><b>Où le chat s'est-il réfugié ?</b></p> <p>→ .....</p>
3	<p>Marylou lave son bol et demande à sa maman s'il est l'heure de partir à l'école.</p> <p><b>Dans quelle pièce de la maison est Marylou ?</b></p> <p>→ .....</p>
4	<p>Julien a réussi à grimper en s'accrochant à l'écorce rugueuse. Il est déjà à deux mètres du sol. Il essaie maintenant d'attraper la première branche.</p> <p><b>Où Julien est-il monté ?</b></p> <p>→ .....</p>

## Conjugaison

Complète les phrases en conjuguant les verbes au présent.



(**préparer**) Amélie \_\_\_\_\_ un gâteau.



(**colorier**) Nous \_\_\_\_\_ notre dessin.



(**s'embrasser**) Les mariés \_\_\_\_\_.



(**sauter**) Tu \_\_\_\_\_ en parachute.



(**jouer**) A quel jeu \_\_\_\_\_-vous ?



(**couper**) Je \_\_\_\_\_ du bois.



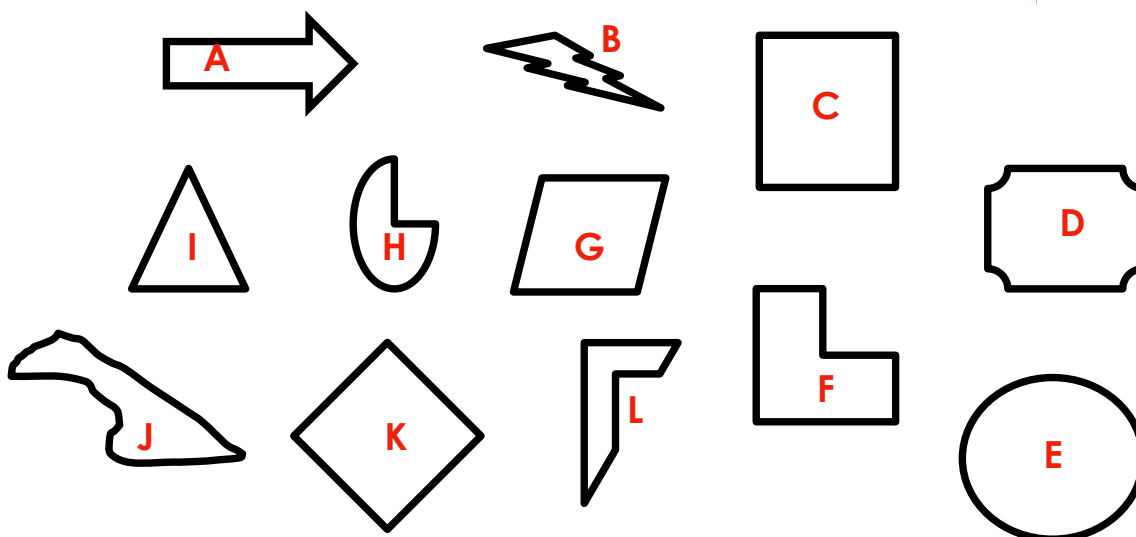
(**pousser**) Les fleurs \_\_\_\_\_ au printemps.



(**apporter**) Le Père Noël \_\_\_\_\_ des cadeaux.

## Géométrie - Les polygones

Exercice 1 : Observe les figures et note sur ton cahier celles qui sont des polygones.



Exercice 2 : Dans ton cahier, trace 3 polygones en suivant les instructions.

- un polygone avec 3 côtés
- un polygone avec 5 côtés
- Un polygone avec 6 côtés

## Résolution de problèmes

Problème 1 :

1 Laëtitia a 10 perles bleues et 38 perles jaunes.  
Combien de perles a-t-elle en tout ?

Je cherche .....

--	--	--	--	--	--	--	--	--	--	--	--	--	--


Problème 2 :

Combien de moutons sont cachés derrière la barrière ?

