

3	<p>Justin a peur. Il a mangé trop de sucreries. Maintenant il a une vilaine carie dans une molaire. Il a très mal. Papa a pris rendez-vous pour lui. Il ira jeudi.</p> <p>Où ira Justin jeudi ?</p> <p>→ Justin ira chez le dentiste.</p> <p>→</p>
4	<p>Paula fait des piqûres, distribue les médicaments, prend les températures, dit un mot gentil à droite, adresse un sourire à gauche.</p> <p>Quel est le métier de Paula ?</p> <p>→ Paula est médecin/infirmière.</p> <p>→</p>

Grammaire : Le déterminant

Exercice 1 : Choisis le déterminant qui convient.

<div style="border-bottom: 1px dashed gray; display: inline-block; width: 80%; margin-bottom: 5px;">la</div> <div style="display: inline-block; width: 80%;">le chanson</div> <div style="border-top: 1px dashed gray; display: inline-block; width: 80%; margin-top: 5px;">l'</div>	<div style="border-bottom: 1px dashed gray; display: inline-block; width: 80%; margin-bottom: 5px;">la</div> <div style="display: inline-block; width: 80%;">le avion</div> <div style="border-top: 1px dashed gray; display: inline-block; width: 80%; margin-top: 5px;">l'</div>	<div style="border-bottom: 1px dashed gray; display: inline-block; width: 80%; margin-bottom: 5px;">la</div> <div style="display: inline-block; width: 80%;">le portes</div> <div style="border-top: 1px dashed gray; display: inline-block; width: 80%; margin-top: 5px;">les</div>
<div style="border-bottom: 1px dashed gray; display: inline-block; width: 80%; margin-bottom: 5px;">la</div> <div style="display: inline-block; width: 80%;">le banane</div> <div style="border-top: 1px dashed gray; display: inline-block; width: 80%; margin-top: 5px;">l'</div>	<div style="border-bottom: 1px dashed gray; display: inline-block; width: 80%; margin-bottom: 5px;">le</div> <div style="display: inline-block; width: 80%;">l' chat</div> <div style="border-top: 1px dashed gray; display: inline-block; width: 80%; margin-top: 5px;">les</div>	<div style="border-bottom: 1px dashed gray; display: inline-block; width: 80%; margin-bottom: 5px;">la</div> <div style="display: inline-block; width: 80%;">l' courses</div> <div style="border-top: 1px dashed gray; display: inline-block; width: 80%; margin-top: 5px;">les</div>

Exercice 2 : Pour chaque groupe de mot, trouve le déterminant

<div style="border-bottom: 1px dashed gray; display: inline-block; width: 80%; margin-bottom: 5px;">le vieux canapé</div>	<div style="border-bottom: 1px dashed gray; display: inline-block; width: 80%; margin-bottom: 5px;">la belle dame</div>
<div style="border-bottom: 1px dashed gray; display: inline-block; width: 80%; margin-bottom: 5px;">sa fine moustache</div>	<div style="border-bottom: 1px dashed gray; display: inline-block; width: 80%; margin-bottom: 5px;">cette femme tremblante</div>
<div style="border-bottom: 1px dashed gray; display: inline-block; width: 80%; margin-bottom: 5px;">l'étoile brillante</div>	<div style="border-bottom: 1px dashed gray; display: inline-block; width: 80%; margin-bottom: 5px;">son grand cœur</div>

Calculs - La multiplication


1 Combien y a-t-il de gâteaux ?

Exemple - Il y a 3 boîtes de 4 gâteaux.



$$4 + 4 + 4 = 12$$


$$3 \times 4 = 12$$


$$\underline{2} + \underline{2} + \underline{2} + \underline{2} = \underline{8}$$
$$\underline{4} \times \underline{2} = \underline{8}$$

2 Combien y a-t-il de voitures ?

$$\underline{3} + \underline{3} + \underline{3} + \underline{3} = \underline{12}$$

$$\underline{4} \times \underline{3} = \underline{12}$$



3 Combien y a-t-il de voitures ?



$$\underline{5} + \underline{5} + \underline{5} = \underline{15}$$

$$\underline{3} \times \underline{5} = \underline{15}$$

4 Dessine le nombre de paquets de billes correspondant à l'opération.

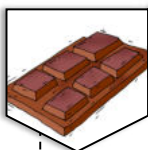


$$2 + 2 + 2 = \underline{6}$$

$$\underline{3} \times \underline{2} = \underline{6}$$

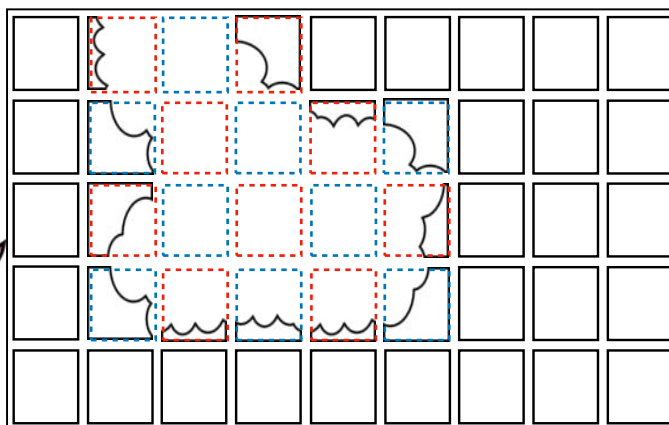

Résolution de problèmes

Problème 1 :



Jordi a croqué la tablette de chocolat. Combien y avait-il de carrés dans cette tablette ?


45




Problème 2 :



J'ai photographié, ce matin, 7 têtes et 26 pattes.
Combien de fois ai-je photographié Gavroche
et Hypolite.



4



3

