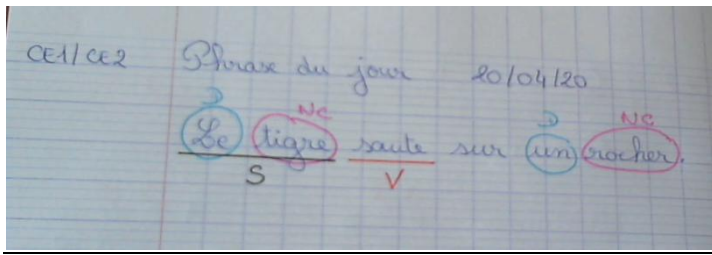


Correction du travail CE2 lundi 20 avril



Le nombre du jour : **3 182** → nombre **pair**

1. Ecriture en lettres : **Trois - mille - cent - quatre-vingt-deux**

2. Le décomposer :

3 milliers **1** centaine **8** dizaines **2** unités

3 000 + 100 + 80 + 2


3. L'encadrer

→ à l'unité près : **3 181 < 3 182 < 3 183**

→ à la dizaine près : **3 180 < 3 182 < 3 190**


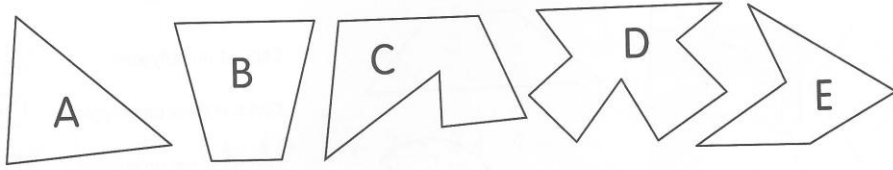
→ à la centaine près : **3 100 < 3 182 < 3 200**

Additions et soustractions



Géométrie

1 Écris le nombre de côtés et de sommets de chaque polygone.



	A	B	C	D	E
Nombre de côtés	3	4	6	9	5
Nombre de sommets	3	4	6	9	5

2 Le défi de Tirobot !
Termine ces 3 polygones pour qu'ils aient 5 côtés et 5 sommets.

Il y a d'autres réponses possibles.

