






Evaluation sur l'évolution de l'habitat

1/ Relie les habitats à la bonne époque.

Préhistoire	Antiquité	Moyen Age	Epoque moderne	Epoque contemporaine
-------------	-----------	-----------	----------------	----------------------

Diagram showing connections between habitats and eras:

- Prehistoric (cave) connects to Préhistoire.
- Medieval (castle) connects to Moyen Age.
- Modern (chateau) connects to Epoque moderne.
- Contemporary (apartment) connects to Epoque contemporaine.
- Antiquity (domus) connects to Epoque contemporaine.



2/ Réponds aux questions.

A/ Où habitait les rois et les reines au Moyen Age ?

Ils habitaient dans des châteaux forts.

B/ Avec quoi étaient construites les domus ? (2 réponses sont attendues)

Elles étaient construites avec des pierres taillées, des briques et des tuiles.

C/ Dans quoi habitaient les hommes préhistoriques ? (2 réponses attendues)

Ils vivaient dans des huttes ou des grottes.

D/ Dans quoi peut-on habiter aujourd'hui ? (2 réponses attendues)

On peut habiter dans une maison ou un immeuble.

E/ Cite deux différences entre le château fort et le château de l'époque moderne.

Le château fort possède des murailles et sont construites seulement en pierre pour se protéger des attaques. Le château de la Renaissance s'ouvre sur le monde extérieur et possède des décorations.