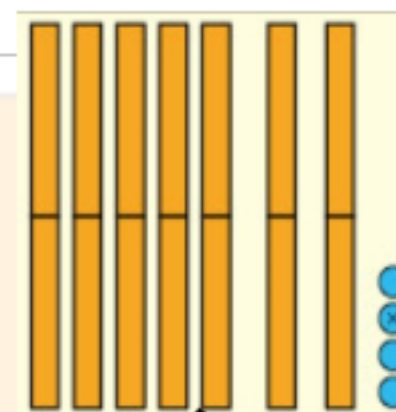


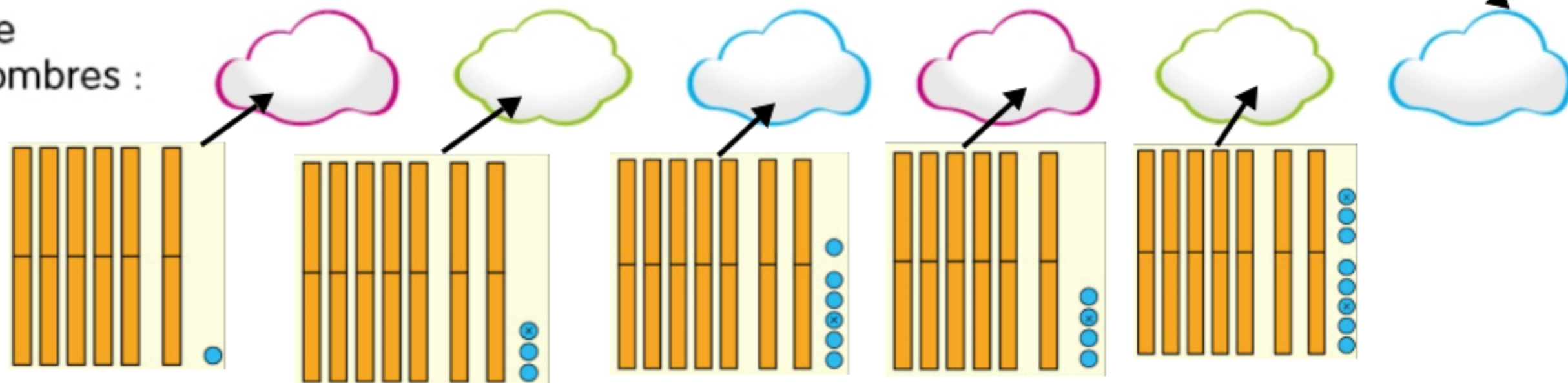
J'ai appris

Quand un nombre commence par « soixante », c'est :  
– soit 6 groupes de dix et quelque chose,  
– soit 7 groupes de dix et quelque chose.  
Cela dépend de ce que l'on entend après « soixante ».

Lire



Dictée de nombres :



Dictée de nombres dessinés. Ecrire dans les nuages du fichier les nombres dessinés sur cette page.

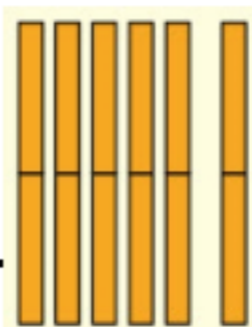
Imagine les nombres comme Picbille dans ta tête. Commence par imaginer le plus grand nombre.

Exemple:

quatorze + soixante

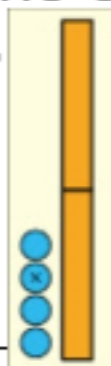
1

C'est le plus grand nombre je l'imagine



2

J'imagine ensuite quatorze



3

J'ajoute la boîte de 10 de quatorze puis les 4 billes et je trouve le résultat.

Calcule et écris les résultats en chiffres.

Tu peux utiliser le carton des nombres écrits en lettres.

quinze + soixante = .....

quarante + trente = .....

dix-huit + soixante = .....

onze + cinquante = .....

seize + cinquante = .....

sept + soixante = .....

vingt + cinquante = .....

treize + soixante = .....

soixante-deux + dix = .....

Si tu n'y arrives pas dans ta tête, dessine sur ton ardoise.

Lis et complète.

3 jouets à 5 euros l'un coutent ..... euros en tout.

2 boites de 10 chocolats, c'est .....

4 sacs de 3 billes, c'est .....

5 billets de 5 euros, c'est .....

aide pour cet exercice

Complète avec =, > ou <.

$2 + 2 + 2 \dots\dots\dots 6$

$15 \dots\dots\dots 5 + 5 + 5 + 5$

$3 + 3 + 3 + 3 + 3 \dots\dots\dots 15$


$50 \dots\dots\dots 10 + 10 + 10 + 10$

Tu peux dessiner sur ton ardoise, si tu as besoin.



5 €

1 jouet à 5 €



1 boite de 10 chocolats



1 billet de 5 €



1 sac de 3 billes