

Appréciation


*J'ai commencé ce contrat le :*

*Je l'ai fini le :*

à revoir	
à revoir	
T.bien réussi	

# CONTRAT N° 4

## CYCLE 3



**Nom :**

**Prénom :**

# GRAMMAIRE

## Construire des phrases

Je récite cette règle le :

**Recherche** : Avec les étiquettes GR-04, écris les phrases données.

**GR.02** Lis cette règle et copie la sur le cahier. 

• « On peut agrandir une phrase ».





Ex : les motos passent.      *Les motos passent très vite.*

• « On peut **réduire** une phrase »

Depuis ce matin, nous jouons de la musique.      Nous jouons de la musique

C'est le noyau

Montre ce que tu as copié à Philippe

**G1**     Exercices à faire à plusieurs

**G2** Barre ce que tu peux supprimer en ne gardant que le noyau. 😊

Ex : *Le lundi Julie travaille à la bibliothèque.* → *Julie travaille.*

- Sur la piste de l'aéroport, les avions décollent les uns après les autres.
- Dans la cage, un lion au magnifique pelage s'étire paresseusement.
- Le lendemain matin, l'ogre chaussa ses bottes.
- Le vilain animal prit son fusil de chasse.

**G3** Enrichis ces phrases à l'aide de questions : *Léo travaille (où ?)* → *Léo travaille dans les champs* 😊

Nous dansons (quand ?) →

Le chien (de qui ?) mange (quoi ?) →

Martine part (où et quand ?) →


Les enfants jouent (à quoi, où ?) →

# CONJUGAISON

## Révision - Repérer le temps du verbe

**C1** Entoure la bonne terminaison. 😊

La neige tom(era / e) cet hiver. Tout petit, Théo pleur (era/ait) souvent. La terre tour(ne/nait) autour du soleil. Avec lui, nous visit(ons/erons) Paris à Noël prochain. Demain, tu dor(s/miras) sous la tente.

**C2 Complète avec le verbe qui convient : (chantera – chantait – chante).** 😊  😊

Chaque matin, le coq ..... Demain, il ..... encore.

Autrefois, il .....plus fort.

## ORTHOGRAPHE

Le son [o]

**Recherche :** Avec le jeu **ORT-04**, classe les étiquettes en 5 groupes.  😊

**O1 Barre les mots dans lesquels tu n’entends pas [O]**

le thon - un royaume – bientôt – un oiseau – un lion – un piano – le violon – un matelot

la poire - un crapaud – la troupe – un escabeau – bientôt – un oiseau – surtout – le veau

le réseau – un haricot - loin – scorpion

**O2 Complète** par *o* ou par *eau*. *Tu peux vérifier sur ton dictionnaire.* 😊

Une .....reille – la p..... - le .....t – un v.....leur - la par.....le – dém.....lir – un rat..... - le

tabl..... - une r.....se - un escab..... - un cad..... - le noy..... - un haric.....t – le cach.....t

il est b..... - le c...q - mon d.....s – l'.....reille - le c.....quelic...t – il fait ch.....d

enc.....re – un astic.....t – il f.....t – un y.....y..... - un k.....ala – le t.....r..... –

## NUMERATION

**N1 Pose et effectue ces opérations** (2 opérations par jour). 😊

$33 + 3 =$

$45 + 6 =$

$5 + 8 + 7 =$

$32 + 11 =$

$36 + 7 =$

$42 + 8 =$

$6 + 7 + 9 =$

$38 + 7 =$

$45 - 4 =$

$36 - 4 =$

$6 + 4 + 9 =$

$38 - 7 =$

**N2 Place les dates suivantes sur la frise numérique.** Tu situeras d'abord 0 et 2 000, puis 500, 1 000 et 1 500. 😊

Place ensuite quelques grandes dates :

481 : Clovis roi des francs.

1969 : des hommes marchent sur la lune.

800 Charlemagne empereur.

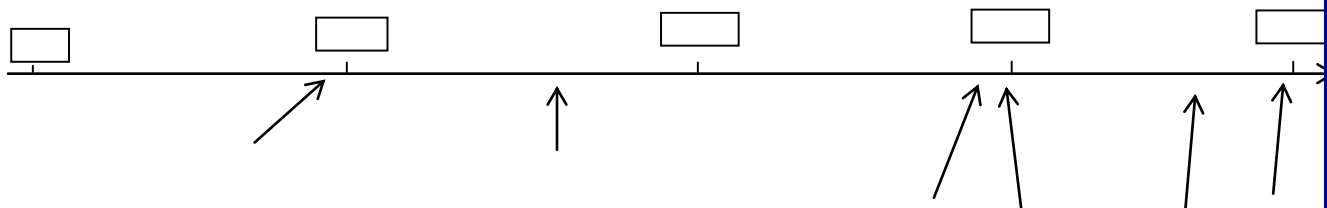
1434 : invention de l'imprimerie.

1789 : début de la révolution française.

1492 : (re)découverte de l'Amérique

..... : ton année de naissance

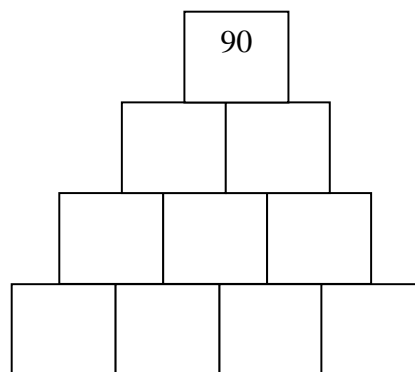
..... : cette année.



**Enigmes à résoudre à plusieurs, en famille ou entre amis.**

		4	2
	4		
		2	
3	2		

Pyramide des nombres



Entraîne-toi à dire cette phrase de plus en plus vite...

*Trente-trois très gros rats gras très tigrés dans trente-trois très grands trous très creux.*

**N3** Dans un tableau comme celui ci-dessous, place les nombres suivants et complète : 😊

5 423 – 6 254 – 8 425 – 8 500 – 9 002 – 5 042 – 6 450 – 7 205

Millier précédant	Centaine précédente	nombre	Centaine suivante	Millier suivant
3 000	3 200	3 205	3 300	4 000
		5 423		

**N4** Dans le fichier de mathématiques, fais les exercices 1 😊 et 3 😊 page 3

**N5** Dans le fichier de mathématiques, fais les exercices 1 😊, 2 😊 et 3 😊 page 4

**N6** Toujours dans le fichier, fais les exercices 1 😊 page 5 et 1 😊 page 6.

## MESURES

L'unité de longueur est le mètre, pour les masses c'est le gramme, pour les capacités il y a le litre.  
Pour le temps c'est l'heure et pour les prix l'euro.

**Mes1** Complète le tableau : 😊

Euros	1	2	5	10					
cents	100				1 200	3 000	400	150	1 250









**Mes 2** Je paye 2 heures de parking avec un billet de 5 €. On me rend 3 € 60. Combien ai-je payé ? 😊

**Mes 3** Une bouteille de deux litres est remplie au quart. Combien y-a-t-il dans la bouteille ? 😊  
Combien puis-je ajouter de liquide pour qu'elle soit pleine ?

# **BILAN :**

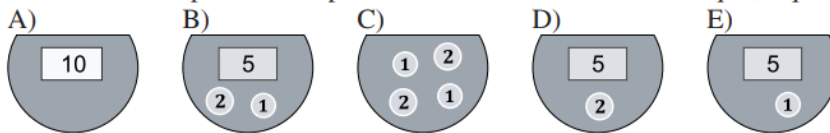
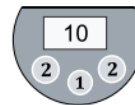
Révise bien car tu as un contrôle après ce contrat

Ce que je pense de ce contrat : .....

Matière	Exercice N°	fait	Ce que j'ai appris			
Grammaire	<b>Recherche</b>		<b>Je sais</b>	oui +85%	non -85%	
	<b>GR.02</b>					
	<b>G1</b>   					Je sais trouver le noyau d'une phrase.
	<b>G2</b>					
Conjugaison	<b>G3</b>		Je sais écrire le son [o].			
	<b>C1</b>					
Orthographe	<b>C2</b> 		Je sais effectuer des soustractions avec retenues. $2145 - 1029 =$			
	<b>Recherche</b>					
	<b>O1</b>					
Numération	<b>O2</b>		Je sais encadrer un nombre.  			
	<b>N1</b>					
	<b>N2</b>					
	<b>N3</b>					
	<b>N4</b>					
	<b>N5</b>					
Mesure	<b>N6</b>					
	<b>Mes1</b>					
	<b>Mes2</b>					
	<b>Mes3</b>					

## KANGOUROU DES MATHÉMATIQUES

- 1- Lola a des euros dans son porte-monnaie. Voici le dessin de son porte-monnaie : Elle dépense 7 euros dans une boutique. Un des dessins représente son porte-monnaie en sortant de la boutique ; lequel ?



- 2- J'ai choisi un nombre entier à deux chiffres. Si je multiplie les deux chiffres de ce nombre, je trouve 15. Que vais-je trouver si je les additionne ?
- A) 2      B) 4      C) 6      D) 8      E) 15

- 3- L'île au cocotier a un contour très découpé. Certaines tortues nagent dans la mer et d'autres se reposent dans l'île. Combien de tortues se reposent dans l'île ?

- A) 5      B) 6  
C) 7      D) 8  
E) 9

