


J'ai commencé ce contrat le :

Je l'ai fini le :

<u>Appréciation</u>	
à revoir	
à revoir	
T.bien réussi	

CONTRAT N° 2

Ecole d'Ennery



Nom :

Prénom :

GRAMMAIRE

La phrase, trouver le verbe dans la phrase.

G1 Dans ces phrases, trouve le verbe et écris-le sur les pointillés : 😊

Le petit chat miaule sans cesse dans la maison.

Il a réussi son exercice.

Les enfants chahutent dans la salle de classe.

Mais où va-t-il ?

Après l'école, il joue avec son frère.

Sur le plan, il lit très facilement.

G2 Trouve le bon verbe. 🖥️ 😊

G3 Place l'étiquette à la bonne place. 🖥️ 😊

G4 Trouve le verbe. 🖥️ 😊

CONJUGAISON

Reconnaître le verbe (suite)

Je récite cette règle le :

C.01 Copie cette règle sur le cahier de règle... 😊

*Pour désigner un verbe on donne son **infinitif**.*

*La voiture roule très vite : c'est le verbe **rouler***

*Je parle, tu as parlé, il parlait : c'est le verbe **parler***

*Rouler, parler, sentir, mordre, descendre, aller, faire, partir, croire, parcourir ...
sont des verbes à l'infinitif, ils ne sont pas conjugués.*

*Pour désigner un verbe on donne son **infinitif**. La voiture roule très vite : c'est le verbe **rouler***

*Je parle, tu as parlé, il parlait : c'est le verbe **parler***

Rouler, parler, sentir, mordre, descendre, aller, faire, partir, croire, parcourir ... sont des verbes à l'infinitif, ils ne sont pas conjugués.

C1 Place l'infinitif en face du verbe. 🖥️ 😊

C1 Trouve l'infinitif de chaque verbe. 🖥️ 😊

C3 Trouve l'infinitif de chaque série : faire – venir – voir – envoyer – prendre 😊

- * voyons - il a vu - vous verrez – tu voyais : c'est le verbe
- * je faisais – vous faites – ils feront – tu fais : c'est le verbe
- * il prend – vous prenez – je prenais – il prendra : c'est le verbe
- * nous viendrons – viens là ! – il est venu – je venais : c'est le verbe
- * elle envoie – tu envoyais – il envoya – vous envoyez : c'est le verbe

C4 Conjugue ces verbes pour que ces phrases aient un sens. 😊

- Les enfants dans la cour. (jouer)
- Bertrand bien. (chanter)
- Hier, je la télévision. (regarder)
- Demain, Paul à la piscine. (aller)

C5 Trouve l'infinitif du verbe. 🖥️ 😊

VOCABULAIRE

Utilisation du dictionnaire...

Recherche: *Comment classer en ordre alphabétique ? (jeu d'étiquettes VOC-contrat02).*

V1 Classe ces mots en ordre alphabétique : 😊

album - aluminium - allumettes - alchimie - barbe :
tableau - table - tablette - tablier - étable :

V2 Quel est le mot situé avant dans le dictionnaire... 🖥️ 😊

V3 Même consigne. 🖥️ 😊

V4 Même consigne. 🖥️ 😊

ORTHOGRAPHE

Les cédilles et les accents

O1 Ajoute les accents (au crayon à papier) dans ce texte. 😊

L'ete est une saison tres interessante car les enfants jouent dans les pres ou dans la foret. Les elephants barrissent, les guepards courent après leurs proies, les gazelles fuient devant les lionnes, les zèbres se cachent.

O2 Ajoute les accents et les cédilles. 😊

Un garçon – le glaçon – un bebe – une bete – il était enerve – belle – un lievre – La Suede – la Norvege – mon pere – mon frere – une bergere – la boulangere – un château hante - je suis cache – il est arrive – la riviere – la mer – ma grand-mere – par terre – l'air

O3 Trouve d'autres mots que tu placeras dans ce tableau. 😊

L'accent aigu	L'accent grave	L'accent circonflexe	La cédille
L'été	Mon père	Même	Le maçon

NUMERATION

Ordre et comparaisons, lire les grands nombres...

N1 Pose et effectue ces opérations (2 opérations par jour) 😊

$44 + 27 =$

$67 + 19 =$

$46 + 39 =$

$38 - 9 =$

$56 + 28 =$

$26 + 56 =$

$53 + 78 + 49 =$

$45 - 8 =$

$45 + 24 =$

$89 + 23 =$

$24 + 9 + 18 =$

$123 - 17 =$

N2 Lis ce qui est écrit en bleu page 18 et complète : 😊

Pour comparer des nombres à trois chiffres, tu regardes d'abord

Si les chiffres des centaines sont les mêmes, tu regardes

Un nombre placé entre deux nombres s'appelle un nombre

N3 Ecris en lettres... 😊

Dix-sept; cent-trente-cinq; quatre-cent-douze; six-cent-seize; deux-cent-trente-trois; mille-cinq-sept-cent-quarante-neuf; cent-dix-sept; huit-cent-huit; cinq-cents; trois-cent-quatre-vingt-quatorze

N4 Complète le avec les nombres suivants : 567 – 734 – 96 – 952 – 128 – 6 – 45 – 968

Écris ces nombres en lettre. 😊

nombre	C	D	U	en lettres
567				

MESURES

Mes 1 L'étiquette indique un prix à payer de 142 €. Maxime a bénéficié d'une réduction de 13 €.

Quel était le prix du vélo ? 😊

Mes 2 Leçon sur les heures à travailler en groupe classe. 😊

Recherche : Avec les pendules qui sont en classe, entraîne-toi à lire les heures. 😊

Devinettes :

- * Dans quelle ville y a-t-il les habitations les plus hautes ?
- * Quelle est la meilleure ville d'Allemagne ?
- * J'ai 12 pieds, 8 bras, 6 têtes et 3 doigts.
Qui suis-je ?
- * Comment fait-on cuire une sole sur un piano?

Jeu N° 2

- Je suis un ballon mais on ne peut pas jouer avec moi. Qui suis-je ?
- Dans quel département ne fait-il jamais nuit ?
- Quel est le fruit redouté des poissons ?
- Quelle est la note de musique préférée du menuisier ?

2		6
9		

15

4		
	6	16











30

5		
	7	17

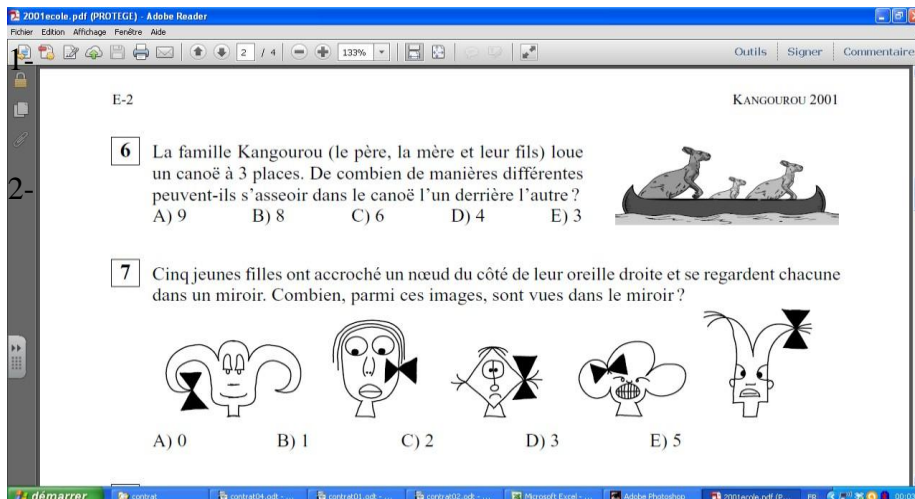
33

BILAN :

Ce que je pense de ce contrat :

Matière	Exercice N°	réussi	Ce que j'ai appris	
Grammaire	G1		Je sais reconnaître le verbe dans la phrase.	Oui +85% Non -85%
	G2 			
	G3 			
	G4 			
Conjugaison	C.01		Je sais trouver l'infinitif du verbe.	
	C1 			
	C2 			
	C3			
	C4			
Vocabulaire	V1		Je sais lire les nombres, 178...	
	V2 			
	V3 			
	V4 			
Orthographe	O1		Je sais nommer et dessiner carré et rectangles	
	O2			
Numération	N1		Je sais lire les heures entières.	
	N2			
	N3			
	N4			
Géométrie	Ge1			
	Ge2			
	Ge3 			
	Ge4			
Mesure	Mes 1			
	Mes 2 			

KANGOUROU DES MATHEMATIQUES



E-2 KANGOUROU 2001

6 La famille Kangourou (le père, la mère et leur fils) loue un canoë à 3 places. De combien de manières différentes peuvent-ils s'asseoir dans le canoë l'un derrière l'autre ?
 A) 9 B) 8 C) 6 D) 4 E) 3

7 Cinq jeunes filles ont accroché un nœud du côté de leur oreille droite et se regardent chacune dans un miroir. Combien, parmi ces images, sont vues dans le miroir ?

A) 0 B) 1 C) 2 D) 3 E) 5