

Appréciation


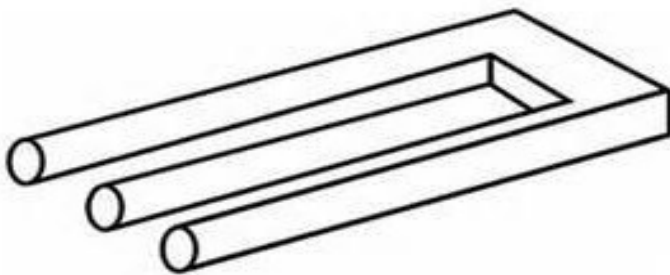

J'ai commencé ce contrat le :

Je l'ai fini le :

à revoir	
à revoir	
T.bien réussi	

CONTRAT N° 12

Cycle 3



Nom :

Prénom :

GRAMMAIRE



Mettre une phrase au singulier et au pluriel

Recherche : Va sur le padlet pour les explications: 

Elles chantent. – Les petits chats miaulent. – Les rues sont désertes. – Les vieilles fenêtres grincent.

Règle GR-12 sur le pluriel des noms et des verbes :

Au pluriel, les noms et les adjectifs prennent un « s », les verbes prennent « nt »

G1 Retourne sur ce padlet « grammaire » pour apprendre ce qu'est une phrase :  

.....

LECTURE

Lecture

L1 Entraîne-toi à lire le texte ci-dessous. Tu dois réussir à lire entièrement (et d'une manière très fluide) ce texte avant la fin du contrat n°12. (mais avant de tout lire, il faut aller sur le padlet avec des exercices qui préparent à la lecture). 

Le **raliconductochauffaryroultrovite** qui fonçait
comme une tempête, les fit tomber sur la
cranadoritête.

- « **vradoflûtagirazutalors** » ! dirent le

palinumoricaphe et la **luminoricafunicolète**,

« arrête ton engin, tu es dangereux !!! »

L2 Fais les exercices de lecture et de dictée du padlet (tous les jours)  😊 😊 😊 😊 😊

L3 Suite de la lecture.

Le **palinumoricaphe** et la **luminoricafunicolète**,
étaient couverts de **cradaboussalsanoreipartaire**.

Ils allèrent dans une **maisonafucabanoscouchosol**
pour se laver puis décidèrent de partir vers le
lac de **Tréguédéraitanfujaulimare**.

.....

CONJUGAISON

Savoir trouver le radical d'un verbe, connaître les pronoms

C1 Ecris le maximum de phrases en reliant l'adverbe au pronom puis le pronom au verbe : 😊

Fais cet exercice au crayon à papier...

<i>demain</i> *	* nous *	* parlons
	* elle *	* sortirez
	* je *	* jouais
<i>hier</i> *	* tu *	* dorment
	* ils *	* courait
<i>maintenant</i> *	* vous *	* viendra

Va sur ce padlet de conjugaison : 

ORTHOGRAPHE

Les accords sujet/verbe.

Avec ton tuteur, fais ces exercices.

O1 Mets la terminaison des mots qui ont une lettre finale muette en couleur 😊

Nous étudions le chant et la poésie.

Il faut plusieurs jours pour venir dans votre pays. Il a reçu un coup, le sang coule sur ses habits.

Ils font peur aux oiseaux.

O2 Trouve la terminaison de ces mots : (aide-toi du dictionnaire) 😊

*Un momen... - un espri... - c'est dou... - la gelé... - le toi... des maison...
- les bateau... dans le port... - Le do... - un tapi... - un acha... le marchan... .*

O3 Complète les terminaisons. 📱 😊

O4 Complète les terminaisons. 📱 😊

.....

NUMERATION

Les grands nombres.

N1 Pose et effectue ces opérations (2 opérations par jour). 😊

$141 + 128 =$

$512 + 318 =$

$154 + 122 =$

$22 \times 2 =$

$326 - 226 =$

$235 - 125 =$

$244 - 238 =$

$44 \times 2 =$

$55 \times 2 =$

$318 - 219 =$

$300 - 100 =$

$11 \times 2 =$

$52 - 17 =$

$18 \times 2 =$

$53 - 12 =$

$31 \times 2 =$

N2 Va sur le padlet de numération pour comprendre les nombres.



N3 Place ces nombres dans un tableau puis viens les lire à Philippe. 😊

137 – 248 – 169 – 215 – 420 – 237 – 223 – 13 – 124 – 333

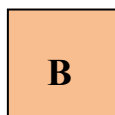
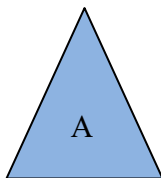
Tu dois construire le tableau comme ceci :

C (centaines)	D (dizaines)	U (unités)

.....


MESURES

Mes 1 *Quelle est la figure qui a le plus grand périmètre ? (mesure puis entoure la figure)* 😊



Mes 2 Trace trois pendules indiquant : 😊

Dix heures vingt – cinq heures trente – huit heures dix –



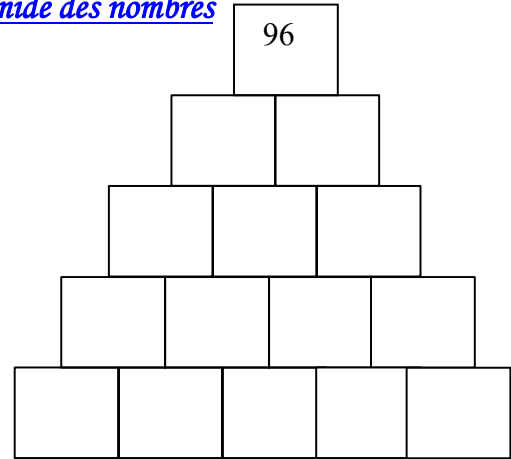
Enigmes à résoudre à plusieurs, en famille ou entre amis.

Carré magique

6		8
7		

15

Pyramide des nombres



Devinettes :

- * Dans quelle ville y a-t-il les habitations les plus hautes ?
- * Quelle est la meilleure ville d'Allemagne ?
- * Je suis un ballon, mais on ne veut pas jouer avec moi. Qui suis-je ?

BILAN :

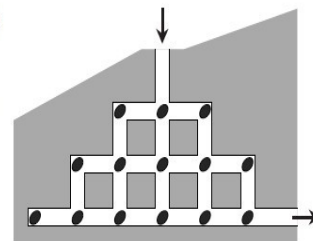
Ce que je pense de ce contrat :

Matière	Exercice N°	fait	Ce que j'ai appris	
Grammaire	Recherche R-GR12 ☑		Je sais... Je sais lire l'histoire du palinuroricafe entière.	oui ----- non -----
	GR.12			
	G1			
Lecture	L1		Je connais les verbes de la semaine.	
	L2 ☑			
	L3			
Conjugaison	C1		Je sais compter de deux en deux jusqu'à 20.	
	☑			
Orthographe	O1		Je sais faire des soustractions à retenues.	
	O2			
	O3			
	O4			
Numération	N1			
	N2 ☑			
	N3			
	Mes1			
	Mes 2			

KANGOUROU DES MATHÉMATIQUES

- 6 J'ai un morceau de papier de forme carrée. Je le coupe en deux d'un coup de ciseau rectiligne. Quelle forme ne peut être celle d'un des deux morceaux ?
A) un carré B) un rectangle C) un triangle rectangle
D) une figure à 5 côtés E) un triangle isocèle

- 7 La souris Jerry entre dans un système de tunnels qui contient 14 morceaux de fromage (voir la figure ci-contre). Elle n'a pas le droit de passer deux fois au même endroit. Quel est le nombre maximum de morceaux de fromage qu'elle pourra manger avant de sortir ?
A) 10 B) 11 C) 12
D) 13 E) 14



- 8 La date 01-03-05 (1^{er} mars 2005) est la première du XXI^e siècle à avoir la propriété suivante : « c'est une date constituée de 3 nombres impairs consécutifs dans l'ordre croissant. » En comptant la date donnée en exemple, combien y aura-t-il de dates du XXI^e siècle ayant cette propriété ?