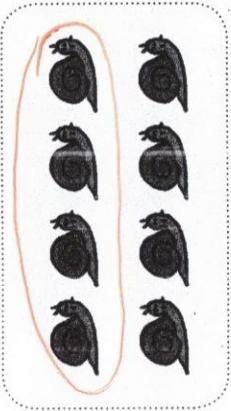



JE M'ENTRAÎNE (2)

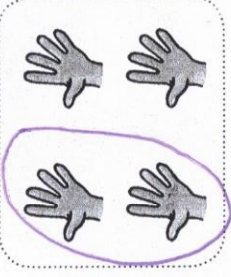
Entoure la moitié de chaque collection, puis complète le calcul.



$$4 + 4 = 8$$



$$6 + 6 = 12$$



$$10 + 10 = 20$$

2 Colorie de la même couleur les étiquettes qui représentent le même nombre.

soixante-quatre

5 d et 3 u

53

trente-cinq

5 u et 3 d

68

seize

16

4 u et 6 d

6 u et 1 d

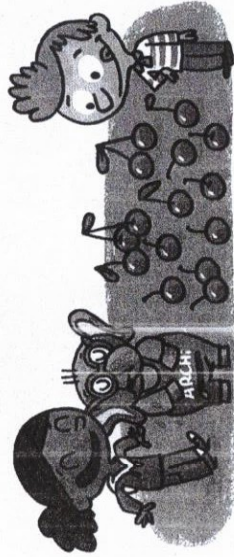
soixante-huit

8 u et 6 d

3 Lali, Nino et Archi se partagent

15 cerises.

Combien de cerises ont-ils chacun ?



$$15 = 7 + 7 + 1$$

Chacun a ...7... cerises.

4 Lali et Nino se partagent 32 €. Combien d'euros aura chacun ?



$$32 = 16 + 16$$

Chacun aura ...16... euros.

5 Complète.

$$60 + 12 = 72$$

$$60 + 14 = 74$$

$$70 + 9 = 79$$

$$60 + 2 = 62$$

$$70 + 4 = 74$$

$$70 + 7 = 77$$