


Nom : M. Antresse

Date : 09/04/21

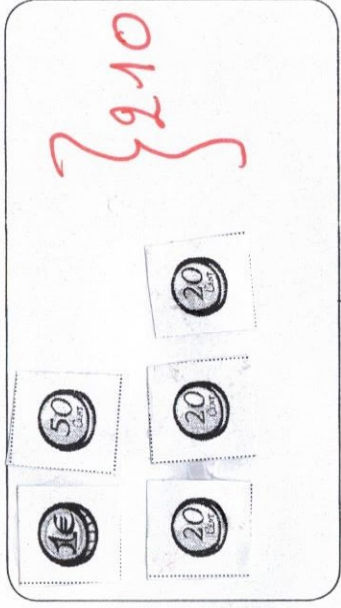
1 Découpe les étiquettes et colle la somme demandée.
Attention, tu dois respecter le nombre de pièces indiqué !

● Avec sept pièces :



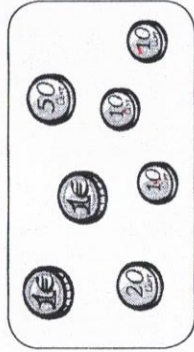
3 € 22 c

● Avec cinq pièces :



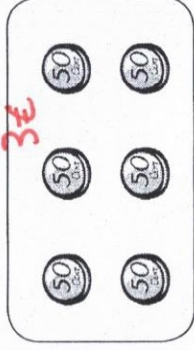
2 € 10 c ≈ 210c

2 Complète avec <, = ou >.



3€ =

= 3 €



3€

> 2 € 59 c

3 Dessine une somme d'argent plus grande que 2 € 10 c et plus petite que 250 c, sans utiliser de pièces de 1 € ou de 2 €.

↳ 2€50

