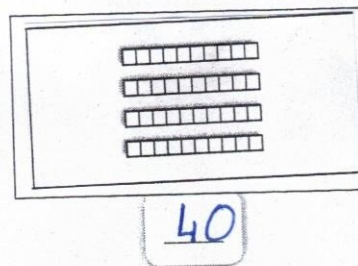
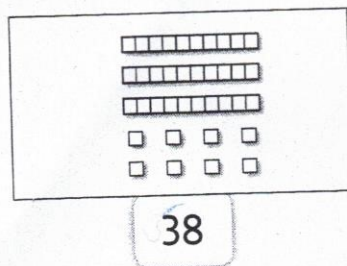


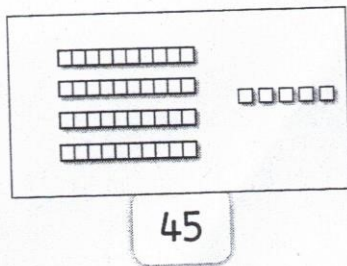



Position d'un nombre sur un axe

Nom :

Date : 06/04/2021

Découpe les étiquettes et colle-les au bon endroit, puis écris les nombres.



Écris ces nombres sur l'axe :

53

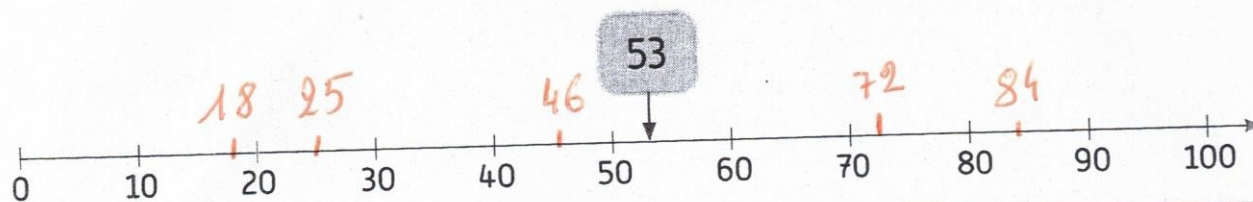
~~72~~

~~46~~

~~25~~

~~84~~

~~18~~



Complète avec des nombres qui conviennent.

$100 < \boxed{169} < 200$

$300 < \boxed{391} < 400$

$400 < \boxed{405} < 500$

$500 < \boxed{536} < 600$

$700 < \boxed{712} < 800$

$900 < \boxed{999} < 1000$

Complète avec des nombres qui conviennent.

