

# 25 Poser l'addition en colonnes avec retenue (1)

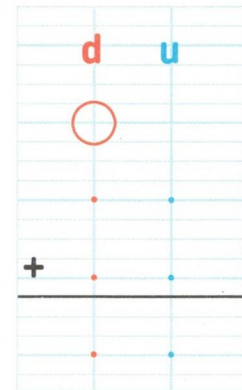
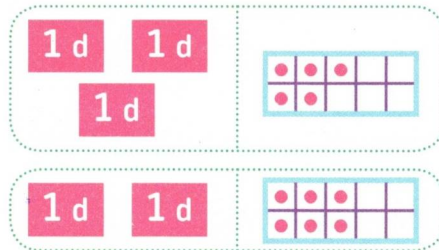
## CALCUL MENTAL

En appui sur le tableau des nombres, énoncer des devinettes du type : Je suis dans la ligne du 30 et la colonne du 7, etc.



Lali a 35 images et Nino en a 26.  
Combien d'images ont-ils en tout ?

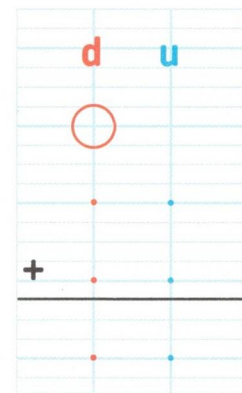
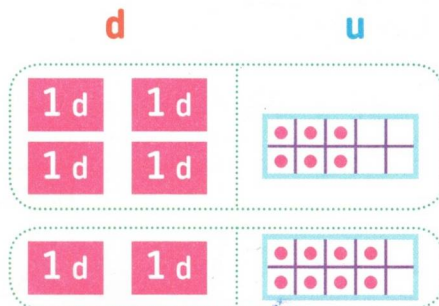
Je schématise ou je décompose :



$35 + 26 = \dots$  Lali et Nino ont ..... images en tout.

Dans la mare, il y a 46 grenouilles et 28 crapauds.  
Combien d'animaux y a-t-il en tout ?

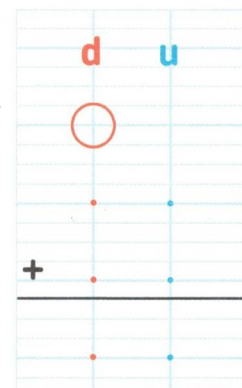
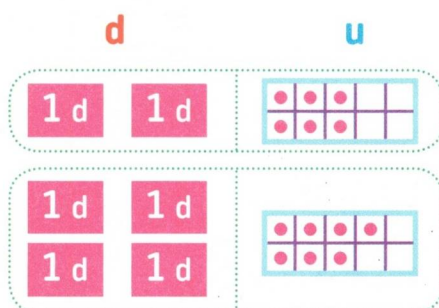
Je schématise ou je décompose :



$46 + 28 = \dots$  Il y a ..... animaux en tout.

Calcule :  $26 + 47$

Je schématise ou je décompose :



$26 + 47 = \dots$

CALCUL Énoncer J'étais la case ai-je av

1 Ef

2 P

4

3 B

4 c