

Feuille de route jeudi 14 mai

ON Y VA... INSPIRE... EXPIRE...



Rituel Un nouveau rituel vous attend à compter de cette semaine : la Transposition.

Tu vas devoir transposer le petit texte en suivant la consigne qui est soulignée, soit aujourd'hui, réécrire le texte mais en changeant les verbes, en les mettant au présent. Comme c'est la première fois, je te souligne les verbes, la prochaine fois, tu te débrouilleras tout(e) seul(e) !

Transpose au présent :

1

Il faisait effroyablement froid ; il neigeait depuis le matin; il faisait déjà sombre; le soir approchait, le soir du dernier jour de l'année. Au milieu des rafales, par ce froid glacial, une pauvre petite fille marchait dans la rue: elle n'avait rien sur la tête, elle était pieds nus.

La petite fille aux allumettes - Andersen -

Étude de la langue : le Futur : Cette semaine, on continue avec le futur et on s'entraîne avec les auxiliaires et les verbes irréguliers. Je t'ai préparé ces exercices.



Exercice 1 : Conjugue les verbes entre parenthèses au futur simple.

- Mona et Idir (**aller**) _____ à la plage et (**faire**) _____ des châteaux de sable.
- (**Être**) _____ -tu content quand nous (**avoir**) _____ un jardin ?
- On (**prendre**) _____ le train à la gare de l'Est.
- Vous (**vouloir**) _____ sûrement prendre une douche après votre séance de natation.
- Tu (**faire**) _____ un exposé sur Arthur Rimbaud.
- Nous (**devenir**) _____ des champions de tennis.
- Dans quelques mois, ma petite sœur (**pouvoir**) _____ se déplacer seule et (**dire**) _____ quelques mots.
- Tu (**aller**) _____ l'encourager car il ne (**pouvoir**) _____ pas y arriver seul.
- Nicolas (**reprendre**) _____ des forces et (**faire**) _____ tout son possible pour terminer la course.



Exercice 2 : Complète ces phrases en écrivant les verbes au futur.


régler, aller → Nous _____ cette affaire puis nous _____ déjeuner.

finir, pouvoir → Il _____ son livre et nous _____ le lire à notre tour.

avoir, partir → Quand vous _____ votre permis, vous _____ en vacances.

Mathématiques / Rituel :

C'est parti pour un peu de calcul mental ! En classe virtuelle, nous avons travaillé la multiplication et la division par 10, 100, 1000. A toi de jouer maintenant ! Clique sur l'encadrer ci-dessous, tu auras directement accès aux exercices.



Multiplier par 10, 100, 1000

Diviser par 10, 100, 1000

Multiplier et diviser par 10, 100, 1000

Multiplier et diviser par 10, 100, 1000 (QCM)

Choisis le bon opérateur

Mathématiques / mesures :

A partir de cette semaine, nous allons revoir le calcul du périmètre. Tu vas avoir besoin de ton livre de **mathématique** p 95 et 96.

T'EN SOUVIENS-TU ?

- Un carré possède :
 - 4 côtés égaux.
 - seulement 3 côtés égaux.
 - seulement 2 côtés égaux.
- Dans un rectangle, les largeurs sont :
 - les côtés les plus longs.
 - les côtés les plus courts.
- Un losange possède :
 - seulement 2 côtés égaux.
 - seulement 3 côtés égaux.
 - 4 côtés égaux.
- Le périmètre, c'est la mesure :
 - de la surface d'une figure.
 - du contour d'une figure.
- Pour obtenir 1 km, il faut :
 - 10 m.
 - 100 m.
 - 1 000 m.
- La moitié de 1 km 500 m, c'est :
 - 250 m.
 - 500 m.
 - 750 m.



CE QU'IL FAUT SAVOIR...

... sur l'énoncé

Le périmètre est la mesure du contour d'une figure.


Pour calculer le périmètre d'une figure dont les côtés sont des segments, on ajoute toutes les mesures des côtés.

Attention ! Ces mesures doivent être exprimées dans la même unité.

... sur la solution

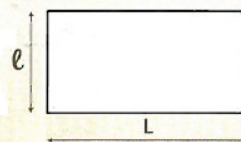
Pour calculer le périmètre d'un carré, il suffit de multiplier la mesure de son côté (c) par 4.

$$\text{périmètre (P) du carré} \\ P = c \times 4$$



Pour calculer le périmètre d'un rectangle, on fait la somme de sa longueur (L) et de sa largeur (l), puis on multiplie cette somme par 2.

$$\text{périmètre (P) du rectangle} \\ P = (L + l) \times 2$$



le n°2 p 96

et

le n°3 p 96

2 Recopie et complète le tableau pour ces carrés.

périmètre du carré	mesure du côté
18 cm	4,5 cm
... mm	12 mm
120 dm	... dm
... m	2,3 m
72 cm	... cm

« Mesure du côté »,
c'est périmètre
divisé par 4.

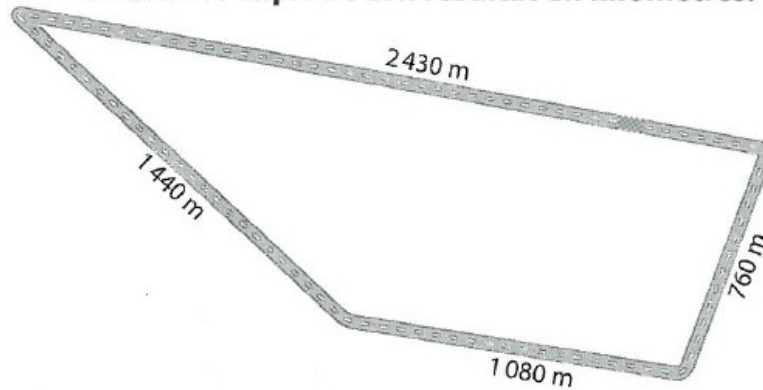


3 Recopie et complète le tableau pour ces rectangles.

longueur du rectangle	largeur du rectangle	demi-périmètre L + l	périmètre (L + l) x 2
14 cm	10 cm
...	23 cm	48 cm	...
30 cm	94 cm
...	18 cm	...	120 cm

En Bonus, fais le n°8 p 96

8 Quelle est la longueur d'un tour complet de ce circuit ? Exprime ton résultat en kilomètres.



Allez, Miam ! c'est l'heure de la pause déjeuner !



Nous sommes jeudi, c'est donc le jour de la lecture plaisir !
Installe toi dans un endroit calme et prends ton livre préféré.
C'est parti pour 15 min... Si tu dépasses, je ne te dirai rien...

Lecture compréhension

Cette semaine, j'ai envie de tester ta compréhension en lecture. Pour cela, voici un petit texte. Lis-le puis fais-en un dessin que tu m'enverras.

« Il plat ventre sur la plus grosse branche de tilleul, Colin, immobile comme un chasseur à l'affût, observe le manège du chat Tibère. Tapi sous un banc de l'allée où les miettes de pain font le régal des moineaux, Tibère attend patiemment que ceux-ci s'approchent suffisamment de lui pour bondir sur la proie qu'il convoite. »

Quand tu auras fini ton dessin, réponds aux questions suivantes :

Qui est dans l'arbre ?

Qui est Colin ?

Que regarde Colin ?

Où est le chat Tibère ?

Qui mange le pain ?

Histoire

Cette semaine, je te propose de nous arrêter sur une période appelée « L'entre deux guerres ».

L'entre-deux-guerres (1919 - 1939)

Pour comprendre, commence par regarder la vidéo en cliquant sur l'image :




1. LES ANNÉES FOLLES

Après la première guerre mondiale, le gouvernement français décide de reconstruire le pays et de redresser l'économie, les gens veulent se divertir et se détendre pour oublier toutes les horreurs de la guerre, ce sont les **années folles**.
Après la guerre, la France a connu une période de **prospérité et de dynamisme industriel**.



Les français découvrent aussi, grâce aux Américains, le jazz, la danse et certains sports.

Clique sur l'affiche pour découvrir qui était **Josephine Baker**, figure emblématique des années folles.



2. LA CRISE

En 1929, la bourse de New York s'est effondrée. Une grave **crise économique** a débuté. Elle a touché l'Europe pendant les années 30. L'activité économique a ralenti et beaucoup de Français ont **perdu leur emploi**.

C'est aussi durant cette période que des **dictatures** se constituent dans des pays d'Europe voisins de la France. Entre **1922 et 1926**, **Mussolini (le Duce)** installe en Italie un régime politique où le pouvoir appartient au seul parti **fasciste** (un parti autoritaire, nationaliste et militariste qui a recours à la violence et ne croit pas à l'égalité des êtres humains). En **1933**, **Hitler (le Führer)**, qui a acquis de plus en plus de pouvoir durant les années 20, devient **chef du parti nazi** (un autre parti fasciste). Il élimine toute opposition et commence à persécuter les Juifs.



3. LE FRONT POPULAIRE



Le climat politique est devenu de plus en plus tendu en France comme dans le reste de l'Europe.

En 1936, le **Front populaire** (partis de gauche qui s'unissent), a gagné les **élections législatives** et **Léon Blum** devient le chef du gouvernement.



Avec le Front populaire, les Français ont obtenu la **semaine de 40 heures** et, pour la première fois, **15 jours de congés payés**.

A RETENIR :

Complète le texte avec les mots : prospérité - Allemagne - reconstruire - faillite - se divertir - chômage - années folles - congés payés - 40 heures - crise économique - Front Populaire -

Après la première guerre mondiale, le gouvernement français décide de _____ le pays et de redresser l'économie, les gens veulent _____ et se détendre pour oublier toutes les horreurs de la guerre, ce sont les _____.

Après une courte période de _____, une _____ frappe le monde entier dans les années 1930, l'industrie fut gravement atteinte, de nombreuses usines firent _____ ce qui provoqua la montée du _____ et de la misère, surtout en _____ où Adolphe Hitler sera élu chancelier.

En 1936, devant la montée de l'extrême droite et du fascisme en Europe, les socialistes, les communistes et les syndicats s'unissent et constituent un _____ qui remporte les élections législatives de 1936. Les conditions des travailleurs s'améliorent :

- les _____ : on peut partir 15 jours en vacances en étant payé.
- semaine de _____ au lieu de 60h.

Tu as très bien travaillé pour aujourd'hui,
on s'arrête là... Sauf si tu as envie de DANSSSEERRRR !

