


Feuille de route jeudi 23 avril

- Prends une feuille simple (ou celle de mardi, si tu as encore de la place) et
- Écris la date d'aujourd'hui puis rituel car aujourd'hui....

Rendez-vous avec...le JOGGING d'ÉCRITURE !!!

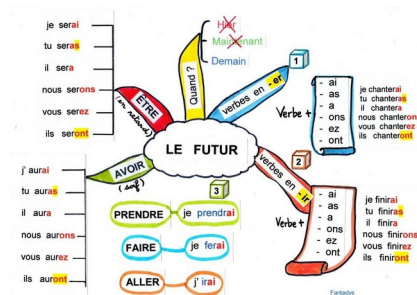


Souviens-toi ! Essaie d'imaginer quelque chose d'original et de rigolo ! Si tu veux bien m'envoyer ton travail, je pourrais faire un montage et poster plusieurs joggings de camarades.

Etude de la langue : le Futur

Tu vas avoir besoin de ton livre **Caribou** p 80 :

Pour commencer , une petite vidéo pour te rappeler la « recette » du futur :



Clique sur les terminaisons pour voir la vidéo :

Maintenant, on s'entraîne.

Commence avec le n°2 p 81

2 ★ Recopie et complète ces phrases avec les pronoms de conjugaison qui conviennent.

- ... souffleras tes bougies ce soir.
- Pendant que ... couperai les pommes, ... ferez la pâte à tarte.
- ... jouera de la guitare et ... chanteras.
- Dès que ... donnerez le signal, ... lancera la balle.
- ... viendront au gymnase et ... jouerons ensemble.

puis le le n°4 p 81

4 ★ Recopie et barre l'intrus dans chaque série.

- ils boiront – ils défont – ils crieront – ils croiront
- tu vendras – tu dîneras – tu déchiras – tu riras
- nous remplirons – nous finirons – nous obéirons – nous retirons
- vous pourrez – vous démarrez – vous courez – vous verrez

Pour les plus motivés, un **Bonus**, avec le n° 5 p 81

5 ★★ Recopie et complète ce texte avec les verbes suivants.

prépareront – passera – dégusterons – irons – pourrai – partiront

Le mois prochain, nous ... skier dans les Alpes. Nos amis ... quelques jours avant nous et ... notre arrivée. Je ... descendre les pistes avec mon nouveau snowboard. Mon petit frère ... sa première étoile. Nous ... des spécialités montagnardes.


C'est l'heure de la pause...



Mathématiques / Rituel :

On commence avec un nouveau rituel de mathématiques « Où est ma place ? »

Cinq garçons sont assis : Didier, Georges, Olivier, Richard et Vladimir.



Voici quelques indices :

- Vladimir est assis entre Richard et Georges.
- Olivier n'a qu'un voisin : c'est Richard qui tient un ballon.

Retrouve où est assise chaque personne

	1	2	3	4	5
Didier					
Georges					
Olivier					
Richard					
Vladimir					

Mathématiques / mesures :

Avant les vacances, nous avons commencé à travailler sur les durées.

Prends ton livre de **mathématique** p 116 et lis bien ce qui suit :

CHERCHONS ENSEMBLE

La solution expliquée

a Pour savoir à quelle heure Zoé sort de chez l'orthodontiste, j'additionne la durée de l'intervention à l'heure du rendez-vous (14 h 55 signifie 14 h 55 min).

$$\begin{aligned}14 \text{ h } 55 \text{ min} + 45 \text{ min} &= 14 \text{ h} + (55 + 45) \text{ min} \\ &= 14 \text{ h} + 100 \text{ min} \\ &= 14 \text{ h} + (60 \text{ min} + 40 \text{ min}) \\ &= 14 \text{ h} + (1 \text{ h} + 40 \text{ min}) \\ &= 15 \text{ h } 40 \text{ min}\end{aligned}$$

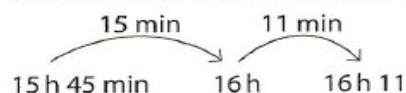
Zoé sort de chez l'orthodontiste à 15 h 40.

b Pour connaître la durée du trajet, je calcule la différence entre l'heure d'arrivée et l'heure de départ.

L'heure d'arrivée de Zoé chez elle est 16 h 11.
L'heure de départ de chez l'orthodontiste est 15 h 45.

$$\begin{aligned}16 \text{ h } 11 - 15 \text{ h } 45 &= ? \text{ est équivalent à l'addition à trou :} \\ 15 \text{ h } 45 + ? &= 16 \text{ h } 11\end{aligned}$$

Pour trouver facilement cette durée, je procède par petits sauts (en utilisant une heure « entière ») comme sur le schéma ci-dessous.



$$15 \text{ min} + 11 \text{ min} = 26 \text{ min}$$

Le trajet du retour a duré 26 min.

Maintenant, à ton tour !

J'APPLIQUE

- a** Enzo va chez sa grand-mère, qui habite près de Nice, en train. Le train démarre à 7 h 31 et le trajet dure 3 h 40 min. À quelle heure son train arrivera-t-il en gare de Nice ?
- b** Il faut compter 10 min pour descendre du train et sortir de la gare. Puis de la gare à chez sa grand-mère, il faut encore 18 min en voiture pour arriver à destination. À quelle heure Enzo arrivera-t-il enfin chez sa grand-mère ?



Allez, Miam ! c'est l'heure de la pause déjeuner !



Nous sommes jeudi, c'est donc le jour de la lecture plaisir !
Installe toi dans un endroit calme et prends ton livre préféré.
C'est parti pour 15 min... Si tu dépasses, je ne te dirai rien...

Littérature : Meurtre mystérieux au jardin des plantes (chapitre 7bis)

Littérature : Meurtre mystérieux au jardin des plantes (chapitre 7bis)

Tout d'horizon 7 bis

Remets ces actions dans l'ordre en les numérotant :

- Albert soupe, puis joue aux cartes avec sa tante.
- Madame Palouvier espionne Albert et Aline dans l'escalier.
- Albert ôsepose les déts de la ménagerie et du zoo dans le tiroir du buffet de sa tante.
- Sur le palier du 5^e, Albert discute avec Aline.

Réponds à la place de la personne accusée :

- Avec qui avez-vous frappé le lion ?
- Comment avez-vous ouvert la grille du zoo ?
- Quel animal bavard avez-vous croisé ?
- Où dormait le lion ?
- Pourquoi avez-vous tué ce pauvre lion ?

Quel autre détail avait alerté Henri (observe l'illustration p. 83) ?

Cette fois, es-tu sûr(e) de l'identité du coupable ?

Revue

Les périphrases

Utiliser des périphrases, c'est exprimer en plusieurs mots ce que l'on pourrait désigner par un seul : le roi des animaux correspond au lion.

Retrouve les mots qui se cachent derrière ces périphrases :

La capitale de la France :

La planète bleue :

La grande dame de fer :

L'astre du jour :

L'étoile du berger :

Bon... Tu dois commencer à avoir des soupçons !
Mais alors...
QUI A TUE CE LION ??



Histoire

A partir d'aujourd'hui, et pour les semaines à venir, nous allons commencer à nous intéresser aux conflits du Xxème siècle. Tu l'as deviné !

Je parle bien de la Première guerre mondiale, celle de 1914-1918.

Cette semaine, nous allons commencer avec les causes, c'est à dire comprendre ce qui a déclenché cette grande guerre.

LA PREMIERE GUERRE MONDIALE : LES ORIGINES DU CONFLIT

DES RIVALITES COLONIALES

A la fin du XIX^{ème} (19) siècle, les pays européens colonisent l'Afrique et se partagent les territoires.

L'Allemagne n'obtient que très peu de terres et a donc une zone d'influence réduite.

On, dans le même temps, l'industrie demande se développer. Elle a besoin de se fournir en matières premières et de trouver des débouchés pour écouler ses produits.

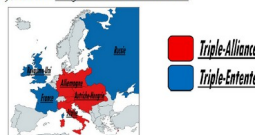
Des tensions naissent alors entre l'Allemagne et les deux grandes puissances coloniales en Afrique : la France et le Royaume-Uni.

Les conflits de territoires sont également nombreux en Europe. La Russie et l'Autriche-Hongrie s'affrontent au centre de l'Europe. La France, elle, veut reprendre l'Alsace et la Lorraine, devenues allemandes après la défaite de 1871.

DEUX SYSTEMES D'ALLIANCES OPPOSES

Au début du XX^{ème} (20) siècle, les pays européens sont donc en rivalité et nouent des alliances formant ainsi deux camps : le Triple-Alliance et le Triple-Entente.

La Triple-Alliance réunit l'Allemagne, l'Autriche-Hongrie et l'Italie, tandis que le Triple-Entente regroupe au sein d'un même camp la France, le Royaume-Uni et la Russie. Les deux blocs se préparent à la guerre. La course aux armements s'accroît et plusieurs pays décident d'augmenter la durée du service militaire.



L'ENTREE DANS LA GUERRE

Le 28 juin 1914, l'héritier de l'empire austro-hongrois, François-Ferdinand, est tué à Sarajevo en Bosnie par un étudiant serbe. L'Autriche-Hongrie accuse la Serbie, pays soutenu par la Russie, d'avoir armé l'assassin et lui déclare la guerre le 28 juillet. Par le jeu des alliances, les déclarations de guerre se succèdent : l'Allemagne et la Russie entrent dans le conflit le 1^{er} août, la France le 3 août et le Royaume-Uni le 4 août.

A TOUT DE JOUER :

Après avoir attentivement les documents, tu vas répondre aux questions et colorier la carte :

- Qu'est ce qui crée des tensions entre les nations en Europe ? Entoure les bonnes réponses.
Les différences de religion
La lutte pour le contrôle de l'Afrique
- Les rivalités coloniales
Les différences de régime (monarchie, républicain)
- Cite les 3 pays membres de la triple alliance ?
- Cite les 3 pays membres de la triple entente ?
- Quel est associé le 28 juin 1914 ?
- Quel pays allié de la France est également allié de la Serbie ?



Bravo ! C'est fini pour aujourd'hui !