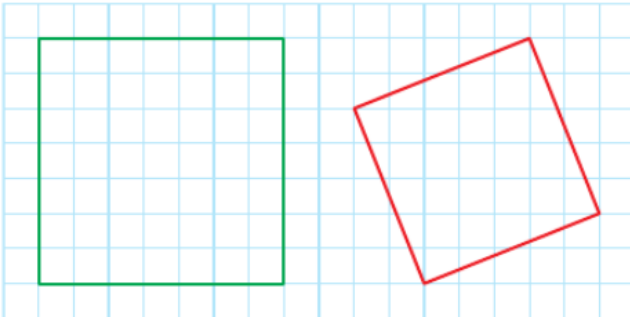


# Géométrie CM1 : Tracer des carrés et des rectangles

## Tracer un carré sur papier quadrillé

1 \* Reproduis ces carrés.

Place d'abord les sommets.



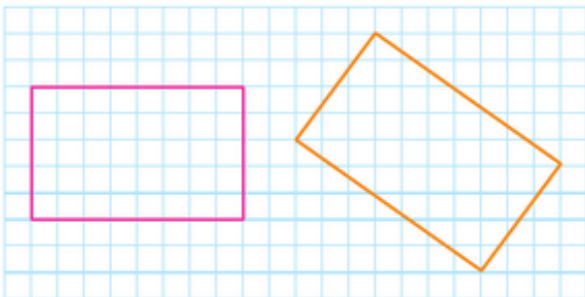
## Construire un carré sur papier uni

5 \* Construis un carré MNOP de 6 cm de côté en utilisant ta règle graduée et ton équerre.

## Construire un rectangle sur papier quadrillé

7 \* Reproduis ces rectangles.

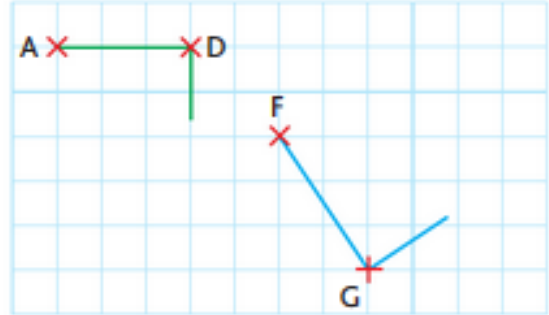
Place d'abord les sommets.



## Construire un rectangle sur papier uni

9 \* Construis un rectangle ABCD de 9 cm de longueur et de 5 cm de largeur en utilisant ta règle et ton équerre.

3 \* On a commencé à tracer les carrés ADCB et FGHE. Termine leur construction.



8 \* On a commencé à tracer les rectangles ABCD et FGHE. Termine la construction.

