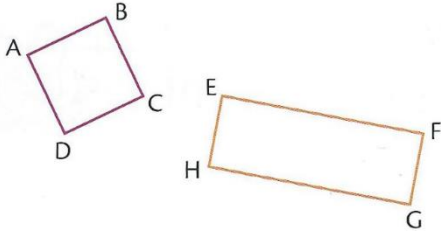
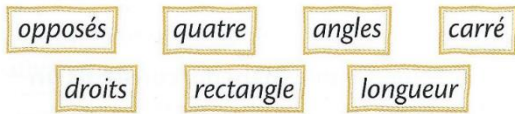


Correction des exercices du mardi 2 juin

GEOMETRIE

Exercice n°1 : connaître le vocabulaire



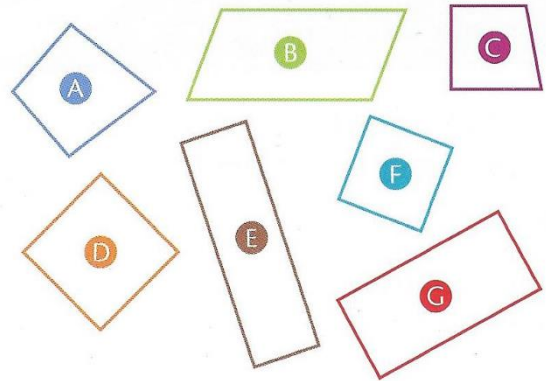
ABCD est un **carré**. Il a **quatre** sommets, quatre angles **droits** et quatre côtés de même **longueur**.

EFGH est un **rectangle**. Il a **quatre** sommets et quatre **angles** droits. Ses côtés **opposés** sont de même longueur.

Exercice n°2 : reconnaître un rectangle, un carré

Les **carrés** sont les figures **D** et **F**.

Les **rectangles** sont les figures **E** et **G**.



Exercice n°3 : reconnaître un quadrilatère d'après sa description.

Qui suis-je ? (carré – losange - rectangle)

- J'ai 4 côtés de même longueur et je n'ai pas d'angle droit. : **le losange**
- Mes côtés opposés sont de même longueur et j'ai 4 angles droits. : **le rectangle**
- J'ai 4 angles droits et mes côtés ont la même longueur. : **le carré**

GRAMMAIRE : le complément du nom

- Les parents de Raphaël assistent souvent à des concerts de jazz.
- Vous n'aimez pas les bonbons à la menthe.
- Simon pratique le hockey sur glace.
- A la crêperie du port, on appréciait surtout les crêpes au chocolat et aux amandes.
- J'ai acheté un très beau pantalon en coton rue de la Monnaie.