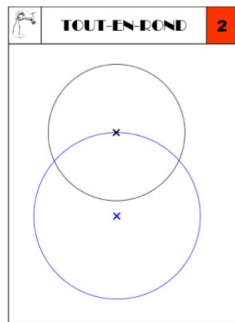


# Lundi 8 juin

## Temps 1: Activité ritualisée (20min)



Reproduis la figure derrière la feuille. Respecte les mesures des rayons.

Mets la pointe du compas sur la croix et écarte le crayon pour trouver l'écartement donc le rayon de chaque cercle.

PROBLÈMES CE2 (3)		2
Dans son jardin, grand-père avait compté 36 petites tomates avant de partir en vacances. Lorsqu'il est revenu de vacances, il a compté 113 tomates.		
Combien de tomates ont poussé durant son absence ?		



Carte 17 :

- Trace le segment [BF]. Trace son milieu et appelle-le M.
- Trace le segment [BG].
- Trace le cercle de centre M et de rayon 5 cm. Il coupe le segment [BG] à deux endroits. Le trésor se trouve dans la ville la plus proche de ce point au sud et à l'intérieur du cercle.
- La ville du trésor est : .....



## Temps 2 : Orthographe(1) (15min)

### Recopie les mots de la série 22.

Orthographe - CE2 Le pluriel des noms : noms en -s, -x ou -z Fiche n°1

- Sur ton cahier, ne récris que les groupes nominaux qui sont au pluriel.  
quelques lapins - des pits - un curieux - le nez - des manchoux - une noix - des chais - trois fois mes joujoux - le corps - des abus - un rébus - des tas - plusieurs os - des pieux - deux clous des pots - vos crâs - un refus - cinq cailloux - un ours - plusieurs cols - le jus - un bas - un gaz
- Sur ton cahier, écris au pluriel tous les groupes nominaux que tu as recopiés à l'exercice 1.
- Voici une liste de noms au singulier. Entoure ceux qui ne changent pas au pluriel.  
nez chaton souris bœuf animal temps gaz champ  
Sangis curieux legard tapis film vaseau caillou
- Sur ton cahier, écris ces groupes nominaux au pluriel.  
les progrès - les palais - les bois - les lavabos - les fourmis - des mois - des tribus  
des logs - des dis - les débarras - les numéros - des lils - des croix - des emplois
- Complète avec un déterminant qui convient. Pour t'aider, observe bien la terminaison du verbe.  
a. \_\_\_ feuilles tombent à l'automne.  
b. \_\_\_ gaz blancs montent de la cheminée.  
c. \_\_\_ gaz arrive chez nous par des gazoducs.  
d. \_\_\_ tapis retient les paillettes d'or.  
e. \_\_\_ tapis servent à passer le potage.  
f. \_\_\_ chamois courent sur les sommets rocheux.  
g. \_\_\_ chamois bondit en apercevant le chasseur.  
h. \_\_\_ Marquis de Carabas a été imaginé par Charles Perrault.  
i. Au 17<sup>ème</sup> siècle, \_\_\_ marquis portaient des perruques blanches poudrées.

### Les pluriels des noms (3)

Fais la feuille d'exercices que tu as dans ta pochette sur le pluriel des noms en s, x ou z

Attention il y a des pluriels irréguliers des noms

Regarde cette petite vidéo

des travaux



**Pause détente proposée par Mme Monzein si vous voulez**

« Une bulle magique » (séance n°12). Suis le lien suivant :

<https://www.petitbambou.com/fr/unlock/kids/5ec1500408423/5ec1500411e69>

## Temps 4 : Mathématiques

**Calcul(6)** (15min)

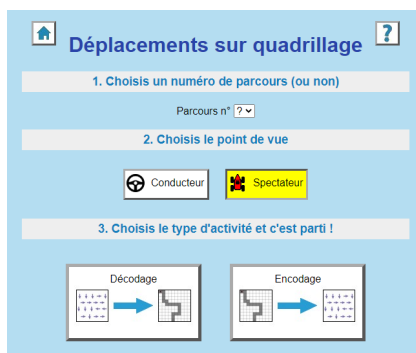
Entraîne-toi sur le site <https://matheros.fr/>

Identifiant : **Morisseau**

Mot de passe : **Classe 14 (avec un espace )**

**Espace(3)**(30min)

Reprend le jeu en ligne « Déplacement sur quadrillage » ou le jeu beebot



Puis fais la feuille quadrillage flèche que je mets sur le blog. Tu n'a pas besoin de la télécharger mets tes réponses sur une feuille.


**Pause repas**



**Temps 5 : Lecture (1)**(30min)

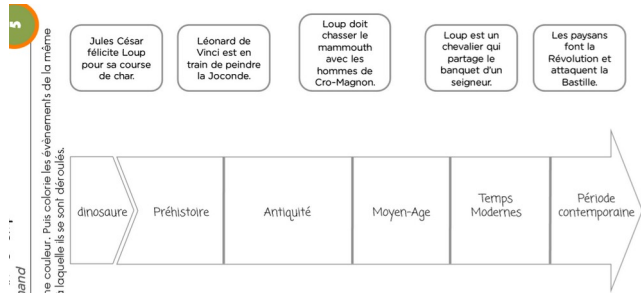
Prends la feuille( texte 1) dans ta pochette « Le loup qui voyageait dans le temps » et fais la feuille de présentation qui va avec.

## Temps 6: Temps




Nous allons revoir la frise chronologique grâce à notre histoire « le loup qui voyageait dans le temps. Te rappelles -tu des grandes périodes ?

Prend la fiche (dans ta pochette) sur la frise chronologique et commence à la faire.



Suivez les péripéties de Léo, Gladis, Jimmy, Josépha et Moussa. Embarquez à bord du Nautilus et (re)découvrez l'histoire de la préhistoire à nos jours. (épisodes 1,2 et 3)



## Temps 7: EPS (2)(20min)

Continue d'apprendre la chorégraphie

