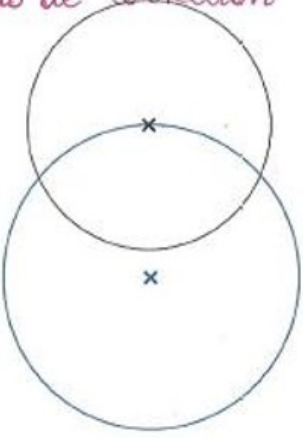


# Correction lundi 8 juin

## Temps 1: Activité ritualisée

**TOUT-EN-ROOND** 2

*Pas de correction*



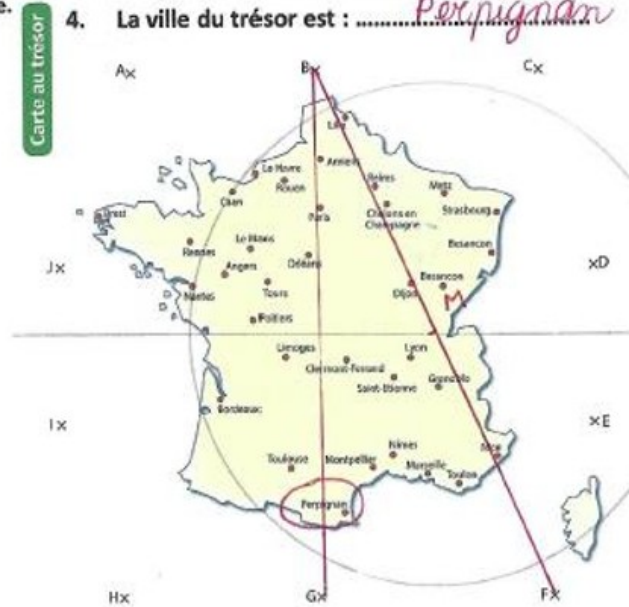
Reproduis la figure derrière la feuille. Respecte les mesures des rayons.

Mets la pointe du compas sur la croix et écarte le crayon pour trouver l'écartement donc le rayon de chaque cercle.

**CARTE AU TRÉSOR**  

**Carte 17 :**

- Trace le segment [BF]. Trace son milieu et appelle-le M.
- Trace le segment [BG].
- Trace le cercle de centre M et de rayon 5 cm. Il coupe le segment [BG] à deux endroits. Le trésor se trouve dans la ville la plus proche de ce point au sud et à l'intérieur du cercle.
- La ville du trésor est : ..... *Perpignan*



**PROBLÈMES CE2 (3)** 2

ans son jardin, grand-père avait compté 36 petites tomates avant de partir en vacances. Lorsqu'il est revenu de vacances, il a compté 13 tomates.

ombien de tomates ont poussé durant son absence ?

*113 - 36 = 77*

*77 tomates ont poussé durant son absence.*

$$\begin{array}{r} 113 \\ - 36 \\ \hline 77 \end{array}$$

## Temps 2 : Orthographe

1. Sur ton cahier, ne récris que les groupes nominaux qui sont au singulier.

quelques tapis – des prix – un curieux – le nez – des manteaux – une noix – des choix – trois fois  
mes joujoux – le corps – des abus – un rébus – des tas – plusieurs os – des pieux – deux clous  
des pois – vos cris – un refus – cinq cailloux – un ours – plusieurs colis – le jus – un bas – un gaz

2. Sur ton cahier, écris au pluriel tous les groupes nominaux que tu as recopiés à l'exercice 1.

3. Voici une liste de noms au singulier. Entoure ceux qui ne changent pas au pluriel.

nez chaton souris berceau animal temps gaz champ  
Français curieux lézard tapis félin voisin caillou

4. le progrès – le palais – le bois – le lavabo – le tournoi – le mois – la tribu – le logis – le ski – le débarras – le numéro – le lilas – la croix – l'emploi

5-

Les feuilles tombent à l'automne.

Les gaz blancs montent de la cheminée.

Le gaz arrive par chez nous par des gazoducs.

Le tamis retient les paillettes.

Les tamis servent à passer le potage.

Les chamois courent sur les sommets rocheux.

















Le chamois bondit en apercevant le chasseur.

Le Marquis de Carabas a été imaginé par Charles Perrault.


Au 17ème siècle, les marquis portaient des perruques blanches poudrées.

**Les pluriels des noms (3)**

**Temps 4 : Mathématiques**

	↓ ↓ → → ↓ ↓ ← ← ←	?	
	→ → ↓ → → ↓ ↓ → → →	?	
	→ ↓ → → ↑ → ↑ ↑	?	
	→ → ↑ → → ↓ → → →	?	
	→ ↑ ↑ → → ↓ → → ↑ → →	?	
	→ ↓ → → → ↑ ↑ → ↓ ↓ ↓	?	
	→ ↑ → ↑ ↑ ← ↑ ↑ ←	?	
	↑ ↑ → → → ↑ ↑ → ↑ → →	?	

## Temps 5 : Lecture



le titre

l'auteur

l'illustrateur

l'illustration

l'éditeur

2) A ton avis, à quelles époques Loup va-t-il voyager ? Explique ta réponse.

Il va voyager à l'époque du Moyen-âge car on le voit habillé en chevalier et aussi à l'époque des Temps Modernes.

## Temps 6: Temps

**5**

**Le loup qui voyageait dans le temps**  
texte de Oriane Lallemand

Colorie chaque période d'une couleur. Puis colorie les événements de la même couleur que la période à laquelle ils se sont déroulés.

Jules César félicite Loup pour sa course de char.	Léonard de Vinci est en train de peindre la Joconde.	Loup doit chasser le mammoth avec les hommes de Cro-Magnon.	Loup est un chevalier qui partage le banquet d'un seigneur.	Les paysans font la Révolution et attaquent la Bastille.	
dinosaure	Préhistoire	Antiquité	Moyen-Age	Temps Modernes	Période contemporaine
Loup rencontre un pharaon de l'Egypte Ancienne.	Loup participe à un bal au château de Versailles avec Louis XIV.	Loup fait ses premiers pas sur la Lune.	Loup rencontre un diplodocus et un tyrannosaure.	Christophe Colomb découvre l'Amérique.	